

**PHIẾU BÀI TẬP TOÁN 2**

**TUẦN 4 – ĐỀ 2**

**Bài 1. Đặt tính rồi tính tổng của hai số :**

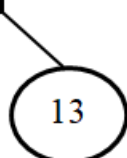
19 và 35;                      39 và 37;                      69 và 13;                      59 và 9

.....                      .....                      .....                      .....

.....                      .....                      .....                      .....

.....                      .....                      .....                      .....

**Bài 2. Nối (theo mẫu) :**

$9 + 4$	$8 + 7$	$9 + 6$	$8 + 8$
 <span style="border: 1px solid black; border-radius: 50%; padding: 5px; display: inline-block;">13</span>	<span style="border: 1px solid black; border-radius: 50%; padding: 5px; display: inline-block;">14</span>	<span style="border: 1px solid black; border-radius: 50%; padding: 5px; display: inline-block;">15</span>	<span style="border: 1px solid black; border-radius: 50%; padding: 5px; display: inline-block;">16</span>
$9 + 7$	$8 + 5$	$9 + 5$	$8 + 6$

**Bài 3.** Năm nay mẹ 28 tuổi. Bố hơn mẹ 4 tuổi. Hỏi năm nay cả bố và mẹ tổng cộng bao nhiêu tuổi ?

.....

.....

.....

.....

.....

.....

.....

**Bài 4. Vẽ đoạn thẳng có độ dài :**

a)  $AB = 1\text{dm}$ .

.....  
.....

b)  $CD = 6\text{cm}$ .

.....  
.....

**Bài 5. Khoanh vào phép cộng có kết quả bé nhất :**

A.  $29 + 43$

B.  $34 + 39$

C.  $68 + 3$

**LỜI GIẢI CHI TIẾT****Bài 1.****Phương pháp giải :**

- Đặt tính : Viết phép tính sao cho các số cùng hàng đặt thẳng cột với nhau.
- Tính : Cộng các số theo thứ tự từ phải sang trái.

**Lời giải :**

$$\begin{array}{r} 19 \\ + 35 \\ \hline 54 \end{array}$$

$$\begin{array}{r} 39 \\ + 37 \\ \hline 76 \end{array}$$

$$\begin{array}{r} 69 \\ + 13 \\ \hline 82 \end{array}$$

$$\begin{array}{r} 59 \\ + 9 \\ \hline 68 \end{array}$$

**Bài 2.****Phương pháp giải :**

Thực hiện các phép cộng trong ô vuông rồi nối với kết quả tương ứng trong hình tròn.

**Lời giải :**

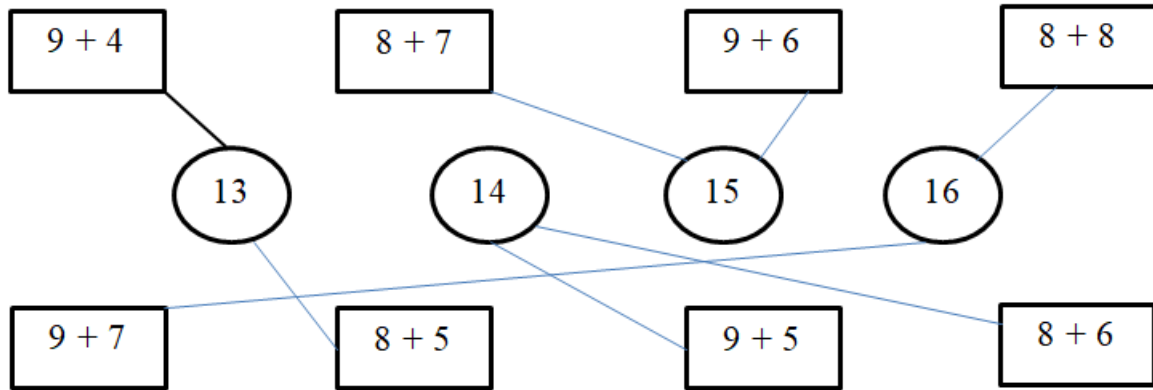
Ta có:  $9 + 4 = 13$  ;       $8 + 7 = 15$  ;

$9 + 6 = 15$  ;       $8 + 8 = 16$  ;

$9 + 7 = 16$  ;       $8 + 5 = 13$  ;

$9 + 5 = 14$  ;       $8 + 6 = 14$

Vậy ta nối như sau:

**Bài 3.****Phương pháp giải :**

*Tóm tắt :*

Mẹ : 28 tuổi

Bố hơn mẹ : 4 tuổi

Cả hai : ... tuổi ?

Muốn tìm đáp án, trước tiên ta phải tìm số tuổi của bố bằng cách lấy tuổi của mẹ cộng với 4, sau đó tính tổng số tuổi của mẹ và số tuổi của bố.

**Lời giải :**

Năm nay, số tuổi của bố là :

$$28 + 4 = 32 \text{ (tuổi)}$$

Tổng số tuổi của bố và mẹ là :

$$28 + 32 = 60 \text{ (tuổi)}$$

Đáp số : 60 tuổi.

**Bài 4.****Phương pháp giải :**

- Đổi 1dm = 10cm.
- Đánh dấu trên thước một điểm.

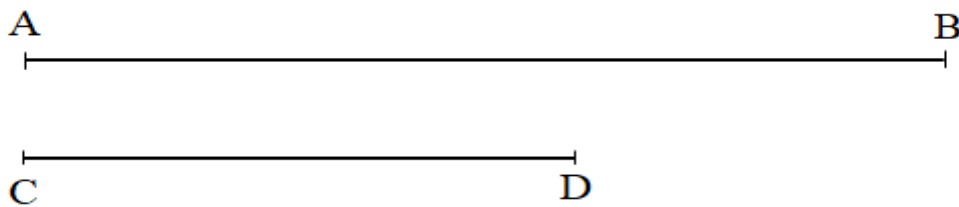
- Tay phải cầm bút chì, tay trái cầm thước kẻ, đặt thước sao cho vạch 0cm trùng với điểm vừa đánh dấu, giữ thẳng thước, đánh dấu điểm trùng với vạch 10cm và 6cm trên thước.

- Tiếp tục giữ thước rồi dùng bút chì nối hai điểm vừa đánh dấu dọc theo cạnh của thước, viết tên hai điểm.

**Lời giải :**

Học sinh dùng thước vẽ có chia vạch xăng-ti-mét. Vẽ từ vạch số 0 đến vạch số 10 và vạch số 6.

Dựa vào thước dùng bút nối hai điểm đó, ta được đoạn thẳng AB dài 1dm và CD dài 6cm.



**Bài 5.**

**Phương pháp giải :**

Tính lần lượt các phép tính.

So sánh kết quả rồi khoanh vào đáp án có giá trị bé nhất.

**Lời giải :**

Ta có:  $49 + 23 = 72$

$34 + 39 = 73$

$68 + 3 = 71$

So sánh các số ta có:  $71 < 72 < 73$ .

Vậy phép tính có kết quả bé nhất là  $68 + 3$ .

Chọn đáp án C.