

## PHIẾU BÀI TẬP TOÁN 2

## TUẦN 7 – ĐỀ 2

## Bài 1. Đặt tính rồi tính :

$6 + 37$

.....

.....

.....

$46 + 9$

.....

.....

.....

$16 + 8$

.....

.....

.....

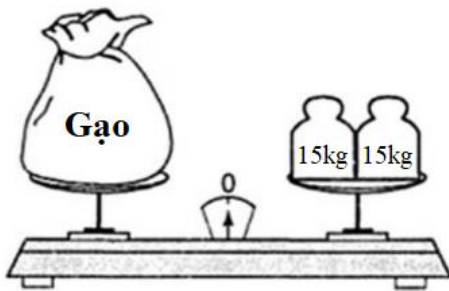
$76 + 5$

.....

.....

.....

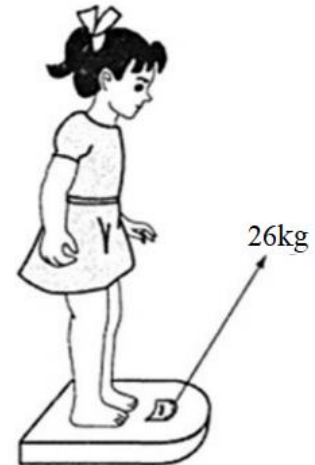
## Bài 2. Điền (bằng số và chữ) vào chỗ chấm :



a) Bao gạo nặng ..... kg.



b) Con vịt nặng .... kg.



c) Bạn nữ nặng ..... kg.

## Bài 3. Giải bài toán theo tóm tắt sau :

Bao cát nặng : 46kg

Bao thóc nhẹ hơn : 5kg

Bao thóc nặng : ... kg ?

.....

.....

.....

.....

**Bài 4.** Cô Lan mua 26 cái bánh. Cô Hương cho cô Lan thêm 9 cái. Hỏi cô Lan có tất cả bao nhiêu cái bánh ?

.....

.....

.....

.....

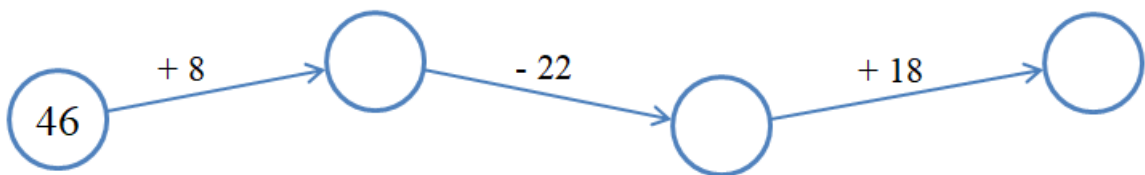
.....

.....

.....

.....

**Bài 5.** Điền vào chỗ trống :



**LỜI GIẢI CHI TIẾT****Bài 1****Phương pháp giải :**

- Đặt tính : Viết phép tính sao cho các số cùng hàng đặt thẳng cột với nhau.
- Tính : Cộng lần lượt các số theo thứ tự từ phải sang trái.

**Lời giải :**

$$\begin{array}{r} 6 \\ + 37 \\ \hline 43 \end{array}$$

$$\begin{array}{r} 46 \\ + 9 \\ \hline 55 \end{array}$$

$$\begin{array}{r} 16 \\ + 8 \\ \hline 24 \end{array}$$

$$\begin{array}{r} 76 \\ + 5 \\ \hline 81 \end{array}$$

**Bài 2.****Phương pháp giải :**

Đọc cân nặng trên quả cân/cân rồi điền vào chỗ chấm theo hai cách : bằng số và bằng chữ.

**Lời giải :**

a)  $15\text{kg} + 15\text{kg} = 30\text{kg}$ .

Bao gạo nặng  $30\text{kg}$  / ba mươi ki-lô-gam.

b) Con vịt nặng  $2\text{kg}$  / hai ki-lô-gam.

c) Bạn nữ nặng  $26\text{kg}$  / hai mươi sáu ki-lô-gam.

**Bài 3.****Phương pháp giải :**

Muốn tìm đáp án, ta lấy số cân nặng của bao cát trừ đi  $5\text{kg}$ .

**Lời giải :**

Bao thóc cân nặng số ki-lô-gam là :

$$46 - 5 = 41 \text{ (kg)}$$

Đáp số :  $41\text{kg}$ .

**Bài 4.****Phương pháp giải :***Tóm tắt :*

Ban đầu cô Lan : 26 cái bánh

Cô Hương cho cô Lan : 9 cái

Cô Lan có : ... cái bánh ?

Muốn tìm đáp số, ta lấy số bánh của cô Lan cộng với 9 cái bánh.

**Lời giải :**

Cô Lan có tất cả số cái bánh là :

$$26 + 9 = 35 \text{ (cái)}$$

Đáp số : 35 cái bánh.

**Bài 5.****Phương pháp giải :**

Thực hiện lần lượt các phép tính từ trái qua phải rồi điền kết quả vào chỗ trống.

**Lời giải :**

Ta có:  $46 + 8 = 54$  ;

$54 - 22 = 32$  ;

$32 + 18 = 50$ .

Vậy ta có kết quả như sau:

