

BÀI TẬP CUỐI TUẦN TOÁN 2

Tuần 23 – Đề 1

Phần 1. Trắc nghiệm

Câu 1. Đúng ghi Đ, sai ghi S:

a) Có 8 quả cam xếp đều vào 2 đĩa. Hỏi mỗi đĩa có mấy quả cam?

2 quả cam ...

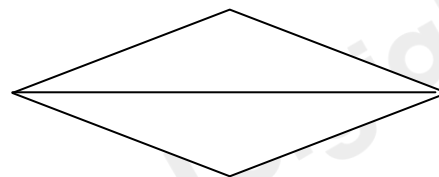


4 quả cam ...

b) Có 8 quả cam xếp vào các đĩa, mỗi đĩa 4 quả. Hỏi có mấy đĩa cam?


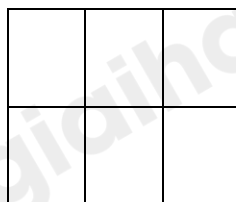

2 đĩa cam ...

4 đĩa cam ...

Câu 2. Tô màu $\frac{1}{2}$ mỗi hình:



Câu 3. Tô màu $\frac{1}{2}$ số ô vuông ở mỗi hình:



Phần 2. Học sinh trình bày bài làm:

Bài 1. Viết số thích hợp vào ô trống:

2	:	2	=	
---	---	---	---	--

12	:	2	=	
----	---	---	---	--

4	:	2	=	
6	:	2	=	
8	:	2	=	
10	:	2	=	

14	:	2	=	
16	:	2	=	
18	:	2	=	
20	:	2	=	

Bài 2. Có 10 bạn chia đều thành 2 nhóm. Hỏi mỗi nhóm có mấy bạn?

Bài giải

.....

.....

.....

Bài 3. Có 12 bút chì chia đều vào 2 hộp. Hỏi mỗi hộp có mấy bút chì?

Bài giải

.....

.....

.....

Bài 4. Tính nhẩm:

2	×	5	=	
10	:	2	=	

2	×	6	=	
12	:	2	=	

2	×	9	=	
---	---	---	---	--

2	×	10	=	
---	---	----	---	--

18	:	2	=	
----	---	---	---	--

20	:	2	=	
----	---	---	---	--

LỜI GIẢI CHI TIẾT

Phần 1. Trắc nghiệm

Câu 1.

Phương pháp:

- a) Để tìm số quả cam có trong 1 đĩa ta lấy số quả cam chia cho số đĩa.
b) Để tìm số đĩa cam ta lấy số quả cam chia cho số quả cam có trong 1 đĩa.

Cách giải:

- a) Mỗi đĩa có số quả cam là:

$$8 : 2 = 4 \text{ (quả cam)}$$

Đáp số: 4 quả cam.

Vậy ta có kết quả như sau:

2 quả cam (S)

4 quả cam (Đ)

- b) Có số đĩa cam là:

$$8 : 4 = 2 \text{ (đĩa cam)}$$

Đáp số: 2 đĩa cam.

Vậy ta có kết quả như sau:

2 đĩa cam (Đ)

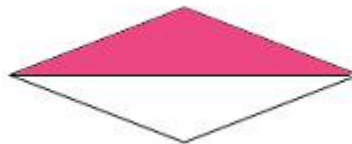


4 đĩa cam (S)

Câu 2.

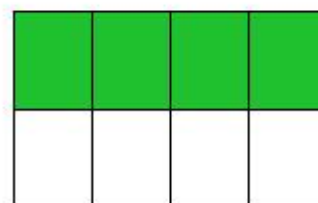

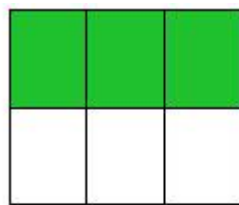

Phương pháp:

Quan sát hình vẽ và tô màu $\frac{1}{2}$ mỗi hình đó.

Cách giải:

**Câu 3.****Phương pháp:**

- Đếm số ô vuông có trong mỗi hình.
- Chia số vừa tìm được cho 2 và tô màu số ô bằng với kết quả vừa tìm được.

Cách giải:**Phần 2. Tự luận****Bài 1.****Phương pháp:**

Nhắm lại bảng chia 2 rồi điền số thích hợp vào ô trống.

Cách giải:

2	:	2	=	1
4	:	2	=	2
6	:	2	=	3
8	:	2	=	4
10	:	2	=	5

12	:	2	=	6
14	:	2	=	7
16	:	2	=	8
18	:	2	=	9
20	:	2	=	10

Bài 2.**Phương pháp:**

Để tìm số bạn trong mỗi nhóm ta lấy số bạn chia cho số nhóm.

Cách giải:

Mỗi nhóm có số bạn là:

$$10 : 2 = 5 \text{ (bạn)}$$

Đáp số: 5 bạn.

Bài 3.**Phương pháp:**

Để tìm số bút chì có trong mỗi hộp ta lấy số bút chì chia cho số hộp.

Cách giải:

Mỗi hộp có số bút chì là:

$$12 : 2 = 6 \text{ (bút chì)}$$

Đáp số: 12 bút chì.

Bài 4.**Phương pháp:**

Nhẩm lại bảng nhân 2, bảng chia 2 rồi điền số thích hợp vào ô trống.

Cách giải:

2	×	5	=	10
10	:	2	=	5

2	×	6	=	12
12	:	2	=	6

2	×	9	=	18
18	:	2	=	9

2	×	10	=	20
20	:	2	=	10