

## BÀI TẬP CUỐI TUẦN TOÁN 2

Tuần 24 – Đề 2

### Phần 1. Bài tập trắc nghiệm:

**Câu 1.** Đúng ghi Đ, sai ghi S:

a) Chia số bị chia cho số chia thì được thương ...

b) Chia số chia cho số bị chia thì được thương ...




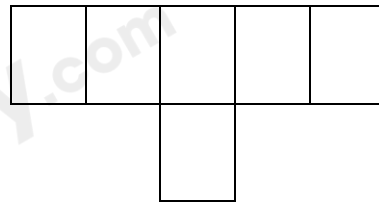

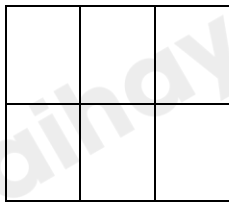
**Câu 2.** Nối phép chia với thương của phép chia đó:

$16 : 2$	$18 : 2$	$10 : 2$	$12 : 2$	$14 : 2$
----------	----------	----------	----------	----------

5	6	7	8	9
---	---	---	---	---

$18 : 3$	$24 : 3$	$15 : 3$	$21 : 3$	$27 : 3$
----------	----------	----------	----------	----------

**Câu 3.** Tô màu vào  $\frac{1}{3}$  số ô vuông ở mỗi hình:



**Phần 2. Tự luận****Bài 1. Tính nhẩm:**

$12 : 3 = \dots$

$9 : 3 = \dots$

$30 : 3 = \dots$

$15 : 3 = \dots$

$6 : 3 = \dots$

$27 : 3 = \dots$

$18 : 3 = \dots$

$24 : 3 = \dots$

**Bài 2. Tính (theo mẫu):**

**Mẫu:**  $6\text{cm} : 2 = 3\text{cm}$

$15\text{cm} : 3 = \dots$

$16\text{dm} : 2 = \dots$

$18\text{kg} : 2 = \dots$

$24\text{l} : 3 = \dots$

**Bài 3. Có 21l dầu đổ đều vào 3 can. Hỏi mỗi can có bao nhiêu lít dầu?**

Bài giải

.....

.....

.....

**Bài 4. Có 21l dầu đổ vào các can, mỗi can có 3l dầu. Hỏi có bao nhiêu can dầu?**

Bài giải

.....

.....

.....

**Bài 5. Điền số bé hơn 20 vào ô trống:**

	:		=	6
--	---	--	---	---

**LỜI GIẢI CHI TIẾT****Phần 1.**

**Câu 1.****Phương pháp:**

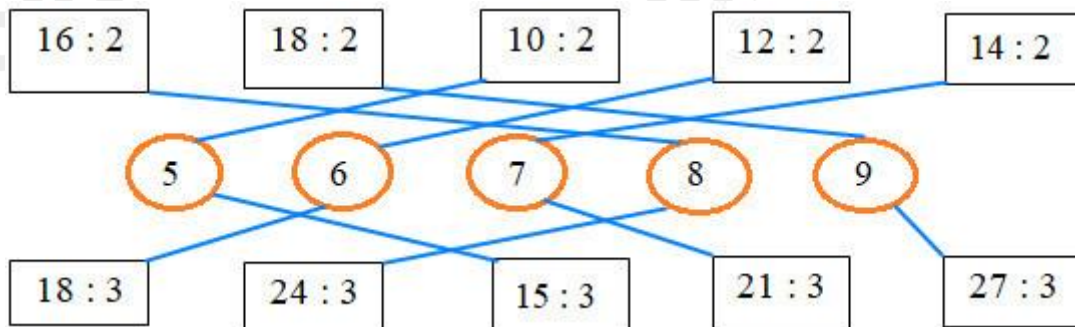
Áp dụng công thức: Số bị chia : số chia = thương.

**Cách giải:**

- a) Chia số bị chia cho số chia thì được thương **(Đ)**  
 b) Chia số chia cho số bị chia thì được thương **(S)**

**Câu 2.****Phương pháp:**


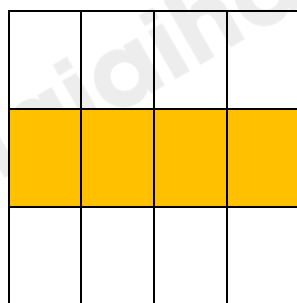



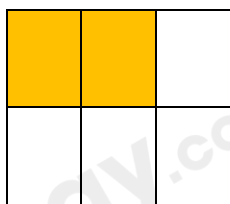
Nhắm lại bảng chia 2, bảng chia 3 để tìm kết quả của mỗi phép chia, sau đó nối phép tính với kết quả của phép tính đó.

**Cách giải:****Câu 3.****Phương pháp:**

- Đếm số ô vuông có trong mỗi hình.
- Chia số vừa tìm được cho 3 và tô màu số ô bằng với kết quả vừa tìm được.

**Cách giải:**

Ta có thể tô màu như sau:

**Phần 2.****Bài 1.****Phương pháp:**

Nhẩm lại bảng chia 3 rồi điền kết quả vào chỗ chấm.

**Cách giải:**

$$12 : 3 = 4$$

$$9 : 3 = 3$$

$$30 : 3 = 10$$

$$15 : 3 = 5$$

$$6 : 3 = 2$$

$$27 : 3 = 9$$

$$18 : 3 = 6$$

$$24 : 3 = 8$$

**Bài 2.****Phương pháp:**

Nhẩm lại bảng chia 2, bảng chia 3 rồi điền kết quả vào chỗ chấm và ghi thêm đơn vị đo vào sau kết quả vừa tìm được.

**Cách giải:**

$$15\text{cm} : 3 = 5\text{cm}$$

$$16\text{dm} : 2 = 8\text{dm}$$

$$18\text{kg} : 2 = 9\text{kg}$$

$$24\text{l} : 3 = 8\text{l}$$

**Bài 3.****Phương pháp:**

Muốn tìm số lít dầu có trong mỗi can ta lấy số lít dầu chia cho số can.

**Cách giải:**

Mỗi can có số lít dầu là:

$$21 : 3 = 7 \text{ (l)}$$

Đáp số : 7l.

**Bài 4.**

**Phương pháp:**

Để tìm số can dầu ta lấy số lít dầu chia cho số lít dầu có trong mỗi can.

**Cách giải:**

Có số can dầu là:

$$21 : 3 = 7 \text{ (can dầu)}$$

Đáp số: 7 can dầu.

**Bài 5.**

**Phương pháp:**

Nhẩm lại bảng chia 2, bảng chia 3 rồi điền số thích hợp vào ô trống.

**Cách giải:**

Ta có thể điền như sau:

12	:	2	=	6
----	---	---	---	---

Hoặc:

18	:	3	=	6
----	---	---	---	---