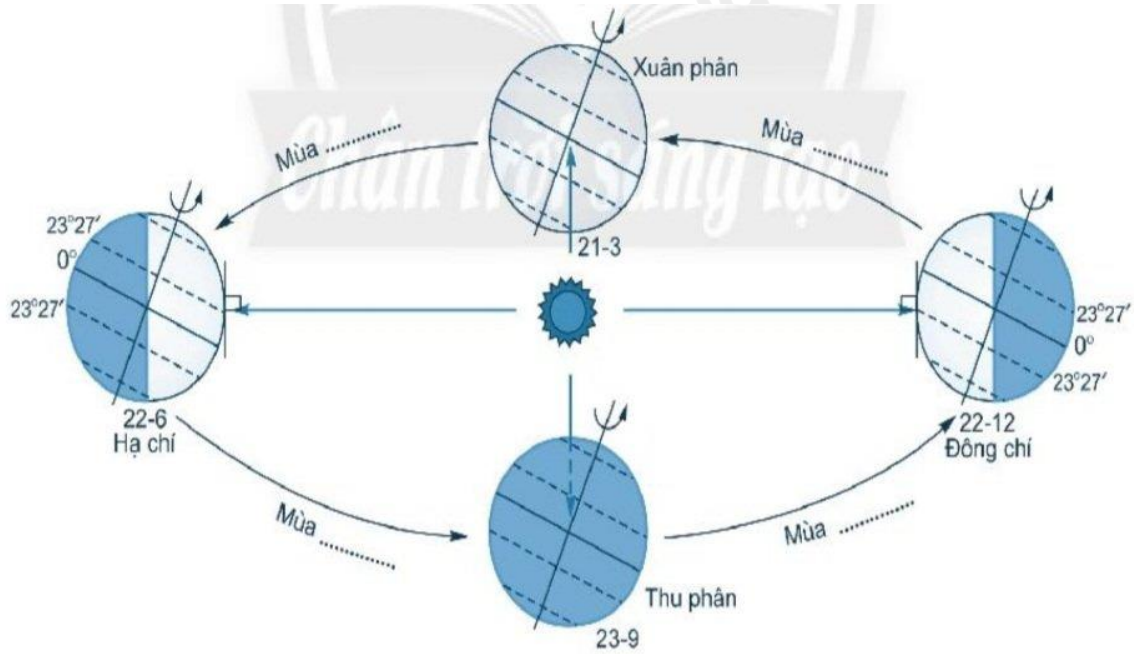


BÀI 7. CHUYỂN ĐỘNG QUANH MẶT TRỜI CỦA TRÁI ĐẤT VÀ HỆ QUẢ

Giải bài 5 trang 26 sách bài tập Địa lí 6 Chân trời sáng tạo

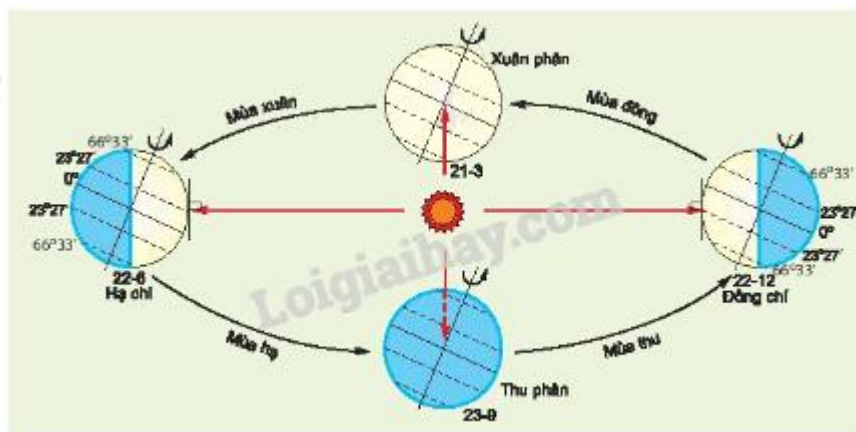
Hãy điền tên các mùa vào chỗ trống (...) trong hình sau đây sao cho phù hợp.



Hình 7.1. Chuyển động xung quanh Mặt Trời của Trái Đất và các mùa ở bán cầu Bắc

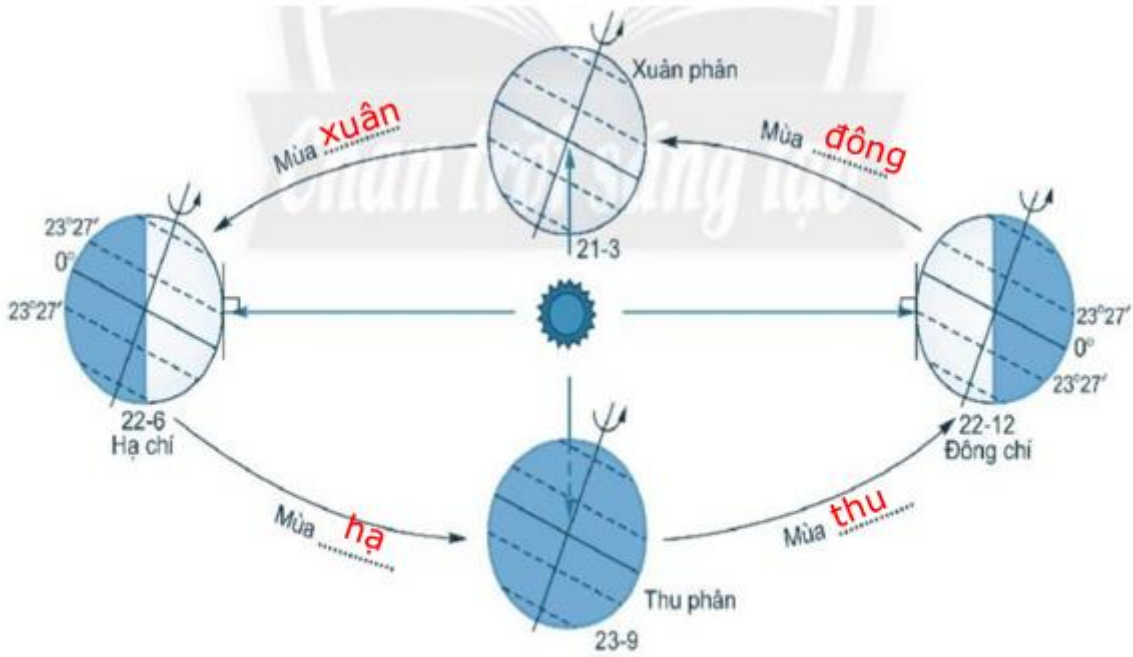
Phương pháp:

Dựa vào hình 7.1 SGK để hoàn thành bài tập.



Hình 7.1. Chuyển động quay quanh Mặt Trời của Trái Đất và các mùa ở bán cầu Bắc

Lời giải chi tiết:



Hình 7.1. Chuyển động xung quanh Mặt Trời của Trái Đất và các mùa ở bán cầu Bắc