

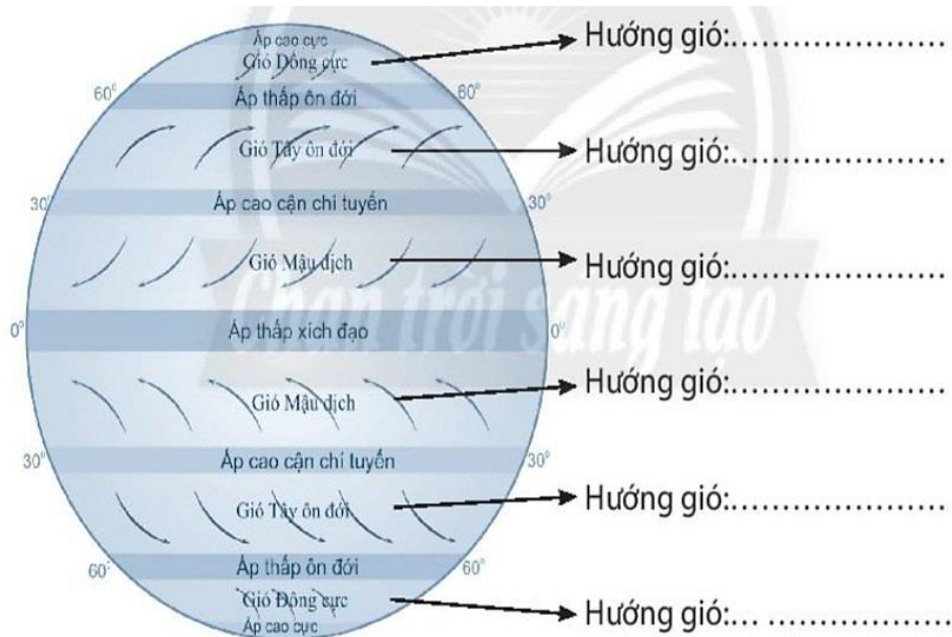
BÀI 12: LỚP VỎ KHÍ. KHỐI KHÍ. KHÍ ÁP VÀ GIÓ TRÊN TRÁI ĐẤT

Giải bài 5 trang 43 SBT Địa lí 6 Chân trời sáng tạo

1. Hãy nối từng ý ở cột A với các ý ở cột B, C sao cho phù hợp.

A. Loại gió	B. Nơi xuất phát	C. Nơi đến
1. Tín phong	a. Áp cao cực	i. Áp thấp xích đạo
2. Gió Tây ôn đới	b. Áp cao cận chí tuyến	ii. Áp thấp ôn đới
3. Gió Đông cực	c. Áp thấp xích đạo	iii. Áp cao cực

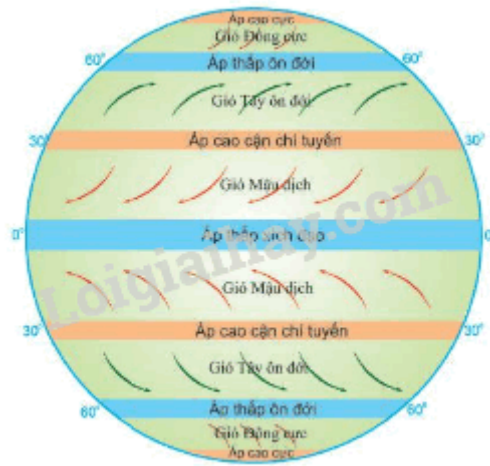
2. Dựa vào hình 12.3, em hãy cho biết hướng của các loại gió chính trên Trái Đất ở hai bán cầu.



Hình 12.3. Các đai khí áp và các loại gió chính trên Trái Đất

Phương pháp:

Dựa vào hình 12.5 SGK để hoàn thành bài tập.



Hình 12.5. Các đai khí áp và các loại gió chính trên Trái Đất

Giải chi tiết:

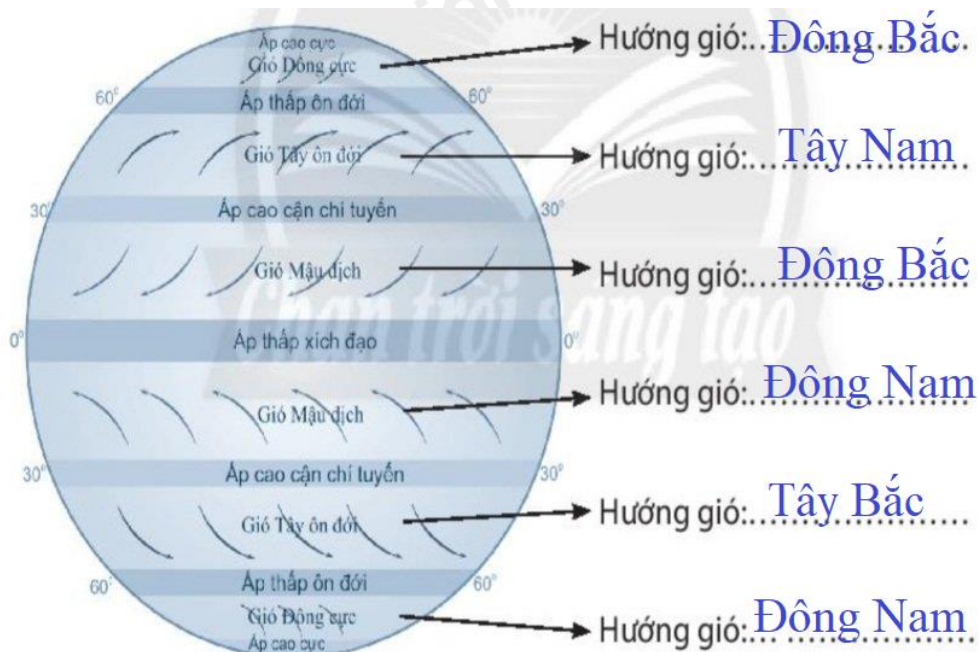
1.

1 – b – i.

2 – b – ii.

3 – a – ii.

2.



Hình 12.3. Các đai khí áp và các loại gió chính trên Trái Đất