




**BÀI 20: SINH VẬT VÀ SỰ PHÂN BỐ CÁC ĐỚI THIÊN NHIÊN.
RỪNG NHIỆT ĐỚI**

Giải bài 1 trang 65 SBT Địa lí 6 Chân trời sáng tạo

Ghép cặp các loài thực vật ở cột A với đới thiên nhiên ở cột B sao cho phù hợp.

A. Thực vật	B. Đới thiên nhiên
1. Rừng lá kim 	a. Đới nóng
2. Đài nguyên 	b. Đới ôn hoà
3. Rừng nhiệt đới 	c. Đới lạnh

Phương pháp:

Dựa vào lý thuyết về sự phân bố thực vật ở các đới khí hậu:

- Đới ôn hòa: rừng lá kim phát triển.
- Đới nóng: rừng mưa nhiệt đới, rừng nhiệt đới gió mùa, xavan,...
- Đới lạnh: thảm thực vật đài nguyên.

Giải chi tiết:

1. b.
2. c.
3. a.