





BÀI: BIỂU ĐỒ TRANH**CHƯƠNG 4: CÁC SỐ TRONG PHẠM VI 1000. PHÉP CỘNG, PHÉP TRỪ TRONG PHẠM VI 1000****MÔN: TOÁN – CÁNH DIỀU - LỚP 2****BIÊN SOẠN: BAN CHUYÊN MÔN LOIGIAIHAY.COM****Câu 1.**

Quan sát biểu đồ tranh sau:

Số khối lập phương theo màu sắc

Xanh	
Đỏ	
Tím	
Vàng	

Trả lời câu hỏi:

- Có bao nhiêu khối lập phương màu xanh?
- Có bao nhiêu khối lập phương màu tím?
- Những khối lập phương màu nào có số lượng bằng nhau?

Phương pháp:

Quan sát biểu đồ, đếm số khối lập phương theo màu sắc rồi trả lời câu hỏi.

Cách giải:

- Có 6 khối lập phương màu xanh.
- Có 2 khối lập phương màu tím.
- Những khối lập phương màu đỏ và màu vàng có số lượng bằng nhau.

Câu 2.

Quan sát biểu đồ tranh sau:

Phương pháp:


Quan sát biểu đồ, đếm số trứng mỗi con gà đẻ được và trả lời câu hỏi.

.Cách giải:

- a) Trong một tuần, gà mái mơ đẻ 4 quả trứng, gà mái ri đẻ được 6 quả trứng, gà mái đen đẻ 5 quả trứng.
 b) Gà mái ri đẻ nhiều trứng nhất, gà mái mơ đẻ ít trứng nhất.
 c) Ba con gà đã đẻ được số trứng là $4 + 6 + 5 = 15$ (quả trứng)

Bài 3.

Quan sát biểu đồ tranh sau:

Phương tiện đến trường của học sinh lớp 2A

- a) Có bao nhiêu học sinh đi học bằng xe buýt?

- b) Có bao nhiêu học sinh đi học bằng xe đạp?
- c) Các học sinh đến trường bằng phương tiện nào nhiều nhất?

Phương pháp:

Quan sát biểu đồ, đếm số học sinh đi học theo mỗi loại phương tiện rồi trả lời các câu hỏi.

Cách giải:

- a) Có 9 học sinh đi học bằng xe buýt.
- b) Có 6 bạn đi học bằng xe đạp.
- c) Các học sinh đến trường bằng xe bus nhiều nhất.