

BÀI: LUYỆN TẬP CHUNG (TRANG 76)

CHƯƠNG 4: CÁC SỐ TRONG PHẠM VI 1000. PHÉP CỘNG, PHÉP TRỪ TRONG PHẠM VI 1000

MÔN: TOÁN – CÁNH DIỀU - LỚP 2



BIÊN SOẠN: BAN CHUYÊN MÔN LOIGIAIHAY.COM

Câu 1.

Tính:

a)	$\begin{array}{r} + 432 \\ + 257 \\ \hline \boxed{?} \end{array}$	$\begin{array}{r} + 192 \\ + 406 \\ \hline \boxed{?} \end{array}$	$\begin{array}{r} - 994 \\ - 770 \\ \hline \boxed{?} \end{array}$
b)	$\begin{array}{r} + 248 \\ + 134 \\ \hline \boxed{?} \end{array}$	$\begin{array}{r} + 594 \\ + 132 \\ \hline \boxed{?} \end{array}$	$\begin{array}{r} - 481 \\ - 136 \\ \hline \boxed{?} \end{array}$

Phương pháp:

Cộng hoặc trừ các số thẳng cột theo thứ tự từ phải sang trái.

Cách giải:

a)	$\begin{array}{r} + 432 \\ + 257 \\ \hline 689 \end{array}$	$\begin{array}{r} + 192 \\ + 406 \\ \hline 598 \end{array}$	$\begin{array}{r} - 994 \\ - 770 \\ \hline 224 \end{array}$
b)	$\begin{array}{r} + 248 \\ + 134 \\ \hline 382 \end{array}$	$\begin{array}{r} + 594 \\ + 132 \\ \hline 726 \end{array}$	$\begin{array}{r} - 481 \\ - 136 \\ \hline 345 \end{array}$

Câu 2.

Đặt tính rồi tính:

249 + 128

859 - 295

175 - 64

172 + 65

171 - 8

360 - 170

Phương pháp:

- Đặt tính sao cho các chữ số cùng một hàng thẳng cột với nhau.

- Tính theo thứ tự từ phải sang trái.

Cách giải:

$$\begin{array}{r} 249 \\ + 128 \\ \hline 377 \end{array}$$

$$\begin{array}{r} 859 \\ - 295 \\ \hline 564 \end{array}$$

$$\begin{array}{r} 175 \\ - 64 \\ \hline 111 \end{array}$$

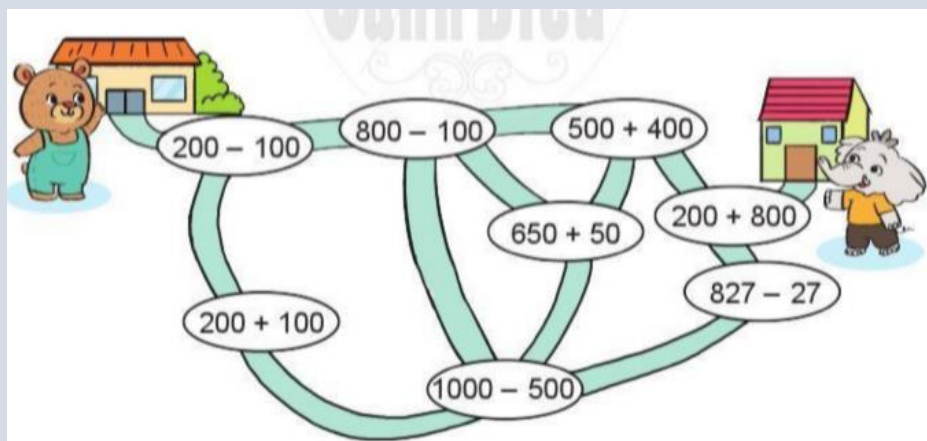
$$\begin{array}{r} 172 \\ + 65 \\ \hline 237 \end{array}$$

$$\begin{array}{r} 171 \\ - 8 \\ \hline 163 \end{array}$$

$$\begin{array}{r} 360 \\ - 170 \\ \hline 190 \end{array}$$

Bài 3.

Bạn Gấu phải đi qua các vị trí ghi phép tính có kết quả lần lượt là 100, 300, 500, 700, 900, 1000 để đến nhà bạn Voi. Hãy chỉ đường giúp bạn Gấu.



Phương pháp:

Tính nhẩm để tìm kết quả mỗi phép tính rồi vẽ đường đi cho bạn Gấu.

Cách giải:

Ta có $200 - 100 = 100$

$200 + 100 = 300$

$1000 - 500 = 500$

$800 - 100 = 700$

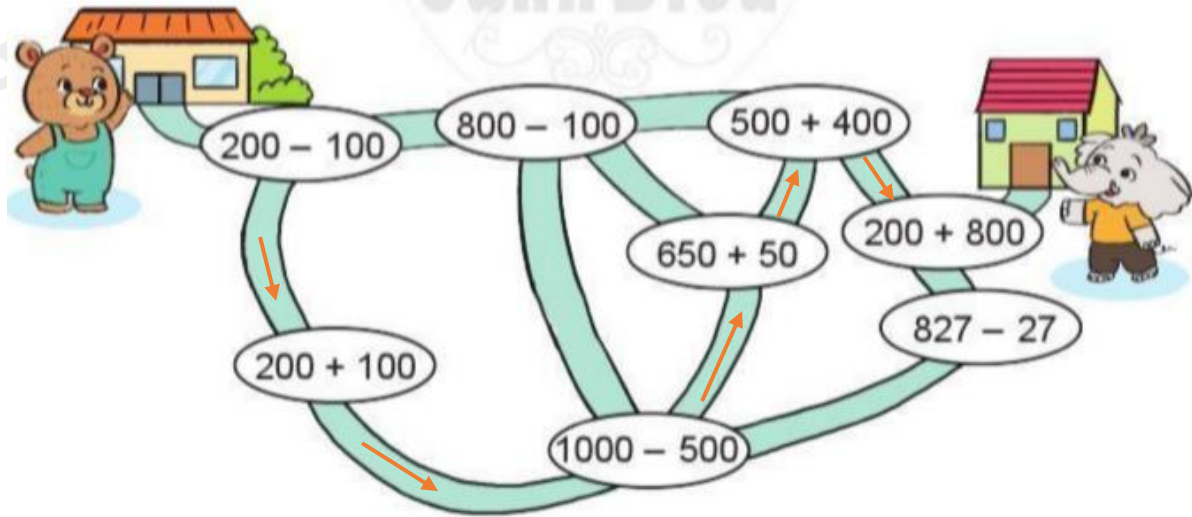
$650 + 50 = 700$

$500 + 400 = 900$

$200 + 800 = 1000$

$827 - 27 = 800$

Đường đi của Gấu đến nhà Voi như sau:



Bài 4.

Anh cao 145 cm, em thấp hơn anh 19 cm. Hỏi em cao bao nhiêu xăng-ti-mét?



Phương pháp:

Chiều cao của em = Chiều cao của anh - 19 cm.

Cách giải:


Chiều cao của em là

$$145 - 19 = 126 \text{ (cm)}$$

Đáp số: 126 cm

Bài 5.

Ở một bảo tàng sinh vật biển, buổi sáng có 219 lượt khách đến tham quan, buổi chiều có nhiều hơn buổi sáng 58 lượt khách. Hỏi bảo tàng đã đón bao nhiêu lượt khách đến tham quan vào buổi chiều?

**Phương pháp:**

Số lượt khách đến tham quan vào buổi chiều = Số lượt khách tham quan buổi sáng + 58 lượt khách

Cách giải:

Số lượt khách tham quan vào buổi chiều là

$$219 + 58 = 277 \text{ (lượt khách)}$$

Đáp số: 277 lượt khách