

BÀI: THU THẬP – KIỂM Đếm

CHƯƠNG 4: CÁC SỐ TRONG PHẠM VI 1000. PHÉP CỘNG, PHÉP TRỪ TRONG PHẠM VI 1000

MÔN: TOÁN – CÁNH ĐIỀU - LỚP 2



BIÊN SOẠN: BAN CHUYÊN MÔN LOIGIAIHAY.COM

Câu 1.

Số?



Phương pháp:


Quan sát tranh, đếm rồi ghi số tương ứng vào ô trống.

Cách giải:



Câu 2.

Kiểm đếm số lượng từng loại con vật: châu chấu, chuồn chuồn, bọ rùa và ghi lại kết quả (theo mẫu):




Mẫu: Ong 6

Phương pháp:

Quan sát tranh, em đếm số châu chấu, chuồn chuồn, bọ rùa rồi ghi lại số lượng mỗi con vật theo mẫu.

Cách giải:




Châu chấu 5

Chuồn chuồn 3

Bọ rùa 11

Bài 3.

a) Kiểm đếm số lượng từng loại trái cây: na, thanh long, dâu tây, dứa và ghi lại kết quả (theo mẫu):



Mẫu: Táo 7


b) Trả lời câu hỏi: Loại trái cây nào có nhiều nhất? Loại trái cây nào ít nhất?

Phương pháp:

Quan sát tranh, em đếm số quả na, dâu tây, thanh long, dứa rồi ghi lại số lượng mỗi loại quả theo mẫu.

Cách giải:

a)



Na 5

Thanh long 8

Dâu tây 12

Dứa 4

b) Dâu tây có nhiều nhất và dứa ít nhất.

Bài 4.

Một người theo dõi thời tiết đã ghi lại thời tiết trong tháng 6 như sau:

Tháng 6	1	2	3	4	5	6	7	8	9	10
	11	12	13	14	15	16	17	18	19	20
	21	22	23	24	25	26	27	28	29	30

a) Hãy kiểm đếm và ghi lại kết quả số ngày nắng, số ngày mưa và số ngày nhiều mây?

b) Nêu nhận xét về số ngày nắng trong tháng trên.

Phương pháp:

Quan sát tranh em hãy đếm và ghi lại kết quả số ngày nắng, số ngày mưa và số ngày nhiều mây. Từ đó rút ra nhận xét về số ngày nắng trong tháng.

Cách giải:

a) Số ngày nắng: 12 ngày

Số ngày mưa: 8 ngày

Số ngày nhiều mây: 10 ngày

b) Số ngày nắng trong tháng 6 nhiều hơn số ngày mưa và ngày nhiều mây.