

## BÀI: ÔN TẬP CHUNG

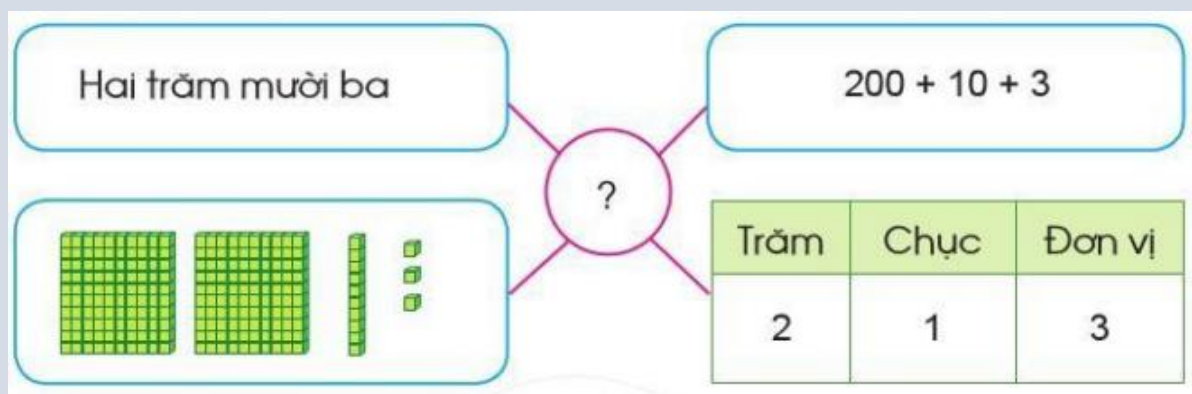
## CHƯƠNG 4: CÁC SỐ TRONG PHẠM VI 1000. PHÉP CỘNG, PHÉP TRỪ TRONG PHẠM VI 1000

MÔN: TOÁN – CÁNH DIỀU - LỚP 2

 BIÊN SOẠN: BAN CHUYÊN MÔN LOIGIAIHAY.COM

## Câu 1.

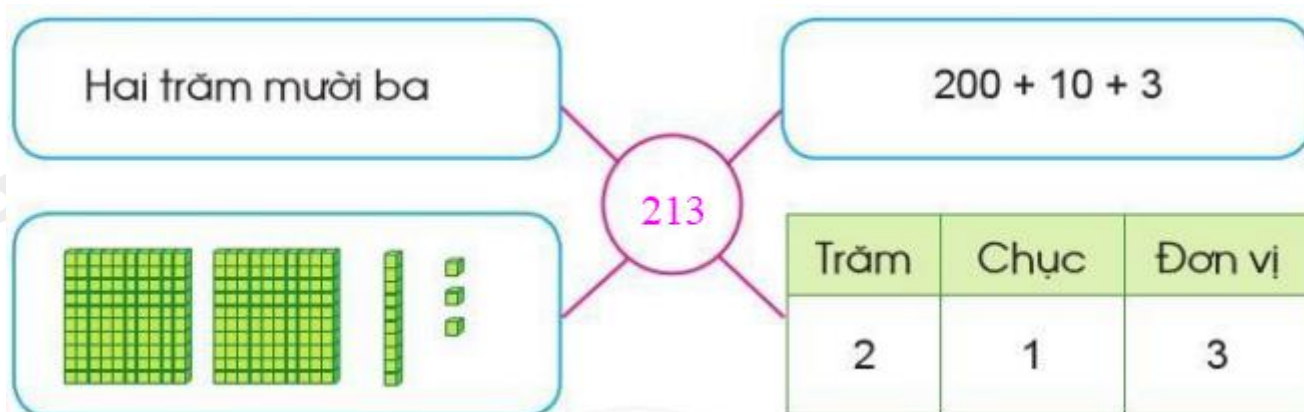
Số?



## Phương pháp:

Quan sát tranh và cách đọc số để viết số thích hợp vào ô trống.

## Cách giải:



## Câu 2.

- Tìm số lớn nhất trong các số: 879, 978, 789, 979.
- Tìm số bé nhất trong các số: 465, 456, 645, 546.
- Sắp xếp các số sau theo thứ tự từ bé đến lớn: 599, 1000, 769, 687.

Cách so sánh các số có ba chữ số:

- So sánh chữ số hàng trăm: Nếu số nào có chữ số hàng trăm lớn hơn thì số đó lớn hơn.
- Nếu các số có chữ số hàng trăm giống nhau ta so sánh chữ số hàng chục.
- Nếu chữ số hàng chục giống nhau ta so sánh chữ số hàng đơn vị.

**Cách giải:**

- a) Tìm số lớn nhất trong các số: 879, 978, 789, 979 là số 979.
- b) Tìm số bé nhất trong các số: 465, 456, 645, 546 là số 456.
- c) Ta có  $599 < 687 < 769 < 1000$

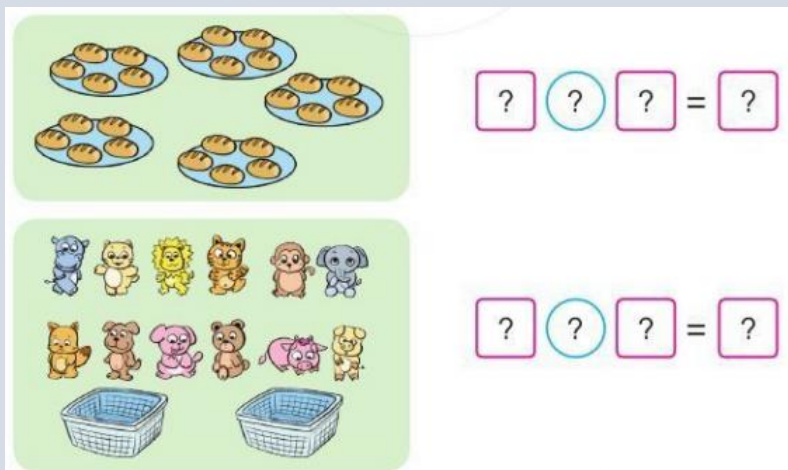
Các số sắp xếp theo thứ tự từ bé đến lớn là 599, 687, 769, 1000.

**Bài 3.**

a) Tính:

$762 + 197$                    $543 - 127$                    $2 \times 8$                    $40 : 5$

b) Nêu phép nhân hoặc phép chia thích hợp với mỗi tranh vẽ:




**Phương pháp:**

- a) Đặt tính rồi tính để thực hiện các phép cộng, trừ.
- b) Quan sát tranh, đếm số cái bánh trên mỗi đĩa, số đĩa có trong hình rồi viết phép nhân hoặc phép chia thích hợp. Làm tương tự với hình thứ hai.

**Cách giải:**

a)  $762 + 197 = 959$                    $543 - 127 = 416$                    $2 \times 8 = 16$                    $40 : 5 = 8$

- b) Có 5 cái đĩa, mỗi đĩa gồm 5 cái bánh. Vậy có tất cả 25 cái bánh.  
 Có 10 chú gấu bông được chia đều vào 2 giỏ, vậy mỗi giỏ có 5 gấu bông.



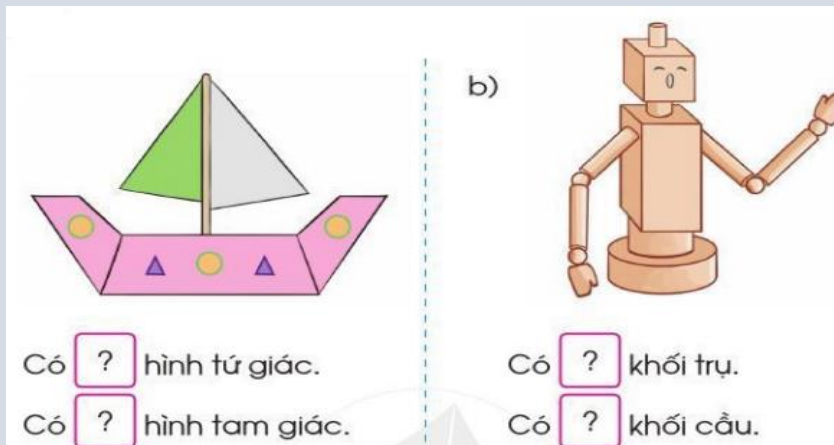
$$5 \times 5 = 25$$



$$10 : 2 = 5$$

#### Bài 4.

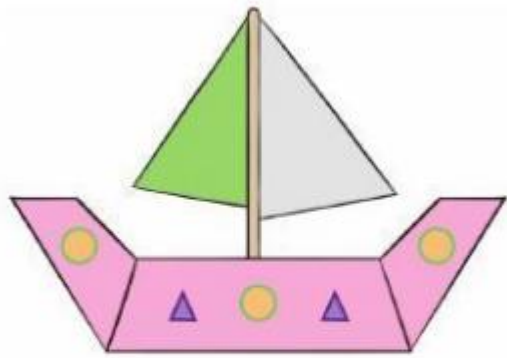
Số?



#### Phương pháp:

Quan sát hình vẽ, đếm số hình tứ giác, hình tam giác, khối trụ, khối cầu rồi trả lời câu hỏi.

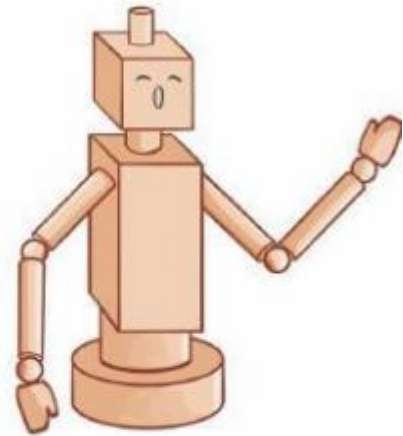
#### Cách giải:



Có 3 hình tứ giác.

Có 4 hình tam giác.

b)



Có 8 khối trụ.

Có 4 khối cầu.

### Bài 5.

Ngày thứ nhất cửa hàng bán được 150 l nước mắm, ngày thứ hai cửa hàng bán được nhiều hơn ngày thứ nhất 75 l nước mắm. Hỏi ngày thứ hai cửa hàng bán được bao nhiêu l nước mắm?

#### Phương pháp:

Số lít nước mắm ngày thứ hai bán được = Số lít bán được ngày thứ nhất + 75 lít

#### Cách giải:

Số lít nước mắm ngày thứ hai bán được là

$$150 + 75 = 225 \text{ (lít)}$$

Đáp số: 225 lít

### Bài 6

Xem tranh rồi kiểm đếm số lượng mỗi loại nhạc cụ mà các bạn đang cầm và ghi lại kết quả:



**Phương pháp:**

Quan sát tranh, đếm số lượng mỗi loại nhạc cụ rồi ghi lại kết quả.

**Cách giải:**

Trống tròn: 5 chiếc

Trống cơm: 1 chiếc

Chuông tam giác: 6 bộ

Dùi gõ: 4 cặp

Loigiaihay.com