

## BÀI 47: LUYỆN TẬP CHUNG (TIẾT 1)

MÔN: TOÁN – KẾT NỐI TRI THỨC VỚI CUỘC SỐNG - LỚP 2

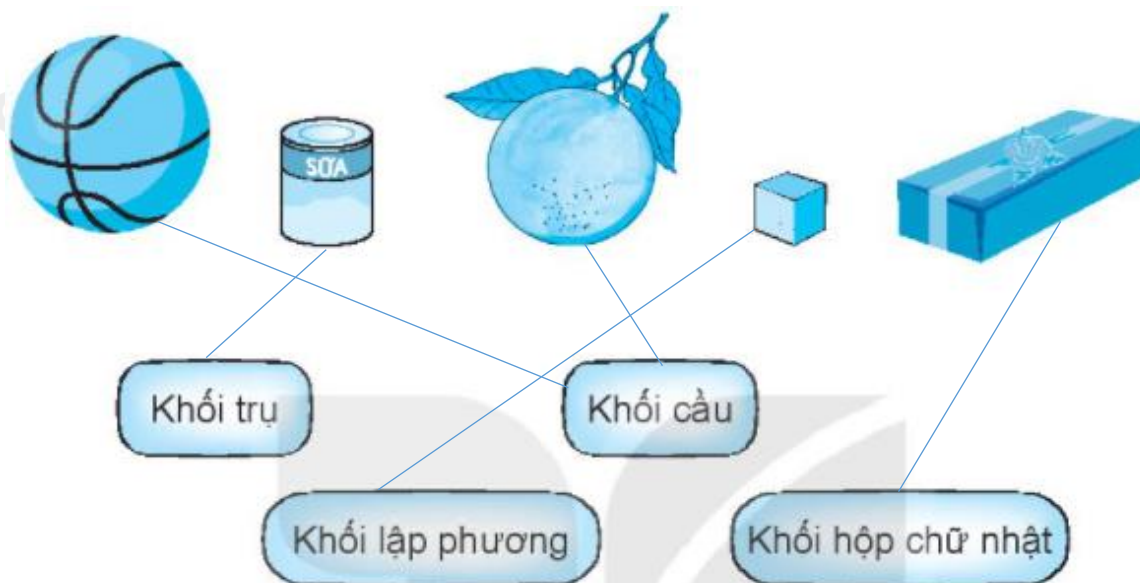
 BIÊN SOẠN: BAN CHUYÊN MÔN LOIGIAIHAY.COM

## Câu 1.

Nói mỗi đồ vật với dạng hình khối của nó.

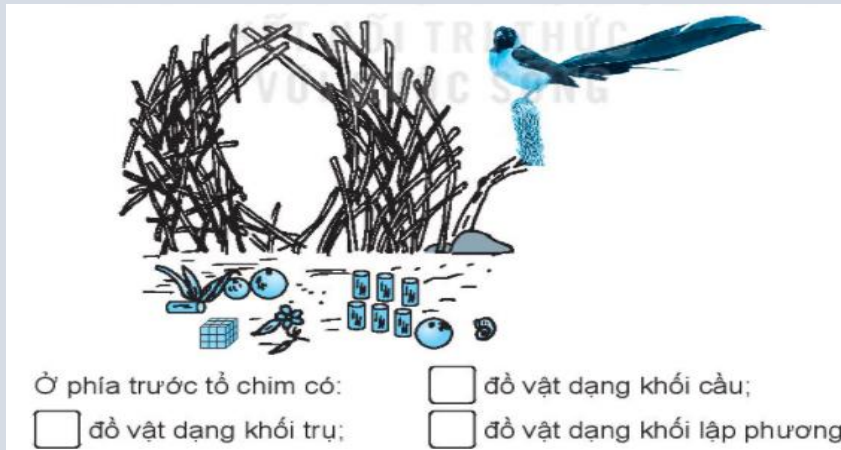
**Phương pháp:**

Quan sát tranh rồi nói mỗi vật với dạng hình khối của nó cho thích hợp.

**Cách giải:**

## Câu 2.

Có một loài chim chỉ thích trang trí tổ bằng những đồ vật sắc sỡ.

**Phương pháp:**

Quan sát tranh, đếm số đồ vật dạng khối trụ, khối cầu, khối lập phương trong hình rồi điền số vào ô trống.

**Cách giải:**

Ở phía trước tổ chim có:

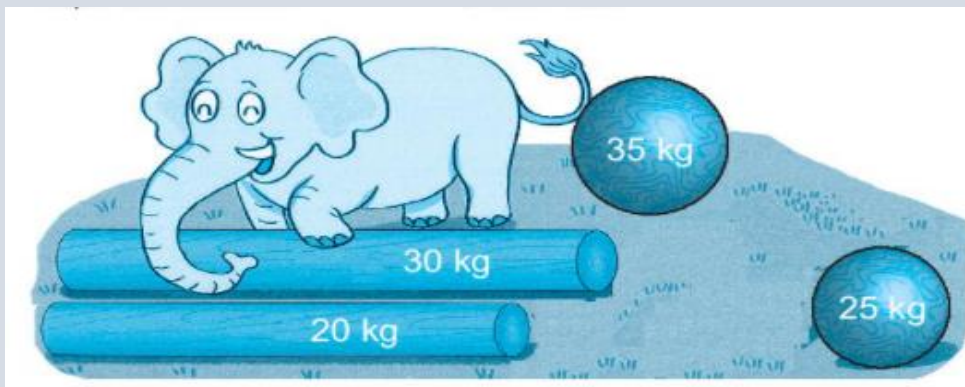
7 đồ vật dạng khối trụ.

3 đồ vật dạng khối cầu.

1 đồ vật dạng khối lập phương.

**Bài 3.**

Bạn voi kéo những khúc gỗ như sau:



Số?

a) Hai khúc gỗ dạng khối cầu cân nặng tất cả  kg.

b) Bạn voi muốn kéo một khúc gỗ dạng khối cầu và một khối gỗ dạng khối trụ có tổng cân nặng bé nhất. Bạn ấy đã kéo  kg gỗ?

**Phương pháp.**

a) Cân nặng hai khúc gỗ dạng khối cầu = 35 kg + 25 kg

b) Muốn kéo một khúc gỗ dạng khối cầu và một khối gỗ dạng khối trụ có tổng cân nặng bé nhất voi phải chọn khối cầu nhẹ nhất (25 kg) và khối trụ nhẹ nhất (20 kg).

**Cách giải:**

a) Cân nặng hai khúc gỗ dạng khối cầu là  $35 + 25 = 60$  (kg)

Hai khúc gỗ dạng khối cầu cân nặng tất cả **60** kg.

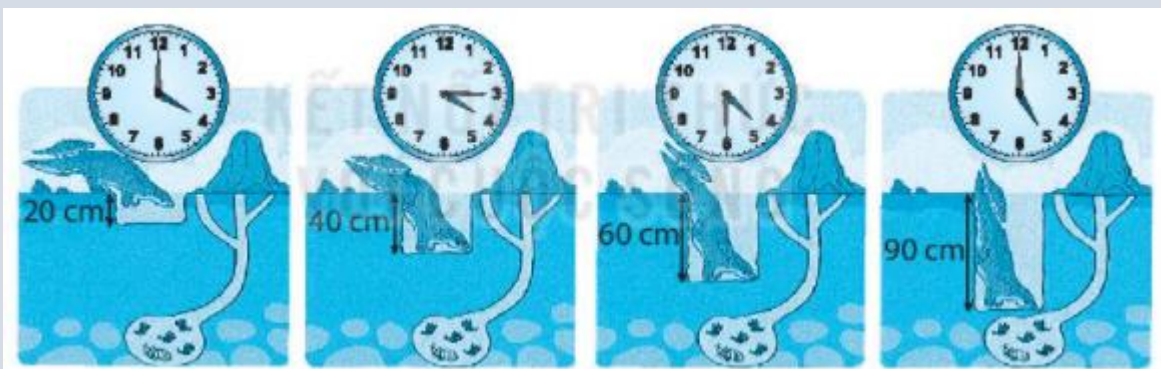
b) Muốn kéo một khúc gỗ dạng khối cầu và một khối gỗ dạng khối trụ có tổng cân nặng bé nhất voi phải chọn khối cầu nhẹ nhất (25 kg) và khối trụ nhẹ nhất (20 kg).

Ta có  $25 \text{ kg} + 20 \text{ kg} = 45 \text{ kg}$

Bạn voi muốn kéo một khúc gỗ dạng khối cầu và một khối gỗ dạng khối trụ có tổng cân nặng bé nhất. Bạn ấy đã kéo **40** kg gỗ.

**Bài 4.**

Trong bức tranh, tê tê mẹ đang đào một cái hang dạng khối trụ để bắt mồi.



a) Hoàn thành bảng sau (theo mẫu)

Vào lúc	4 giờ	4 giờ 15 phút		5 giờ
Hang sâu	20 cm		60 cm	

b) Số?

Từ lúc 4 giờ đến 5 giờ, cái hang sâu thêm  cm.

**Phương pháp:**

a) Quan sát hình vẽ, xem thời gian trên mỗi đồng hồ rồi điền chiều sâu của cái hang tê tê mẹ đào được lúc đó.

b) Từ 4 giờ đến 5 giờ cái hang sâu thêm số  $\text{cm} = \text{Chiều sâu của hang lúc 5 giờ} - \text{chiều sâu của hang lúc 4 giờ}$ .

**Cách giải:**

a) Quan sát hình vẽ ta điền được như sau:

Vào lúc	4 giờ	4 giờ 15 phút	4 giờ 30 phút	5 giờ
Hang sâu	20 cm	40 cm	60 cm	90 cm

b) Từ 4 giờ đến 5 giờ cái hang sâu thêm số cm là  $90 \text{ cm} - 20 \text{ cm} = 70 \text{ cm}$ .

Từ lúc 4 giờ đến 5 giờ, cái hang sâu thêm **70** cm.