

## BÀI 48: ĐƠN VỊ, CHỤC, TRĂM, NGHÌN (TIẾT 1)

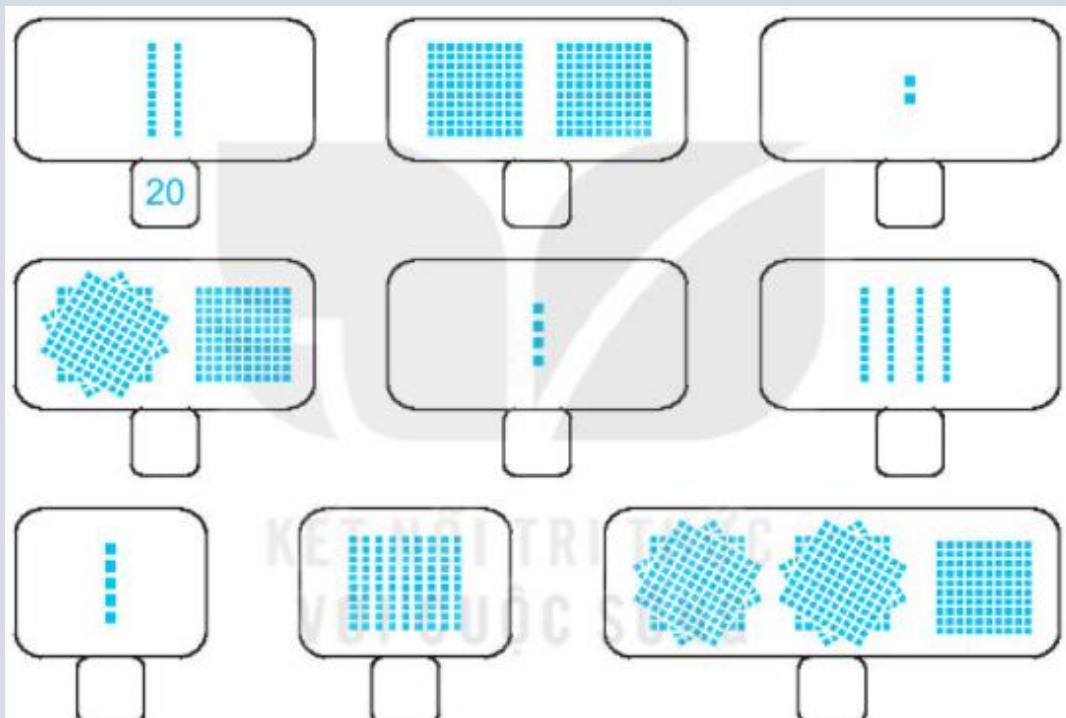
MÔN: TOÁN – KẾT NỐI TRI THỨC VỚI CUỘC SỐNG - LỚP 2



BIÊN SOẠN: BAN CHUYÊN MÔN LOIGIAIHAY.COM

## Câu 1.

Số?

**Phương pháp:**

Quan sát hình vẽ, em đếm được mỗi cột gồm 10 ô vuông.

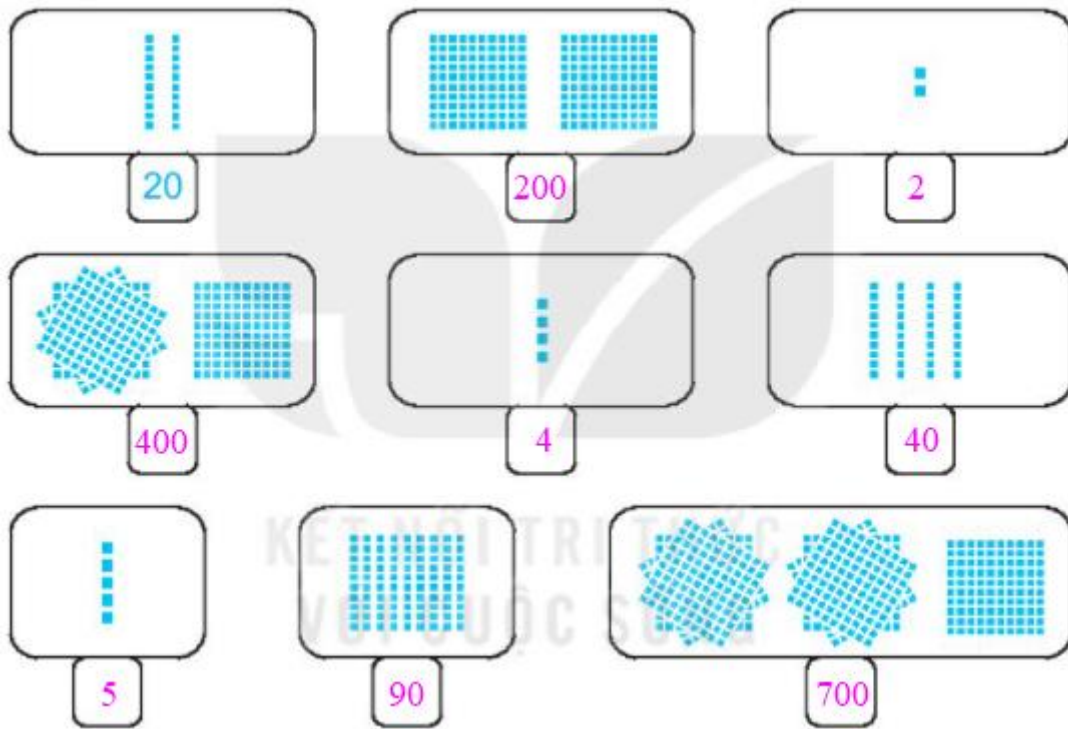
Mỗi hình vuông lớn gồm 100 ô vuông nhỏ.

**Cách giải:**

Quan sát hình vẽ, em đếm được mỗi cột gồm 10 ô vuông.

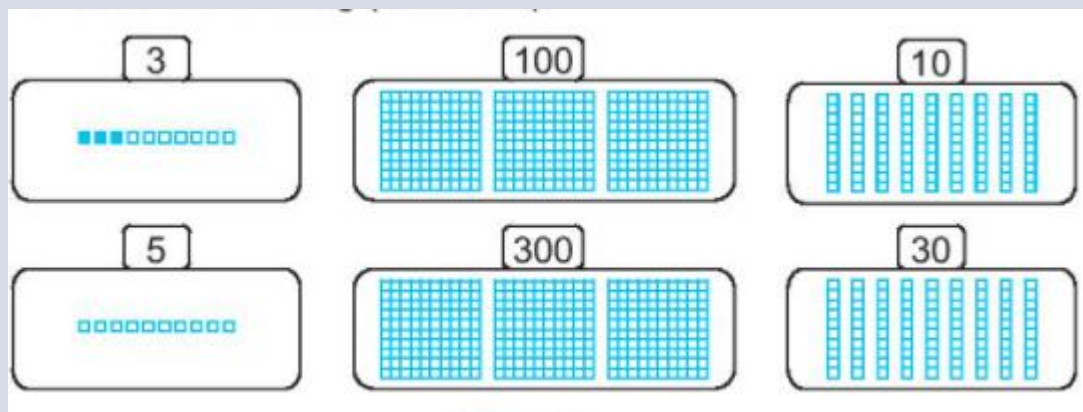
Mỗi hình vuông lớn gồm 100 ô vuông nhỏ.

Em điền các số như sau:



**Câu 2.**

Tô màu vào các ô vuông theo mẫu:



**Phương pháp:**

Tô màu các ô vuông theo số được ghi trên mỗi hình.

Ví dụ: Số 3 em tô 3 ô vuông.

Số 5 em tô 5 ô vuông.

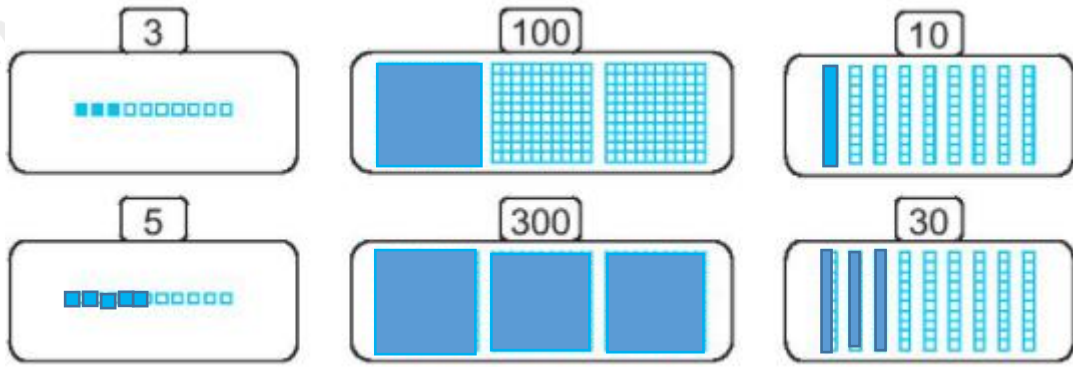
**Cách giải:**

Tô màu các ô vuông theo số được ghi trên mỗi hình.

Ví dụ: Số 3 em tô 3 ô vuông.

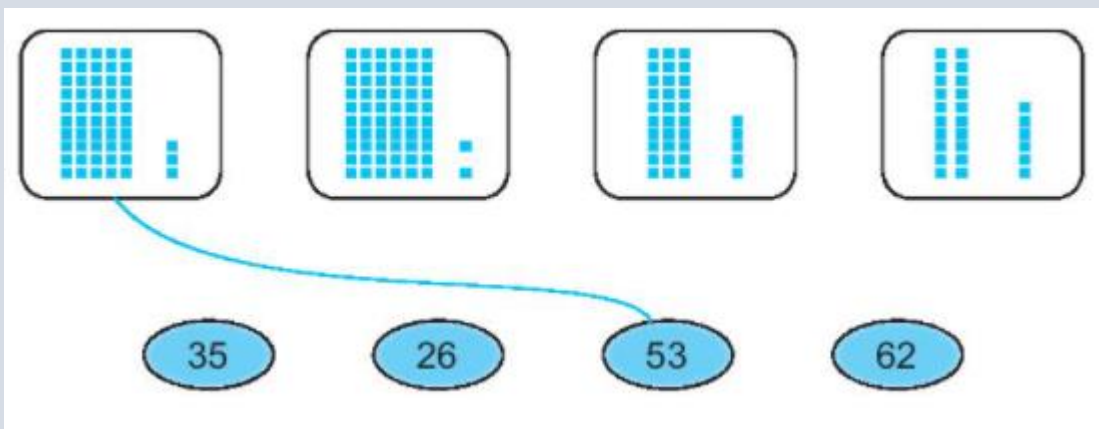
Số 5 em tô 5 ô vuông.

Số 100 em tô 100 ô vuông.



**Bài 3.**

Nói (theo mẫu).



**Phương pháp:**

Ta đếm mỗi cột gồm 10 ô vuông.

Đếm số ô vuông trong mỗi hình rồi nói với số thích hợp.

**Cách giải:**

Ta thấy mỗi cột gồm 10 ô vuông.

Em nói như sau:

