

BÀI 58: LUYỆN TẬP CHUNG (TIẾT 1)**MÔN: TOÁN – KẾT NỐI TRI THỨC VỚI CUỘC SỐNG - LỚP 2****BIÊN SOẠN: BAN CHUYÊN MÔN LOIGIAIHAY.COM****Câu 1.**

Viết số thích hợp vào chỗ chấm.

a) $5 \text{ dm} = \dots \text{ cm}$

$4 \text{ m} = \dots \text{ dm}$

$4 \text{ dm} = \dots \text{ cm}$

$2 \text{ m} = \dots \text{ cm}$

$7 \text{ m} = \dots \text{ dm}$

$9 \text{ m} = \dots \text{ cm}$

b) $100 \text{ cm} = 1 \text{ m}$

$10 \text{ dm} = 1 \text{ m}$

$800 \text{ cm} = \dots \text{ m}$

$30 \text{ dm} = \dots \text{ m}$

$400 \text{ cm} = \dots \text{ m}$

$60 \text{ dm} = \dots \text{ m}$

Phương pháp:

Áo dụng cách đổi:

$1 \text{ dm} = 10 \text{ cm}$

$1 \text{ m} = 10 \text{ dm}$

$100 \text{ cm} = 1 \text{ m}$

$10 \text{ dm} = 1 \text{ m}$

Cách giải:

a) $5 \text{ dm} = 50 \text{ cm}$

$4 \text{ m} = 40 \text{ dm}$

$4 \text{ dm} = 40 \text{ cm}$

$2 \text{ m} = 200 \text{ cm}$

$7 \text{ m} = 70 \text{ dm}$

$9 \text{ m} = 900 \text{ cm}$

b) $100 \text{ cm} = 1 \text{ m}$

$10 \text{ dm} = 1 \text{ m}$

$800 \text{ cm} = 8 \text{ m}$

$30 \text{ dm} = 3 \text{ m}$

$400 \text{ cm} = 4 \text{ m}$

$60 \text{ dm} = 6 \text{ m}$

Câu 2.

Phương pháp:

Đi qua các cây cầu từ đảo V đến đảo I hết số ki-lô-mét là $12 \text{ km} + 8 \text{ km}$.

Cách giải:

a) $8 \text{ km} < 12 \text{ km}$

Vậy đi theo các cây cầu từ đảo N đến đảo I gần hơn.

Chọn **B**.

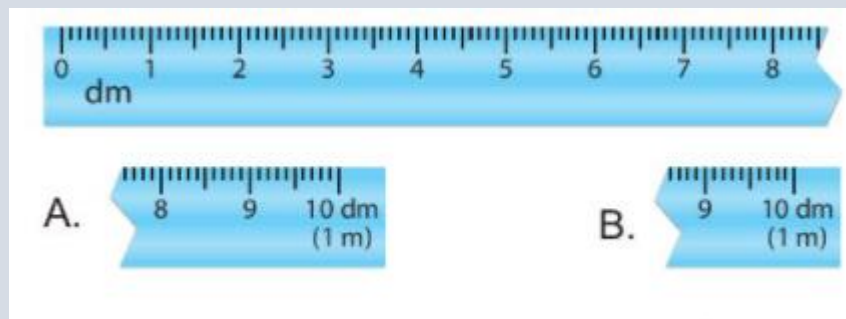
b) Đi qua các cây cầu từ đảo V đến đảo I hết số ki-lô-mét là $12 \text{ km} + 8 \text{ km} = 20 \text{ km}$

Chọn **B**.

Bài 3.

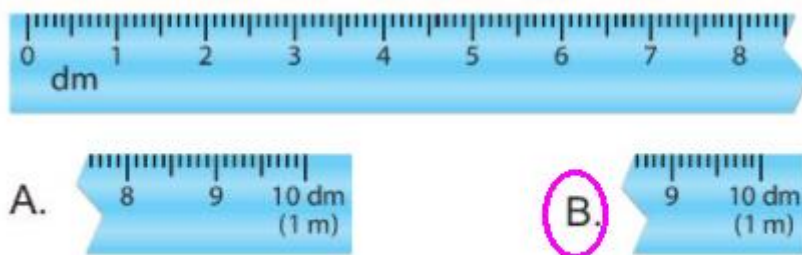
Khoanh vào chữ đặt trước câu trả lời đúng.

Chiếc thước 1 m bị gãy mất 1 đoạn. Hỏi trong hai đoạn A và B, đâu là đoạn bị gãy khỏi chiếc thước?

**Phương pháp:**

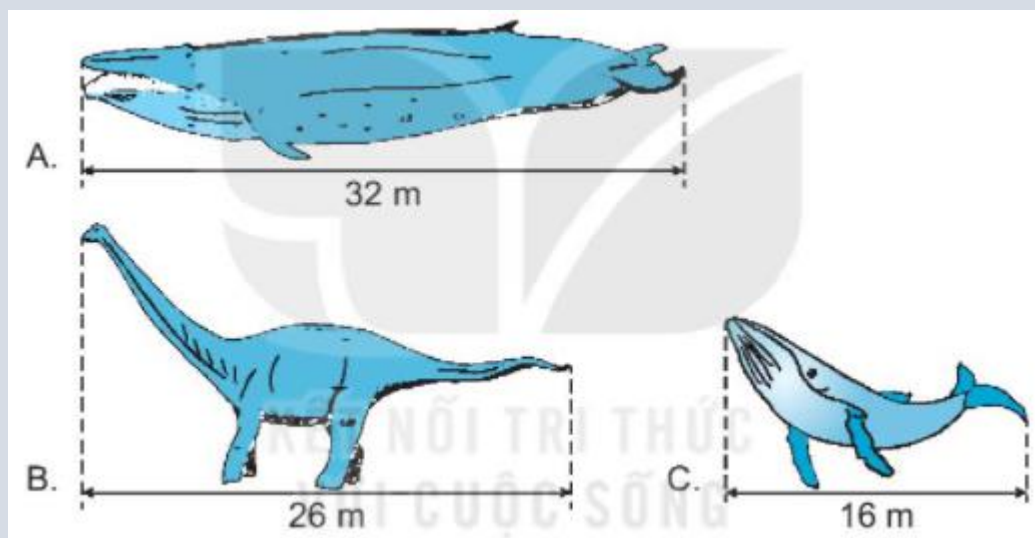
Quan sát hình vẽ ta thấy đoạn thước bị gãy đã có vạch số 8 dm, vậy đoạn thước bị gãy còn lại sẽ có vạch số 9 dm và 10 dm.

Cách giải:



Bài 4.

a) Khoanh vào chữ đặt trước con vật dài nhất.



b) Viết số thích hợp vào chỗ chấm.

Trong các con vật ở câu A, con vật B dài hơn con vật C là m.

Phương pháp:

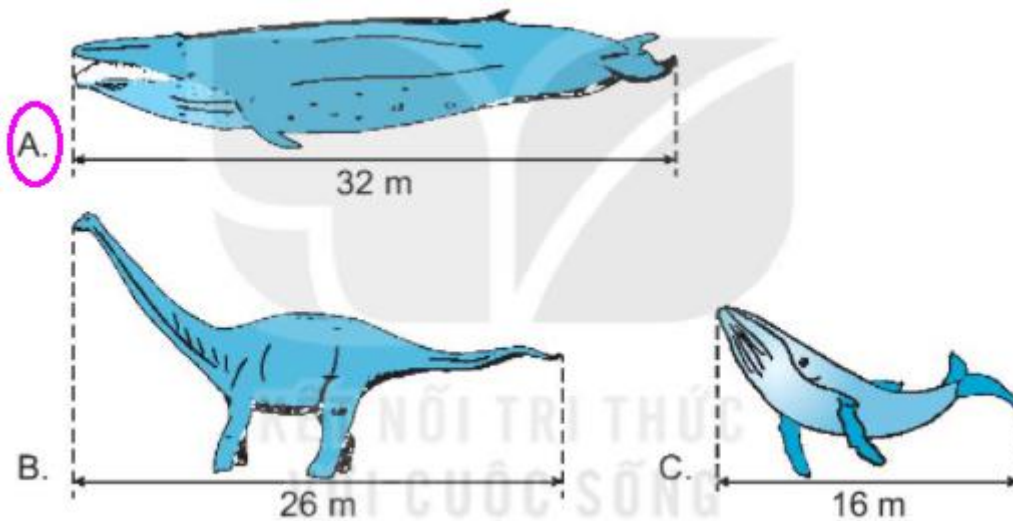
a) So sánh độ dài mỗi con vật rồi khoanh vào chữ đặt trước con vật dài nhất.

b) Con vật B dài hơn con vật C là $26\text{ m} - 16\text{ m}$

Cách giải:

a) Ta có $16\text{ m} < 26\text{ m} < 32\text{ m}$

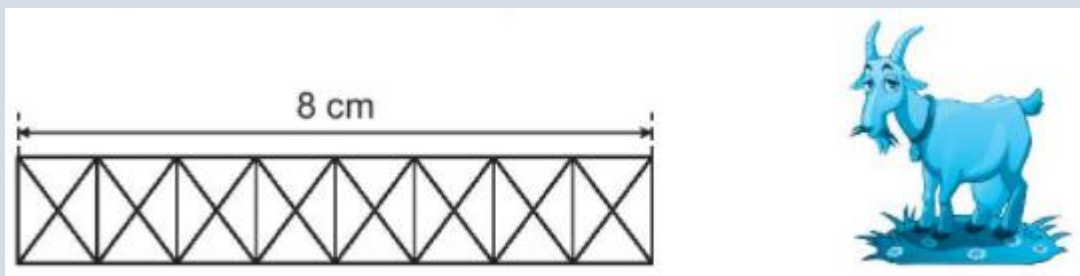
Nên cá sấu dài nhất.



b) Con vật B dài hơn con vật C là $26\text{ m} - 16\text{ m} = 10\text{ m}$.

Bài 5.

Bạn Nam định vẽ một hàng rào dài 1 dm. Bạn ấy đã vẽ được 8 cm. Em vẽ thêm để được hàng rào dài đúng 1 dm nhé.



Phương pháp:

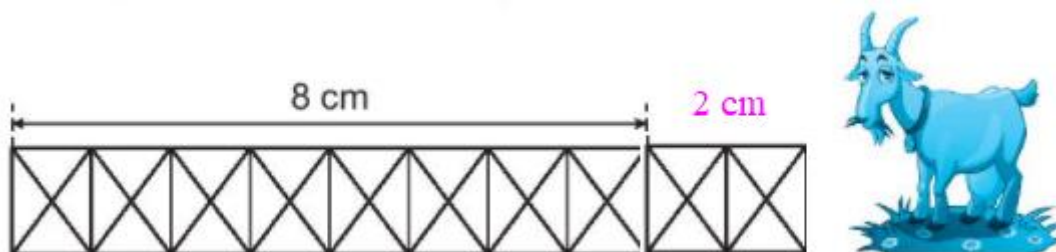
$1\text{ dm} = 10\text{ cm}$

Vậy Nam cần vẽ thêm số cm là $10 - 8 = 2\text{ (cm)}$

Cách giải:

$1\text{ dm} = 10\text{ cm}$

Vậy Nam cần vẽ thêm số cm là $10 - 8 = 2\text{ (cm)}$



Loigiaihay.com

Loigiaihay.com

Loigiaihay.com

Loigiai

Loigiaihay.com

Loigiaihay.com

Loigiai

Loigiaihay.com

hay.