

**BÀI 59: PHÉP CỘNG (KHÔNG NHỚ) TRONG PHẠM VI 1000 (TIẾT 2)****MÔN: TOÁN – KẾT NỐI TRI THỨC VỚI CUỘC SỐNG - LỚP 2****BIÊN SOẠN: BAN CHUYÊN MÔN LOIGIAIHAY.COM****Câu 1.**

Đặt tính rồi tính.

$156 + 240$

.....

.....

.....

$900 + 718$

.....

.....

.....

$803 + 170$

.....

.....

.....

$623 + 44$

.....

.....

.....

$545 + 212$

.....

.....

.....

$312 + 80$

.....

.....

.....

**Phương pháp:**

- Đặt tính sao cho các chữ số trong cùng hàng thẳng cột với nhau.
- Cộng theo các cột từ hàng đơn vị, hàng chục, hàng trăm.

**Cách giải:**

$$\begin{array}{r} 156 \\ + 240 \\ \hline 396 \end{array}$$

$$\begin{array}{r} 803 \\ + 170 \\ \hline 973 \end{array}$$

$$\begin{array}{r} 545 \\ + 212 \\ \hline 757 \end{array}$$

$$\begin{array}{r} 900 \\ + 78 \\ \hline 978 \end{array}$$

$$\begin{array}{r} 623 \\ + 44 \\ \hline 667 \end{array}$$

$$\begin{array}{r} 312 \\ + 80 \\ \hline 392 \end{array}$$

**Câu 2.**

Buổi sáng voi em uống 105 l nước, voi anh uống nhiều hơn voi em 20 l nước. Hỏi voi anh uống bao nhiêu lít nước vào buổi sáng?

**Phương pháp:**

Số lít nước voi anh uống buổi sáng = Số lít nước voi em uống + 20 lít

**Cách giải:**

Số lít nước voi anh uống vào buổi sáng là

$$105 + 20 = 125 \text{ (lít)}$$

Đáp số: 125 lít

**Bài 3.**

Vườn thuốc của ông nội bạn Nam trồng 131 cây thuốc. Vườn bên cạnh của bác sĩ Hùng trồng 142 cây thuốc. Hỏi cả hai vườn trồng tất cả bao nhiêu cây thuốc?

**Phương pháp:**

Số cây thuốc cả hai vườn trồng = Số cây ông nội trồng + số cây bác sĩ Hùng trồng.

**Cách giải:**

Cả hai vườn trồng tất cả số cây thuốc là

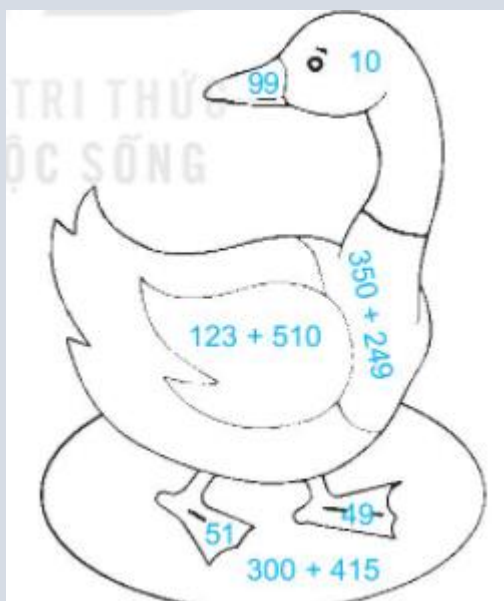
$$131 + 142 = 273 \text{ (cây thuốc)}$$

Đáp số: 273 cây thuốc

**Bài 4.**

Em hãy tô màu giúp bé Mi theo các yêu cầu sau:

- Với các số bé hơn 100: tô màu tím vào nơi chứa số bé nhất, màu vàng vào nơi chứa số lớn nhất và màu da cam vào nơi chứa hai số còn lại.
- Với các phép tính: Tô màu đen vào nơi chứa phép tính có kết quả bé nhất, tô màu xanh vào nơi chứa phép tính có kết quả lớn nhất.

**Phương pháp:**

Quan sát các số và tính nhẩm các phép tính rồi tô màu theo yêu cầu bài toán.

**Cách giải:**

- Với các số bé hơn 100

Số bé nhất là 10 (tô màu tím), số lớn nhất là 99 (tô màu vàng).

Hai số còn lại là 51 và 49 tô màu da cam.

- Với các phép tính:

$$123 + 510 = 633$$

$$350 + 249 = 599$$

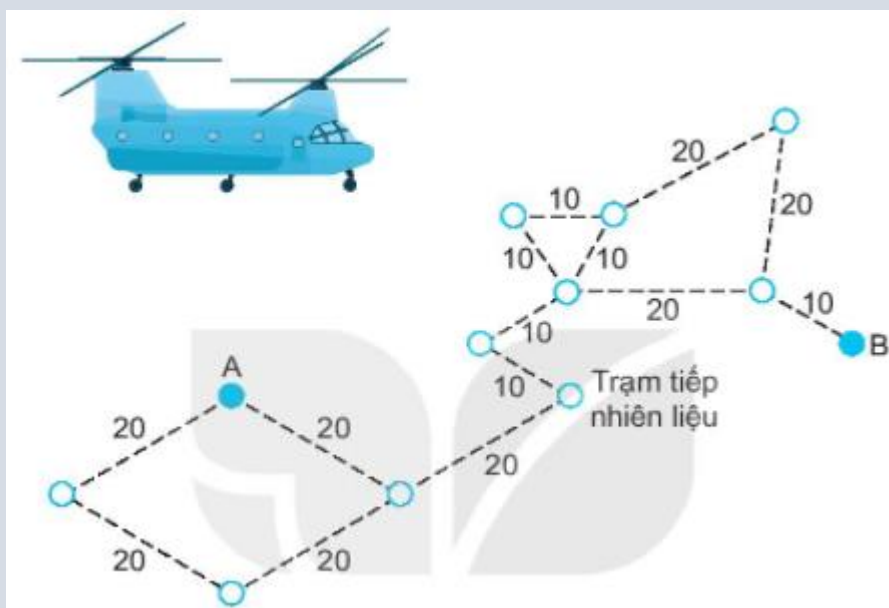
$$300 + 415 = 715$$

Vậy phép tính có kết quả bé nhất là 599 (tô màu đen)

Phép tính có kết quả lớn nhất là 715 (tô màu xanh)

**Bài 5.**

Trục thăng cần bay từ A đến B qua tất cả các điểm màu trắng, theo những đường nối, nhưng không điểm nào được đi qua quá một lần.



a) Em hãy tô đậm đường đi của trục thăng.

b) Viết số thích hợp vào chỗ chấm.

Trên đường kẻ ghi số là số đo chiều dài các đoạn đường theo ki-lô-mét.

Trục thăng bay từ A đến trạm tiếp nhiên liệu hết tất cả ..... km.

**Phương pháp:**

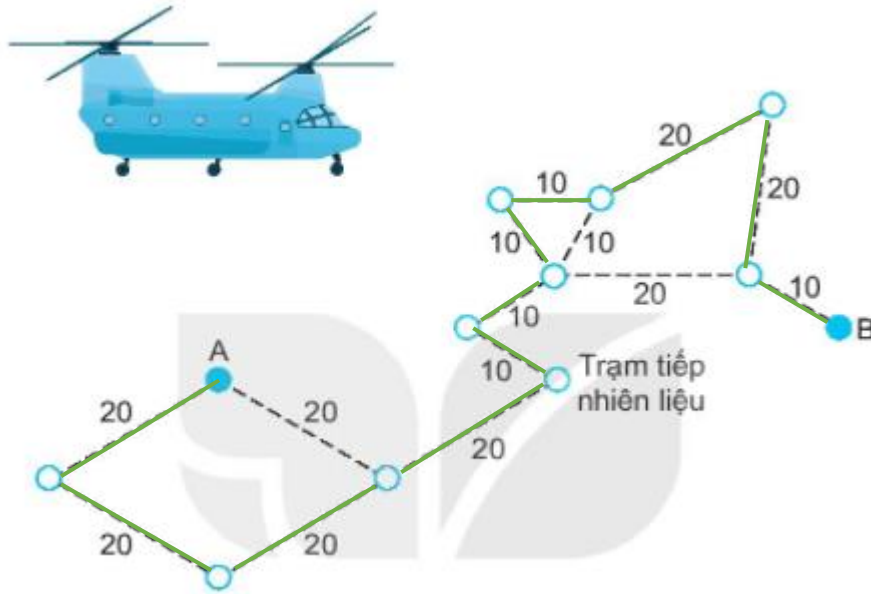
- Tô đậm đường đi của trục thăng từ A đến B qua tất cả các điểm màu trắng, theo những đường nối, nhưng không điểm nào được đi qua quá một lần.

- Độ dài đoạn đường từ A đến trạm tiếp nhiên liệu là  $20 \text{ km} + 20 \text{ km} + 20 \text{ km} + 20 \text{ km}$

**Cách giải:**

a) Trực thăng cần bay từ A đến B qua tất cả các điểm màu trắng, theo những đường nối, nhưng không điểm nào được đi qua quá một lần.

Ta nối như sau:



b) Độ dài đoạn đường từ A đến trạm tiếp nhiên liệu là  $20 \text{ km} + 20 \text{ km} + 20 \text{ km} + 20 \text{ km} = 80 \text{ km}$ .

Trực thăng bay từ A đến trạm tiếp nhiên liệu hết tất cả **80 km**.