

BÀI 69: ÔN TẬP PHÉP CỘNG, PHÉP TRỪ TRONG PHẠM VI 100 (TIẾT 2)

MÔN: TOÁN – KẾT NỐI TRI THỨC VỚI CUỘC SỐNG - LỚP 2



BIÊN SOẠN: BAN CHUYÊN MÔN LOIGIAIHAY.COM

Câu 1.

Đ, S?

$$\begin{array}{r} \text{a) } 27 \\ + 6 \\ \hline 87 \end{array} \quad \square$$

$$\begin{array}{r} \text{b) } 81 \\ - 7 \\ \hline 74 \end{array} \quad \square$$

$$\begin{array}{r} \text{c) } 36 \\ + 48 \\ \hline 84 \end{array} \quad \square$$

$$\begin{array}{r} \text{d) } 75 \\ - 39 \\ \hline 46 \end{array} \quad \square$$

Phương pháp:

Quan sát cách đặt tính rồi tính trong hình rồi điền Đ, S vào ô trống cho thích hợp.

Cách giải:

Ta thấy phép tính ở câu a đặt tính sai.

Phép tính ở câu d có kết quả sai. $75 - 39 = 36$.

$$\begin{array}{r} \text{a) } 27 \\ + 6 \\ \hline 87 \end{array} \quad \square \text{ S}$$

$$\begin{array}{r} \text{b) } 81 \\ - 7 \\ \hline 74 \end{array} \quad \square \text{ Đ}$$

$$\begin{array}{r} \text{c) } 36 \\ + 48 \\ \hline 84 \end{array} \quad \square \text{ Đ}$$

$$\begin{array}{r} \text{d) } 75 \\ - 39 \\ \hline 46 \end{array} \quad \square \text{ S}$$

Câu 2.

Đặt tính rồi tính.

a) $39 + 36$

.....

.....

.....

b) $66 + 28$

.....

.....

.....

c) $7 + 85$

.....

.....

.....

a) $85 - 56$

.....

.....

.....

b) $93 - 88$

.....

.....

.....

c) $52 - 9$

.....

.....

.....

Phương pháp:

- Đặt tính sao cho các chữ số cùng hàng thẳng cột với nhau.
- Tính theo thứ tự từ phải sang trái.

Cách giải

$$\begin{array}{r} 39 \\ + 36 \\ \hline 75 \end{array}$$

$$\begin{array}{r} 66 \\ + 28 \\ \hline 94 \end{array}$$

$$\begin{array}{r} 7 \\ + 85 \\ \hline 92 \end{array}$$

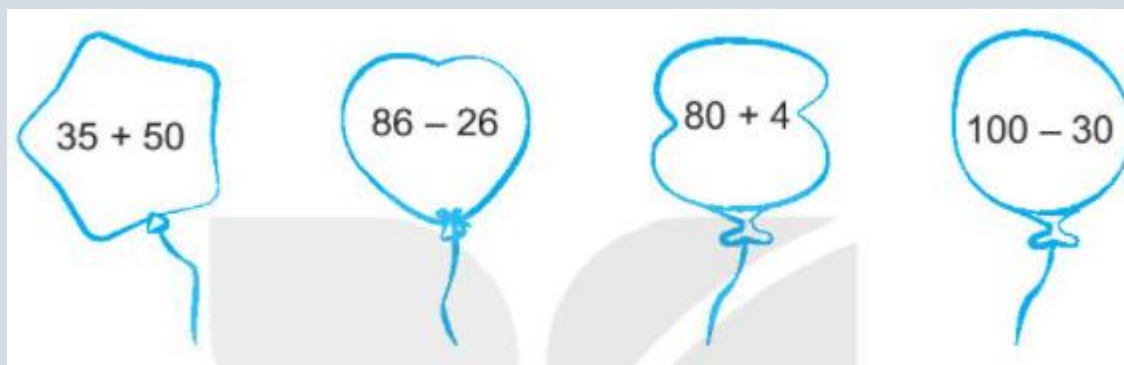
$$\begin{array}{r} 85 \\ - 56 \\ \hline 29 \end{array}$$

$$\begin{array}{r} 93 \\ - 88 \\ \hline 5 \end{array}$$

$$\begin{array}{r} 52 \\ - 9 \\ \hline 43 \end{array}$$

Bài 3.

Tô màu vàng vào quả bóng ghi phép tính có kết quả bé nhất, màu tím vào quả bóng ghi phép tính có kết quả lớn nhất.

**Phương pháp:**

Em thực hiện tính kết quả phép tính trên mỗi quả bóng rồi tô màu theo yêu cầu bài toán.

Cách giải:


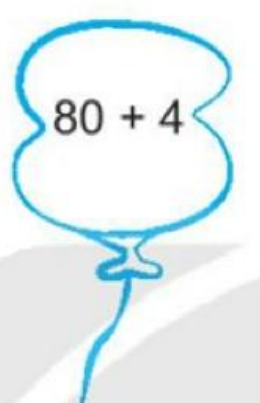
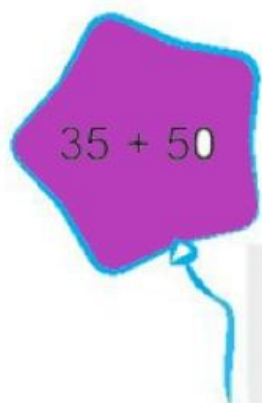
$$\text{Ta có } 35 + 50 = 85$$

$$86 - 26 = 60$$

$$80 + 4 = 84$$

$$100 - 30 = 70$$

Mà $60 < 60 < 84 < 85$ nên ta tô màu vàng vào quả bóng ghi phép tính $86 - 26$, tô màu tím vào quả bóng ghi phép tính $35 + 50$.



Bài 4.

Trong ngày sinh nhật bà, Việt hỏi: Bà ơi, năm nay bà bao nhiêu tuổi?”. Bà nói: “Cháu tính nhé! Năm nay ông 65 tuổi, bà kém ông 6 tuổi.” Em hãy cùng Việt tính tuổi của bà?

Phương pháp:

Số tuổi của bà hiện nay = Số tuổi của ông – 6 tuổi.

Cách giải:

Số tuổi của bà hiện nay là

$$65 - 6 = 59 \text{ (tuổi)}$$

Đáp số: 59 tuổi

Bài 5.

a) Tính.

$$76 + 18 - 9 = \dots\dots\dots$$

$$81 - 54 + 8 = \dots\dots\dots$$

b) Viết tiếp vào chỗ chấm cho thích hợp.

Tìm hiệu của số tròn chục lớn nhất có hai chữ số và số bé nhất có hai chữ số giống nhau.

- Số tròn chục lớn nhất có hai chữ số là:
- Số bé nhất có hai chữ số giống nhau là:
- Hiệu của hai số trên là:

Phương pháp:

- Em thực hiện tính từ trái sang phải.

- Tìm các số theo yêu cầu của bài toán rồi tìm hiệu của chúng.

Cách giải:

a) $76 + 18 - 9 = 94 - 9 = 85$

$$81 - 54 + 8 = 27 + 8 = 35$$

b) Tìm hiệu của số tròn chục lớn nhất có hai chữ số và số bé nhất có hai chữ số giống nhau.

- Số tròn chục lớn nhất có hai chữ số là: 90
- Số bé nhất có hai chữ số giống nhau là: 11
- Hiệu của hai số trên là: $90 - 11 = 79$

Loigiaihay.com

Loigiaihay.com

Loigiaihay.com

Loigiai

Loigiaihay.com

Loigiaihay.com

Loigiai

Loigiaihay.com