

BÀI 9: HY LẠP VÀ LA MÃ CỔ ĐẠI

CHƯƠNG 3: XÃ HỘI CỔ ĐẠI

MÔN: LỊCH SỬ VÀ ĐỊA LÝ LỚP 6- CÁNH DIỀU




BIÊN SOẠN: BAN CHUYÊN MÔN LOIGIAIHAY.COM

Giải bài 5 trang 18 sách bài tập Lịch sử 6- Cánh Diều



Hãy cho biết tên của các hình ảnh dưới đây và chỉ ra đâu là thành tựu văn hóa của Hy Lạp, đâu là thành tựu văn hóa của La mã ?

Tên gọi	Chức năng	Tên gọi	Chức năng
Alpha (a)	A α	Nu (ν)	N ν
Beta (b)	B β	Xi (ξ)	Ξ ξ
Gamma (γ)	Γ γ	Omicron (o)	Ο ο
Delta (δ)	Δ δ	Pi (π)	Π π
Epsilon (ε)	Ε ε	Rho (ρ)	Ρ ρ
Zeta (ζ)	Ζ ζ	Sigma (σ)	Σ σ
Eta (η)	Η η	Tau (τ)	Τ τ
Theta (θ)	Θ θ	Epsilon (ε)	Υ υ
Iota (ι)	Ι ι	Phi (φ)	Φ φ
Kappa (κ)	Κ κ	Chi (χ)	Χ χ
Lambda (λ)	Λ λ	Psi (ψ)	Ψ ψ
Mu (μ)	Μ μ	Omega (ω)	Ω ω





Hình 9.1

Hình 9.2

Hình 9.3

Hình 9.4

Hình 9.5

Hình 9.6

Phương pháp:

Dựa vào nội dung trang 46- 47 SGK.

Giải chi tiết:

Hình 9.1: Bảng chữ cái của người Hy Lạp

Hình 9.2: Mặt một chiếc đồng hồ sử dụng số La Mã.

Hình 9.3: Văn khắc bằng tiếng La-tinh ở đấu trường Cô-li-dê

Hình 9.4: Tượng cẩm thạch Hê-đô-rốt tại bảo tàng A-ten (Hy- Lạp)

Hình 9.5: Tượng lực sĩ ném đĩa (Hy Lạp)

Hình 9.6: Nhà Toán học Pi-ta-go (Hy Lạp)

Loigiaihay.com