

BÀI 71: ÔN TẬP PHÉP NHÂN, PHÉP CHIA (TIẾT 2)

MÔN: TOÁN – KẾT NỐI TRI THỨC VỚI CUỘC SỐNG - LỚP 2



BIÊN SOẠN: BAN CHUYÊN MÔN LOIGIAIHAY.COM

Câu 1.

Số?

a)	Thừa số	2	2	2	5	5	5
	Thừa số	6	7	8	4	5	9
	Tích						
b)	Số bị chia	12	14	16	15	30	45
	Số chia	2	2	2	5	5	5
	Thương						

Phương pháp:

- Để tìm tích ta lấy thừa số thứ nhất nhân với thừa số thứ hai.
- Để tìm thương ta lấy số bị chia chia cho số chia.

Cách giải:

a)	Thừa số	2	2	2	5	5	5
	Thừa số	6	7	8	4	5	9
	Tích	12	14	16	20	25	45
b)	Số bị chia	12	14	16	15	30	45
	Số chia	2	2	2	5	5	5
	Thương	6	7	8	3	6	9

Câu 2.

Phương pháp:

Em thực hiện tính nhằm rồi nối chìa khóa với ổ khóa có kết quả phép tính giống nhau.

Cách giải

Em thực hiện tính:

$$12 : 2 = 6$$

$$2 \times 4 = 8$$

$$10 : 2 = 5$$

$$2 \times 5 = 10$$

$$20 : 5 = 4$$

$$40 : 5 = 8$$

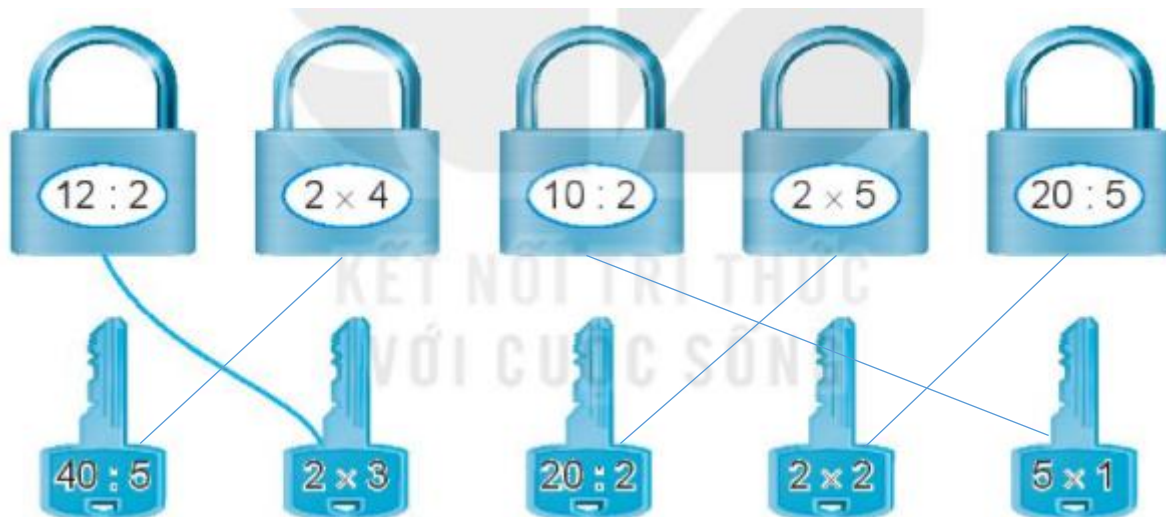
$$2 \times 3 = 6$$

$$20 : 2 = 10$$

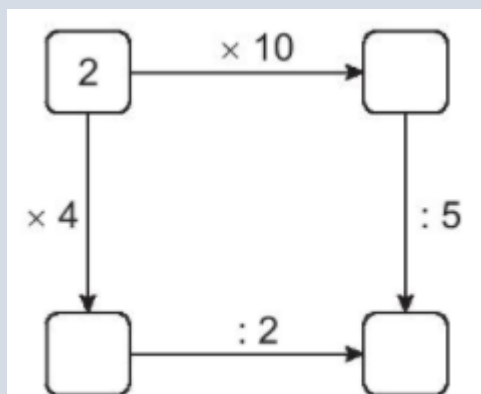
$$2 \times 2 = 4$$

$$5 \times 1 = 5$$

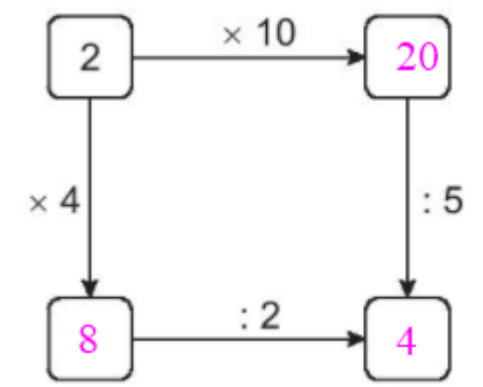
Ta nối như sau:

**Bài 3.**

Số?

**Phương pháp:**

Tính nhằm kết quả các phép tính theo chiều mũi tên rồi điền số thích hợp vào ô trống.

Cách giải:**Bài 4.**

Mỗi chuyến hàng chở vào miền Trung giúp đỡ đồng bào bị lũ lụt có 5 ô tô chở hàng. Hỏi 3 chuyến hàng như vậy có bao nhiêu ô tô chở hàng?

Phương pháp:

Để tính 3 chuyến hàng có bao nhiêu ô tô ta lấy số ô tô cần cho mỗi chuyến hàng nhân với 3.

Cách giải:

3 chuyến hàng như vậy có số ô tô chở hàng là

$$5 \times 3 = 15 \text{ (ô tô)}$$

Đáp số: 15 ô tô

Bài 5.

Có 5 thanh tre dài bằng nhau. Rô-bốt đan được một ngôi sao 5 cánh. Hỏi phải dùng bao nhiêu thanh tre như vậy để đan được 4 ngôi sao 5 cánh?

Số thanh tre để đan được 4 ngôi sao 5 cánh = Số ngôi sao x Số cánh của mỗi ngôi sao.

Cách giải:

Số thanh tre để đan được 4 ngôi sao 5 cánh là

$$4 \times 5 = 20 \text{ (thanh tre)}$$

Đáp số: 20 thanh tre

Loigiaihay.com