

BÀI: BẢNG NHÂN 2

SÁCH: VBT TOÁN – CHÂN TRỜI SÁNG TẠO - LỚP 2

 **BIÊN SOẠN: BAN CHUYÊN MÔN LOIGIAIHAY.COM**

Câu 1.

Viết (theo mẫu):

Mẫu: $2 \times 5 = ?$

$2 + 2 + 2 + 2 + 2 = 10$

$2 \times 5 = 10$

a) $2 \times 3 = ?$

..... = ...

$2 \times 3 = \dots$

b) $2 \times 10 = ?$

..... = ...

$2 \times 10 = \dots$

Phương pháp:

Quan sát tranh, em viết thành tổng các số hạng bằng nhau và tính kết quả phép nhân tương ứng.

Cách giải:

Mẫu: $2 \times 5 = ?$

$2 + 2 + 2 + 2 + 2 = 10$

$2 \times 5 = 10$

a) $2 \times 3 = ?$

$2 + 2 + 2 = 6$

$2 \times 3 = 6$

b) $2 \times 10 = ?$

$2 + 2 + 2 + 2 + 2 + 2 + 2 + 2 + 2 + 2 = 20$

$2 \times 10 = 20$

Câu 2.

Viết số vào chỗ chấm.

$2 \times 1 = 2$	
$2 \times 2 = 4$	+ 2
$2 \times 3 = 6$	+ 2
$2 \times 4 = \dots$	+ 2
$2 \times 5 = \dots$	+ 2
$2 \times 6 = \dots$	+ 2
$2 \times 7 = \dots$	+ 2
$2 \times 8 = \dots$	+ 2
$2 \times 9 = \dots$	+ 2
$2 \times 10 = \dots$	+ 2

Phương pháp:

Thực hiện tính nhẩm kết quả các phép tính dựa vào bảng nhân 2.

Cách giải

$2 \times 1 = 2$	
$2 \times 2 = 4$	+ 2
$2 \times 3 = 6$	+ 2
$2 \times 4 = 8$	+ 2
$2 \times 5 = 10$	+ 2
$2 \times 6 = 12$	+ 2
$2 \times 7 = 14$	+ 2
$2 \times 8 = 16$	+ 2
$2 \times 9 = 18$	+ 2
$2 \times 10 = 20$	+ 2

Bài 3.

Viết số vào ô trống.

2	4	6		
	18	16		12
4	6			12
8		12		16
12	14			20

Phương pháp:

Đếm thêm 2 đơn vị rồi viết các số còn thiếu vào chỗ trống.

Cách giải:

2	4	6	8	10
20	18	16	14	12
4	6	8	10	12
8	10	12	14	16
12	14	16	18	20

Bài 4.

Tính nhẩm:

$2 \times 1 = \dots$

$2 \times 5 = \dots$

$2 \times 10 = \dots$

$2 \times 2 = \dots$

$2 \times 6 = \dots$

$2 \times 9 = \dots$

$2 \times 3 = \dots$

$2 \times 4 = \dots$

$2 \times 8 = \dots$

Phương pháp:


Thực hiện tính nhẩm kết quả các phép tính dựa vào bảng nhân 2.

Cách giải:

$2 \times 1 = 2$	$2 \times 5 = 10$	$2 \times 10 = 20$
$2 \times 2 = 4$	$2 \times 6 = 12$	$2 \times 9 = 18$
$2 \times 3 = 6$	$2 \times 4 = 8$	$2 \times 8 = 16$

Bài 5.

Tô màu các con gà có số là **kết quả của phép tính trong bảng nhân 2.**



Phương pháp:

Các số là kết quả của phép tính trong bảng nhân 2 là: 2, 4, 6, 8, 10, 12, 14, 16, 18, 20.

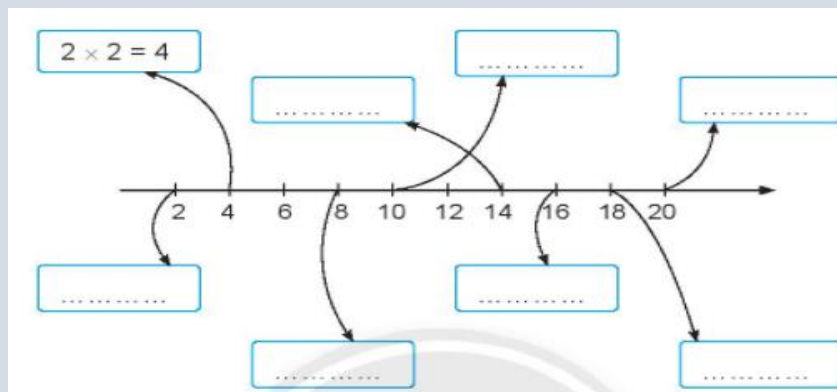
Cách giải:

Các số là kết quả của phép tính trong bảng nhân 2 là: 2, 4, 6, 8, 10, 12, 14, 16, 18, 20.

Tự tô màu vào hình vẽ.

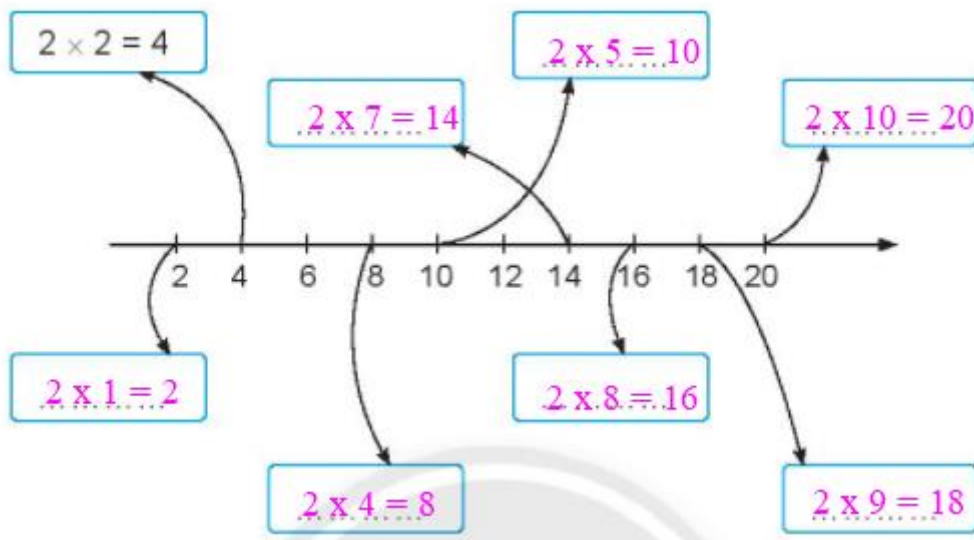
Bài 6.

Viết các phép nhân trong bảng nhân 2 (theo mẫu).




Viết các phép tính trong bảng nhân 2 vào ô trống sao cho kết quả của phép tính đó tương ứng với các vạch trên tia số.

Cách giải:



Bài 7.

Tô màu các ngôi nhà và xe ô tô có **phép tính đúng**.



Phương pháp:

Quan sát tranh, em tính nhẩm dựa vào bảng nhân 2 và tô màu các ngôi nhà và xe ô tô có **phép tính đúng**.

Cách giải:

Các phép tính đúng là:

$2 \times 8 = 16$

$2 \times 7 = 14$

$2 \times 6 = 12$

$2 \times 9 = 18$

$2 \times 10 = 20$

$2 \times 4 = 8$

Em tự tô màu vào hình vẽ.

Loigiaihay.com