

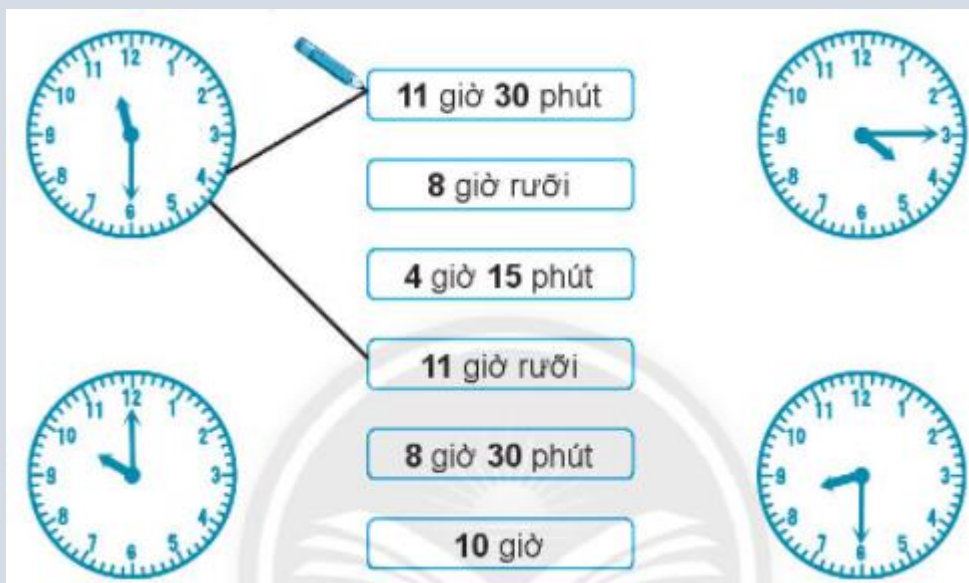
BÀI: GIỜ, PHÚT, XEM ĐỒNG HỒ

SÁCH: VBT TOÁN – CHÂN TRỜI SÁNG TẠO - LỚP 2

 BIÊN SOẠN: BAN CHUYÊN MÔN LOIGIAIHAY.COM

Câu 1.

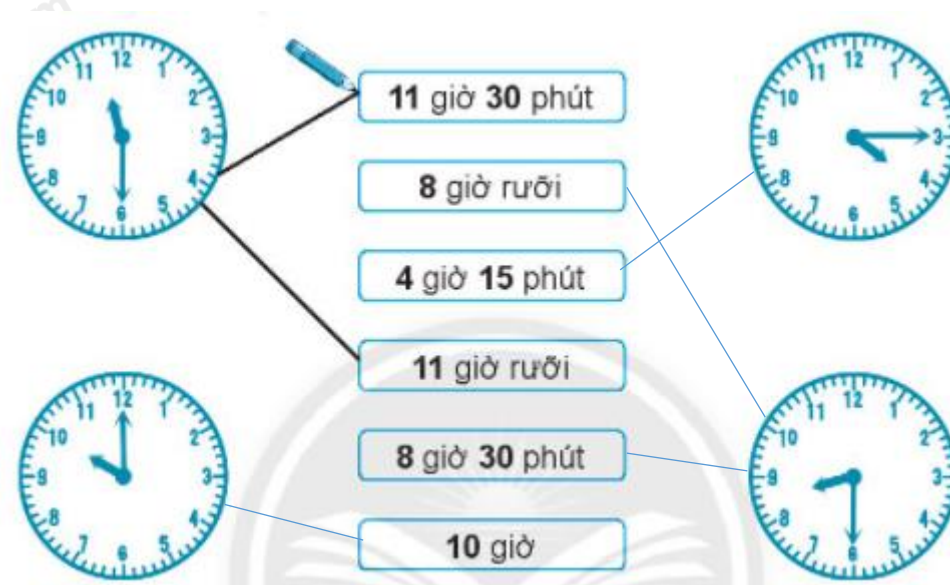
Nói (theo mẫu).



Phương pháp:

Quan sát hình vẽ, em nối đồng hồ với thời gian tương ứng theo mẫu.

Cách giải:



Câu 2.

Truy Đồng hồ chỉ mấy giờ? (viết theo mẫu)

Phương pháp:

a) Chia đều 15 cái kẹo cho 5 bạn, mỗi bạn được cái kẹo.

Phương pháp:

Quan sát tranh rồi viết thời gian tương ứng trên mỗi đồng hồ theo ví dụ mẫu.

Cách giải



Bài 3.

Vẽ thêm kim phút để đồng hồ chỉ:



Phương pháp:

Quan sát tranh, em vẽ thêm kim phút để đồng hồ chỉ thời gian theo đề bài đưa ra.

Lưu ý: Vẽ kim phút dài hơn kim giờ và mỗi vạch chia 1, 2, 3, ... liền nhau tương ứng với 5 phút.

Cách giải:**Bài 4.**

Đánh dấu vào đồng hồ chỉ 3 giờ.

**Phương pháp:**

3 giờ tương ứng với 15 giờ. Em đánh dấu thích hợp vào hình vẽ.

Cách giải:

3 giờ tương ứng với 15 giờ. Em đánh dấu vào hình số 3.

Bài 5.

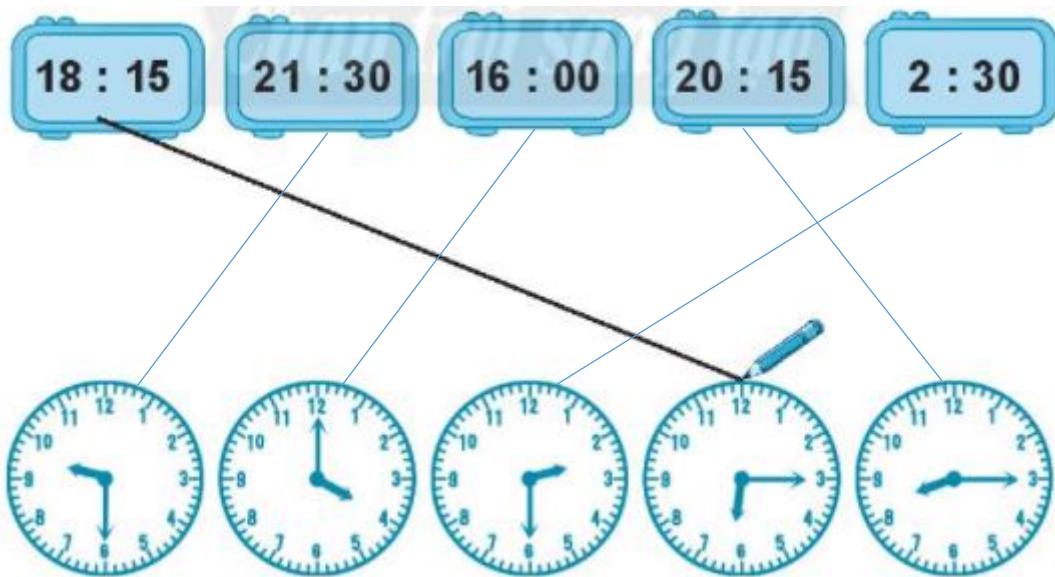
Nói các đồng hồ chỉ cùng một thời điểm:



Phương pháp:

Quan sát tranh, em nối mỗi đồng hồ với thời gian tương ứng theo ví dụ mẫu.

Cách giải:



Bài 6.

Viết vào chỗ chấm (theo mẫu).

			
--	---	---	--

Phương pháp:

Quan sát tranh, em viết thời gian tương ứng với mỗi đồng hồ theo ví dụ mẫu.

Cách giải:

CHIỀU	13 : 00 1 giờ chiều	14 : 00 2 giờ chiều	15 : 00 3 giờ chiều
	16 : 30 4 giờ 30 phút chiều	17 : 15 5 giờ 15 phút chiều	18 : 00 6 giờ chiều
TỐI	19 : 00 7 giờ tối	20 : 30 8 giờ 30 phút tối	21 : 00 9 giờ tối
ĐÊM	22 : 00 10 giờ đêm	23 : 30 11 giờ 30 phút đêm	00 : 00 12 giờ đêm

Bài 7.

Đúng ghi đ, sai ghi s.

a) 17 giờ tức là 7 giờ chiều. b) 19 giờ tức là 9 giờ tối.

c) 17 giờ tức là 5 giờ chiều. d) 20 giờ tức là 8 giờ tối.

Phương pháp:

Đọc các câu đã cho rồi điền đ, s thích hợp vào ô trống.

Cách giải:

- a) 17 giờ tức là 7 giờ chiều. s b) 19 giờ tức là 9 giờ tối. s
- c) 17 giờ tức là 5 giờ chiều. đ d) 20 giờ tức là 8 giờ tối. đ
- e) 17 giờ tức là 9 giờ tối. s g) 21 giờ tức là 9 giờ tối. đ

Bài 8.

Quan sát tranh, viết vào chỗ chấm (theo mẫu).

 <p>Bạn đánh răng lúc 6 giờ 15 phút.</p>	 <p>Lúc 6 giờ rưỡi, bạn ăn sáng.</p>	
 <p>..... bạn đến</p>	 <p>Chăm trời sáng tới bạn học</p>	 <p>Bạn chơi bóng</p>

Phương pháp:

Xem đồng hồ rồi viết thời gian tương ứng cho mỗi hoạt động.

Cách giải:



Lúc 7 giờ
bạn đến
cổng trường.



Lúc 9 giờ 30 phút,
bạn học
trong lớp.



Bạn chơi bóng
lúc 5 giờ 15 phút
chiều.

Bài 9.

a) Viết số vào chỗ chấm.

1 giờ = phút

60 phút 1 giờ

b) >, <, =

1 giờ 60 phút

45 phút 1 giờ

1 giờ 35 phút

90 phút 1 giờ

Phương pháp:

Áp dụng cách đổi: 1 giờ = 60 phút ; 60 phút = 1 giờ

Cách giải:

a) 1 giờ = 60 phút

60 phút = 1 giờ

b) 1 giờ = 60 phút


45 phút < 1 giờ

1 giờ > 35 phút

90 phút > 1 giờ

Bài 10.

Viết vào chỗ chấm: lâu hơn hay mau hơn (nh nhanh hơn).



Phương pháp:

So sánh thời gian đánh răng của hai bạn rồi viết vào chỗ chấm lâu hơn hay mau hơn (nh nhanh hơn).

Cách giải:

- a) Hải đánh răng **nh nhanh hơn** Lan.
 b) Lan đánh răng **lâu hơn** Hải.

Bài 11.

Giờ hay phút?

Nam mặc quần áo trong 5

Hà được xem ti vi trong 60

Dũng chơi ở công viên trong 2

Gia đình em vệ sinh nhà trong 1

Quan sát tranh rồi điền từ “giờ” hoặc “phút” cho thích hợp với mỗi hoạt động.

Cách giải:

Nam mặc quần áo trong 5 **phút**.

Hà được xem ti vi trong 60 **phút**.

Dũng chơi ở công viên trong 2 **giờ**.

Gia đình em vệ sinh nhà trong 1 **giờ**.

Loigiaihay.com