

BÀI: THỰC HÀNH VÀ TRẢI NGHIỆM (TRANG 39)

SÁCH: VBT TOÁN – CHÂN TRỜI SÁNG TẠO - LỚP 2




BIÊN SOẠN: BAN CHUYÊN MÔN LOIGIAIHAY.COM


Câu 1.

Viết phép nhân để tính.


a)
2 con kiến có tất cả bao nhiêu cái chân?



b)
Có tất cả bao nhiêu cái bánh ở hình bên?



c)
5 con bò có tất cả bao nhiêu cái chân?


Phương pháp:

- Để tính số cái chân của 2 con kiến ta lấy ta thấy số con kiến nhân với số chân của mỗi con kiến.
- Để tính tất cả số cái bánh ta lấy số hộp bánh nhân với số cái bánh trong mỗi hộp.
- Để tính số chân bò ta lấy số con bò nhân với số chân của mỗi con bò.

Cách giải:

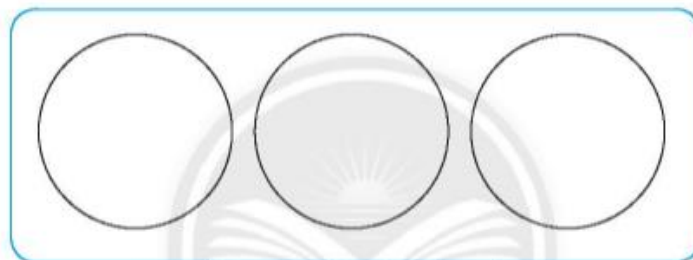
- a) $2 \times 6 = 12$
 b) $5 \times 6 = 30$
 c) $5 \times 4 = 20$

Câu 2.

Vẽ hình thể hiện các phép chia rồi viết phép chia.



a) Xếp đều 12 quả cam vào 3 đĩa.



b) Xếp 12 quả cam vào các đĩa, mỗi đĩa 6 quả.

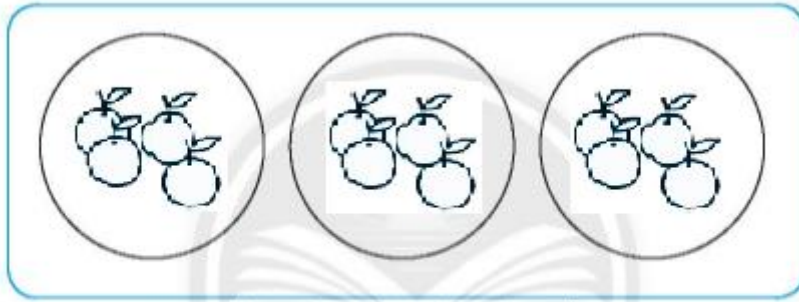
**Phương pháp:**

- Để xếp đều 12 quả cam vào 3 đĩa ta thực hiện phép chia $12 : 3$
- Để xếp 12 quả cam vào các đĩa, mỗi đĩa 6 quả ta thực hiện phép chia $12 : 6$

Cách giải

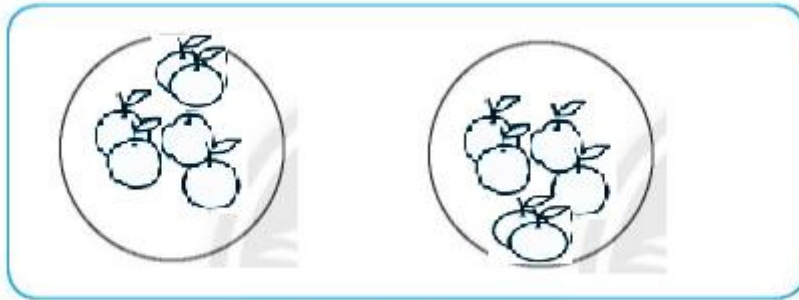
- a) Xếp đều 12 quả cam vào 3 đĩa ta thực hiện phép chia $12 : 3 = 4$
 b) Xếp 12 quả cam vào các đĩa, mỗi đĩa 6 quả ta thực hiện phép chia $12 : 6 = 2$

a) Xếp đều 12 quả cam vào 3 đĩa.



$$12 : 3 = 4$$

b) Xếp 12 quả cam vào các đĩa, mỗi đĩa 6 quả.



$$12 : 2 = 6$$