

BÀI: CÁC SỐ TỪ 101 ĐẾN 110

SÁCH: VBT TOÁN – CHÂN TRỜI SÁNG TẠO - LỚP 2



BIÊN SOẠN: BAN CHUYÊN MÔN LOIGIAIHAY.COM

Câu 1.

Viết (theo mẫu).

	Trăm	Chục	Đơn vị	Viết số	Đọc số
	1	0	1	101	một trăm linh một

Phương pháp:

Quan sát hình vẽ, mỗi hình vuông lớn gồm 100 ô vuông nhỏ.

Mỗi cột dọc tương ứng với 10 ô vuông nhỏ.

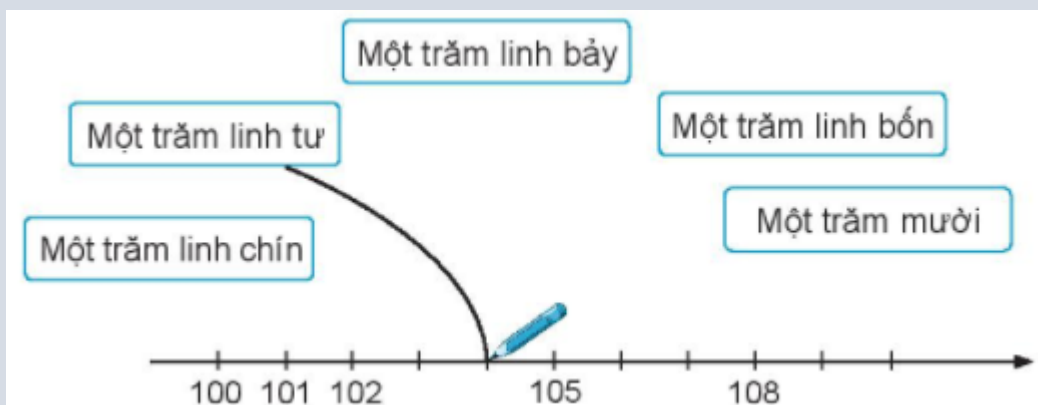
Xác định số ô vuông nhỏ trong mỗi hình để biết được các trăm, chục, đơn vị, viết số và đọc số đó.

Cách giải:

	Trăm	Chục	Đơn vị	Viết số	Đọc số
	1	0	1	101	một trăm linh một
	1	0	2	102	một trăm linh hai
	1	0	4	104	một trăm linh bốn
	1	0	5	105	một trăm linh năm
	1	0	6	106	một trăm linh sáu
	1	0	9	109	một trăm linh chín
	1	1	0	110	một trăm mười

Câu 2.

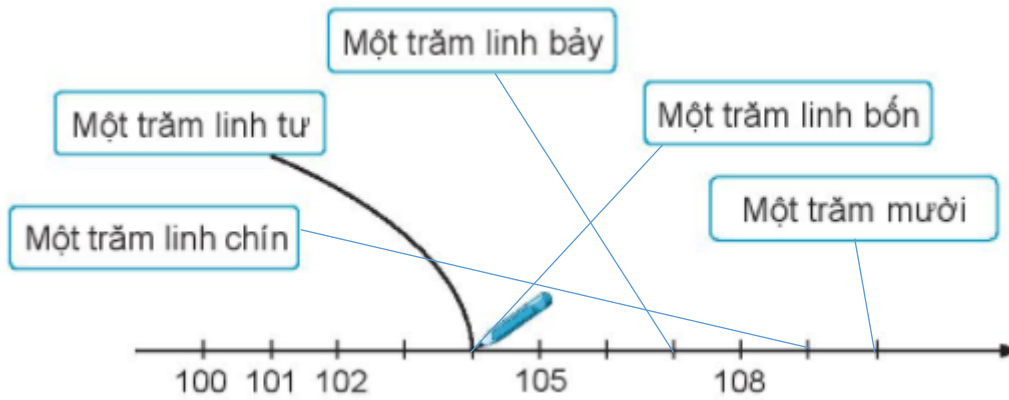
Nói (theo mẫu).



Phương pháp:


Nói mỗi cách đọc với số tương ứng trên tia số.

Cách giải



Bài 3.

Viết số vào chỗ chấm.




Phương pháp:

Ta nhận thấy quy luật:

- Ở hàng ngang: Số liền sau hơn số liền trước 1 đơn vị.
- Ở phía trên bên trái: Các số tròn chục có 3 chữ số từ 100 đến 170.
- Ở phía trên bên phải: Các số tròn trăm từ 300 đến 1 000.

Từ đó em điền được các số còn thiếu.

Cách giải:



Bài 4.

Viết số vào chỗ chấm (theo mẫu).

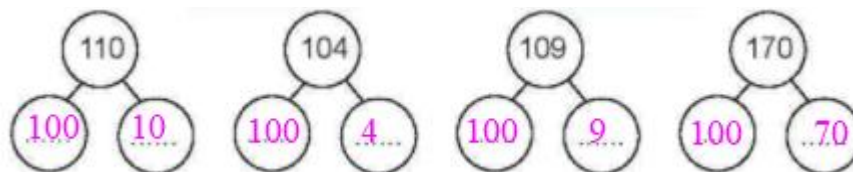
Mẫu:

Phương pháp:

Quan sát ví dụ mẫu ta thấy, mỗi số ở hàng trên bằng tổng hai số ở hàng dưới.

Từ đó em tìm được số còn thiếu.

Cách giải:



Bài 5.

Đúng ghi đ, sai ghi s?

a) $106 = 10 + 6$
 b) $106 = 100 + 60$
 c) $106 = 100 + 6$

Phương pháp:

Dựa vào cách phân tích số thành tổng các trăm, chục, đơn vị rồi ghi đ, s vào mỗi dòng cho thích hợp.

Cách giải:

a) $106 = 10 + 6$ s

b) $106 = 100 + 60$ s

c) $106 = 100 + 6$ đ

Bài 6.

Quan sát tranh, viết vào chỗ chấm.

**Phương pháp:**

Xem giờ trên đồng hồ rồi viết thời gian thích hợp vào chỗ chấm.

Cách giải:

Chúng em chào cờ vào lúc 7 giờ 30 phút, **thứ Hai** hằng tuần.

Loigiaihay.com

Loigiaihay.com

Loigiaihay.com

Loigiai

Loigiaihay.com

Loigiaihay.com

Loigiaiha

Loigiaihay.com

Loigiai