








## BÀI: CÁC SỐ TỪ 111 ĐẾN 200

SÁCH: VBT TOÁN – CHÂN TRỜI SÁNG TẠO - LỚP 2

 BIÊN SOẠN: BAN CHUYÊN MÔN LOIGIAIHAY.COM

## Câu 1.

Viết (theo mẫu).

	Trăm	Chục	Đơn vị	Viết số	Đọc số
	1	1	1	111	một trăm mười một
					một trăm hai mươi hai
					một trăm bốn mươi một
					
					
					
					








**Phương pháp:**

Quan sát hình vẽ, mỗi hình vuông lớn gồm 100 ô vuông nhỏ.

Mỗi cột dọc gồm 10 hình vuông nhỏ.

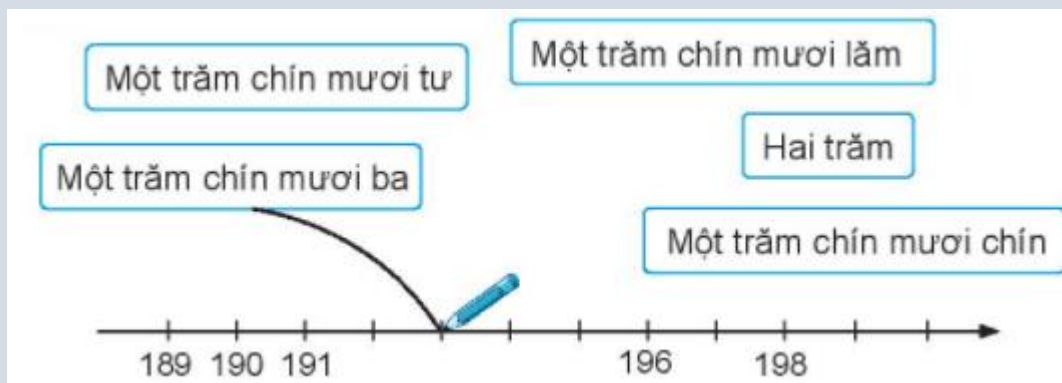
Xác định số hình vuông nhỏ từ đó em biết được các trăm, chục, đơn vị, viết số và đọc số tương ứng.

**Cách giải:**

	Trăm	Chục	Đơn vị	Viết số	Đọc số
	1	1	1	111	một trăm mười một
	1	2	5	125	một trăm hai mươi lăm
	1	4	1	141	một trăm bốn mươi một
	1	5	5	155	một trăm năm mười lăm
	1	6	4	164	một trăm sáu mười tư
	1	6	9	169	một trăm sáu mười chín
	2	0	0	200	hai trăm

**Câu 2.**

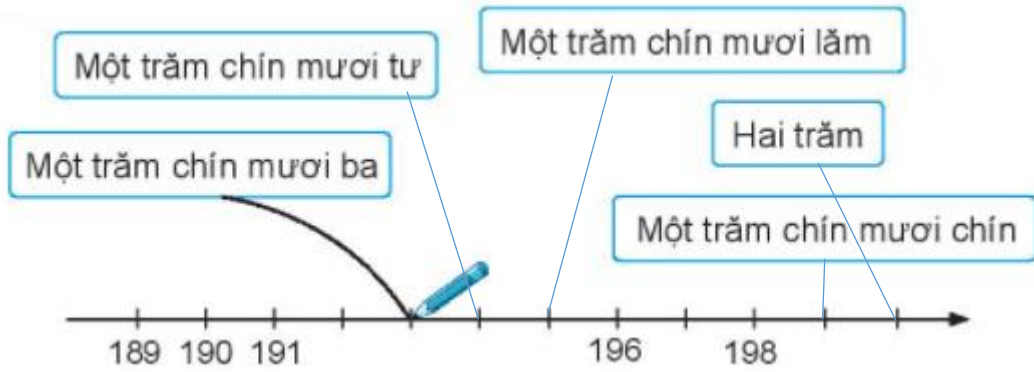
Nói (theo mẫu).



**Phương pháp:**

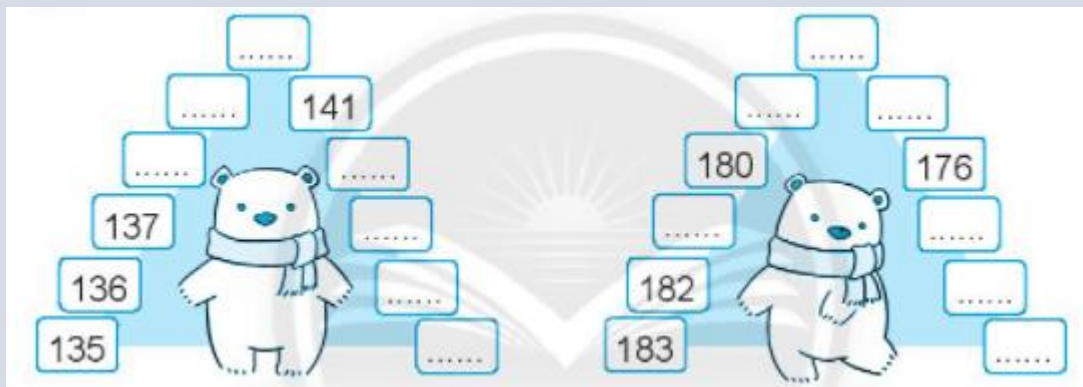
Quan sát hình, em nói mỗi cách đọc với số tương ứng trên tia số.

**Cách giải**



**Bài 3.**

Viết số vào chỗ chấm.



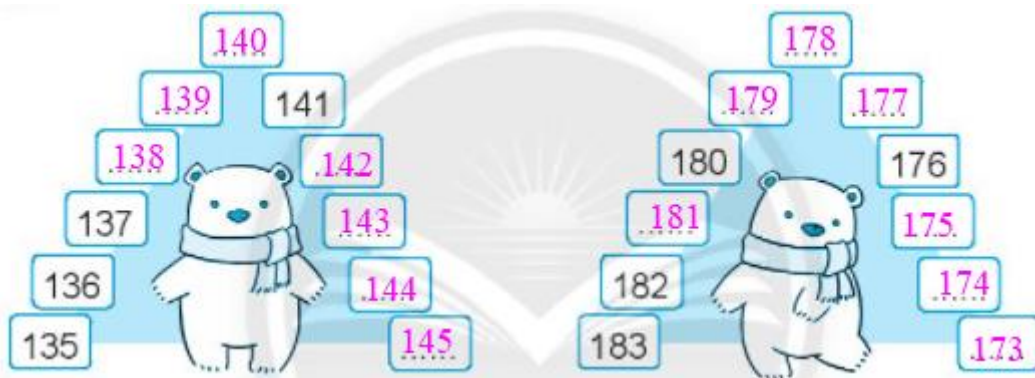
**Phương pháp:**

Ở hình thứ 1: Các số tăng dần lên 1 đơn vị.

Ở hình thứ 2: Các số giảm dần 1 đơn vị.

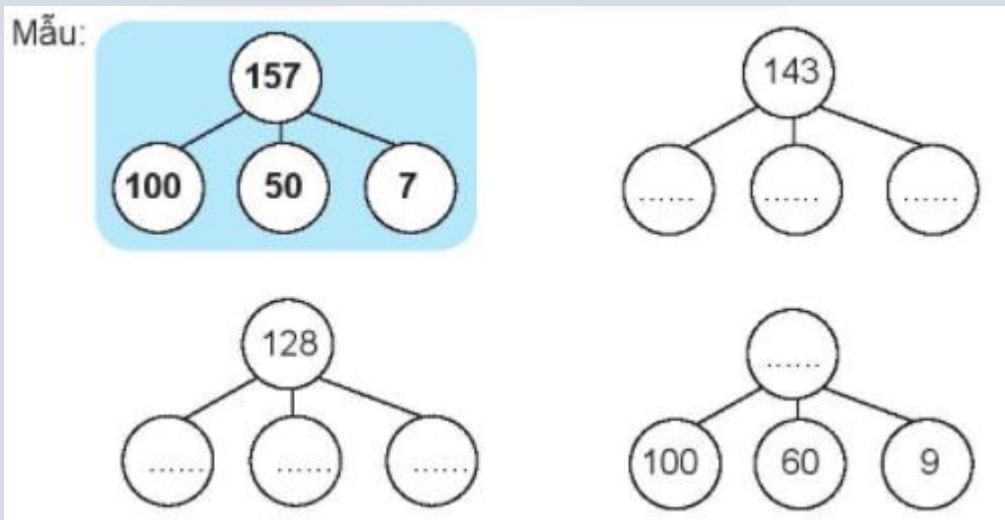
Từ đó em điền được các số còn thiếu vào ô trống.

**Cách giải:**



**Bài 4.**

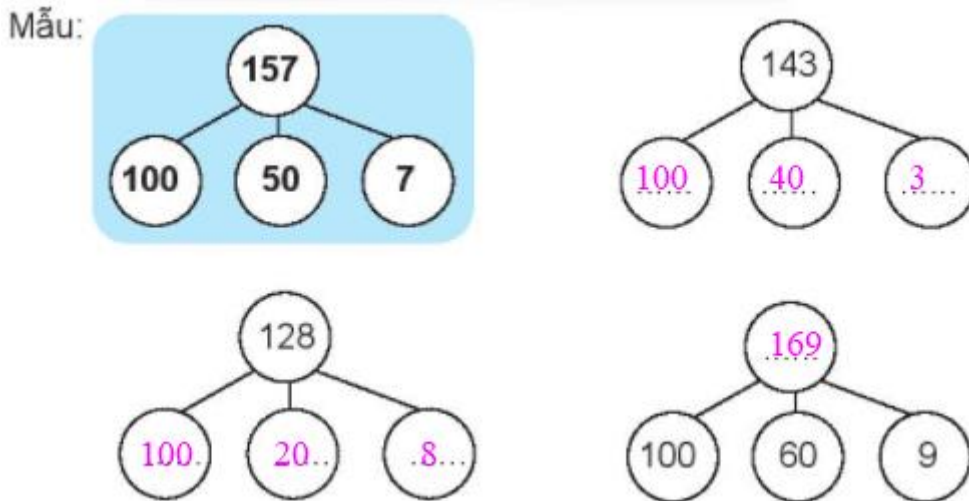
Viết số vào chỗ chấm (theo mẫu).



**Phương pháp:**

Quan sát ví dụ mẫu ta nhận thấy mỗi số hàng trên bằng tổng của 3 số ở hàng dưới. Từ đó em viết tiếp các số còn thiếu vào ô trống.

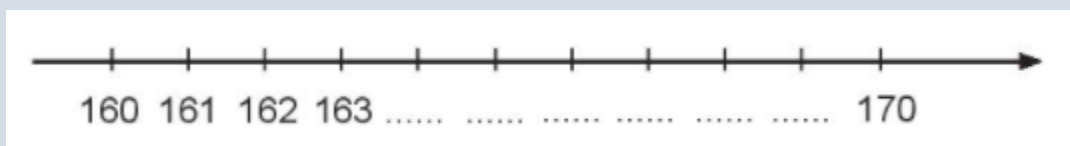
**Cách giải:**





**Bài 5.**

a) Viết số vào chỗ chấm.



b) Sắp xếp các số 167, 162, 165, 169 theo thứ tự từ lớn đến bé.

c) Tô màu vào con thỏ có số lớn nhất.



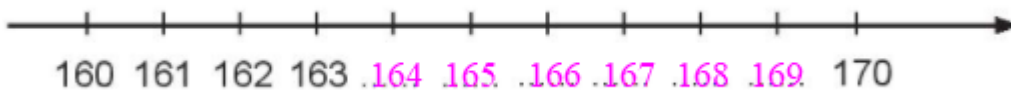
**Phương pháp:**

a) Trên tia số, số liền sau lớn hơn số liền trước 1 đơn vị.

b) So sánh các số rồi sắp xếp theo thứ tự từ lớn đến bé.

c) So sánh các số rồi tô màu vào con thỏ có số lớn nhất.

**Cách giải:**



a)

b) Ta có  $169 > 167 > 165 > 162$

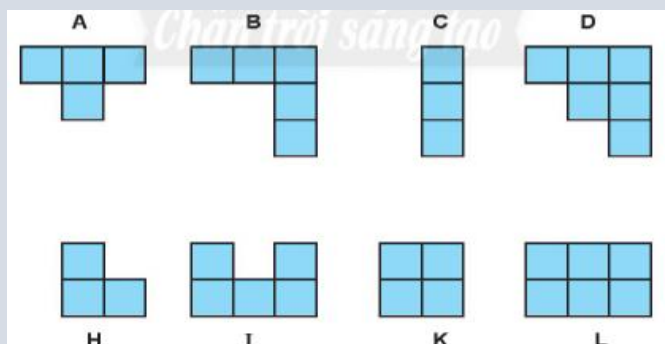
Vậy các số được viết theo thứ tự từ lớn đến bé là 169, 167, 165, 162.

c) Ta có  $200 > 199 > 195 > 190$

Vậy ta tô màu vào con thỏ ghi số 200.

**Bài 6.**

Nối hai hình mà nếu ghép chúng lại ta được **hình vuông**.



**Phương pháp:**

Quan sát hình vẽ, em hãy nối hai hình mà nếu ghép chúng lại ta được **hình vuông**.

**Cách giải:**

