

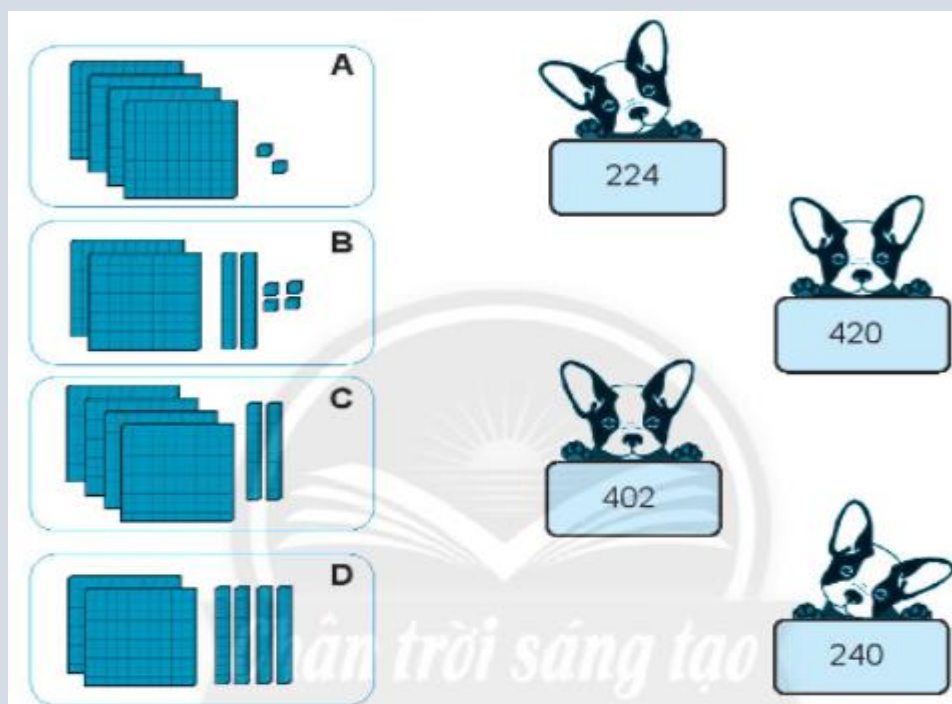
## BÀI: EM LÀM ĐƯỢC NHỮNG GÌ? (TRANG 62)

SÁCH: VBT TOÁN – CHÂN TRỜI SÁNG TẠO - LỚP 2

 BIÊN SOẠN: BAN CHUYÊN MÔN LOIGIAIHAY.COM

## Câu 1.

a) Nối hình ảnh phù hợp với số.



b) Viết số thành tổng các trăm, chục, đơn vị.

224 = .....

420 = .....

402 = .....

240 = .....

c) Sắp xếp các số 224, 420, 402, 240 theo thứ tự từ bé đến lớn.

... ; ... ; ... ; ...

**Phương pháp:**

a) Mỗi hình vuông lớn tương ứng với 100 ô vuông nhỏ.

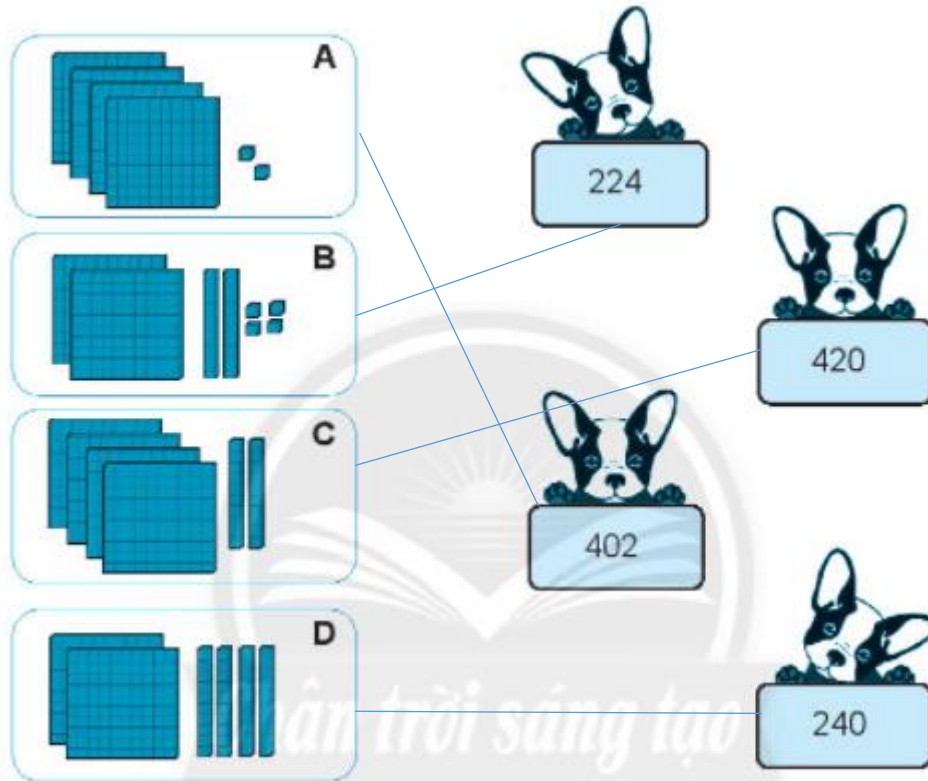
Mỗi cột dọc có 10 ô vuông nhỏ.

Xác định số ô vuông trong trong mỗi hình A, B, C, D rồi nối với số tương ứng.

- b) Viết mỗi số thành tổng của các trăm, chục, đơn vị.  
 c) So sánh các cặp chữ số ở từng hàng rồi sắp xếp theo thứ tự từ bé đến lớn.

**Cách giải:**

a)



b)  $224 = 200 + 20 + 4$

$420 = 400 + 20$

$402 = 400 + 2$

$240 = 200 + 40$

c) Ta có  $224 < 240 < 402 < 420$

Vậy các số viết theo thứ tự từ bé đến lớn là 224, 240, 402, 420.

**Câu 2.**

Viết số và đọc số.

Viết số	Đọc số
501	năm trăm linh một
444	
265	
	bảy trăm tám mươi chín trăm ba mươi bảy sáu trăm hai mươi một
1000	

**Phương pháp:**

Viết số hoặc đọc số theo thứ tự từ hàng trăm, hàng chục rồi đến hàng đơn vị.

**Cách giải**

Viết số	Đọc số
501	năm trăm linh một
444	bốn trăm bốn mươi bốn
265	hai trăm sáu mươi lăm
780	bảy trăm tám mươi
937	chín trăm ba mươi bảy
621	sáu trăm hai mươi một
1000	một nghìn

**Bài 3.**

Viết số thích hợp vào chỗ chấm.



**Phương pháp:**

Quan sát tia số ta nhận thấy: Số liền sau lớn hơn số liền trước 1 đơn vị.

Từ đó em điền được các số vào chỗ chấm.

**Cách giải:**



**Bài 4.**

Viết số thích hợp vào chỗ chấm.





**Phương pháp:**

Ta thấy số ghi trên ngôi nhà đứng sau lớn hơn ngôi nhà liền trước nó 2 đơn vị.

Từ đó em viết số vào các ngôi nhà còn thiếu.

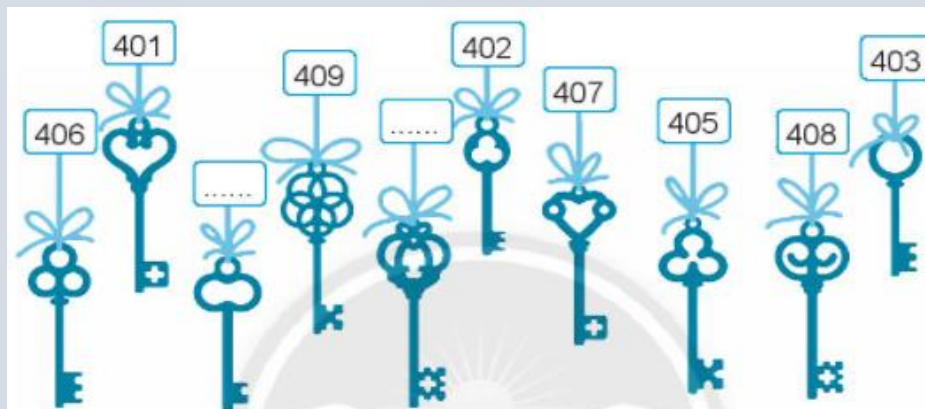
**Cách giải:****Bài 5.**

Dưới đây là chìa khóa của các phòng từ số 401 đến 410.

a) Hai chìa khóa của các phòng chưa được viết số là: phòng số .... và phòng số ....

b) Viết số thích hợp vào chỗ chấm.

Biết rằng chìa khóa dài hơn là của phòng có số lớn hơn.

**Phương pháp:**

Quan sát hình vẽ, em nhắm các số từ 401 đến 410 và tìm hai chìa khóa chưa được viết số.

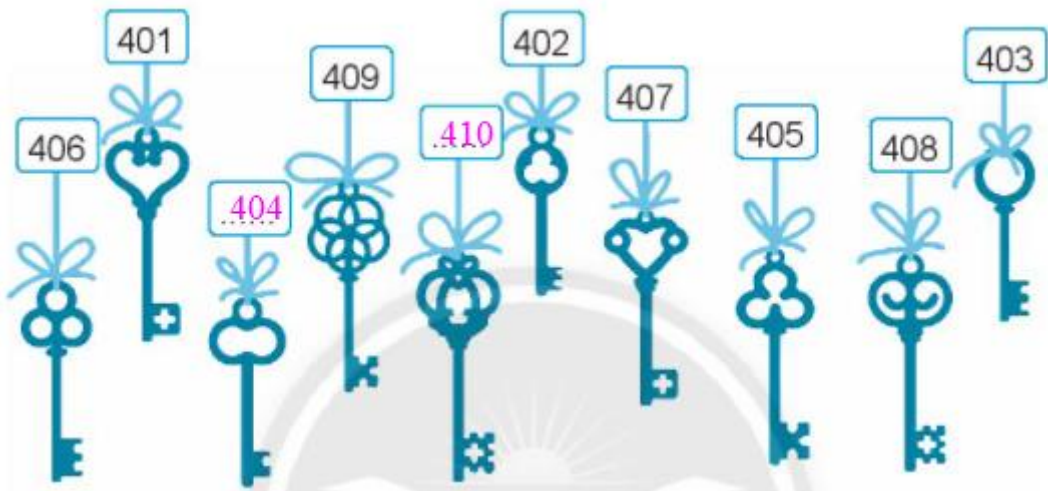
So sánh hai số và viết số lớn trên chiếc chìa khóa dài hơn.

**Cách giải:**

a) Hai chìa khóa của các phòng chưa được viết số là: phòng số **404** và phòng số **410**.

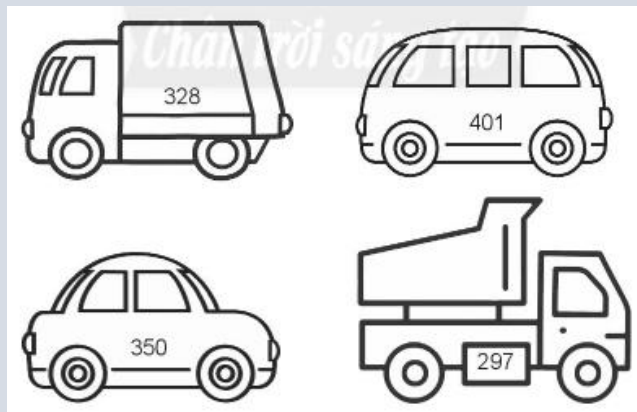
b) Ta có  $404 < 410$ . Biết rằng chìa khóa dài hơn là của phòng có số lớn hơn.

Nên ta điền như sau:



### Bài 6.

Tô màu vào chiếc xe có số lớn nhất.



#### Phương pháp:

Để so sánh các số có ba chữ số ta so sánh các cặp chữ số theo từng hàng từ hàng trăm, hàng chục đến hàng đơn vị.

Xác định số lớn nhất và tô màu vào chiếc ô tô ghi số đó.

#### Cách giải:

Ta có:  $297 < 328 < 350 < 401$  nên ta tô màu vào chiếc ô tô ghi số lớn nhất là 401.

Học sinh tự tô màu.

### Bài 7.

Bến xe thứ nhất có 37 chiếc xe, bến xe thứ hai có ít hơn bến xe thứ nhất 12 chiếc xe. Hỏi bến xe thứ hai có bao nhiêu chiếc xe?

**Phương pháp:**

Để tính số chiếc xe ở bên thứ hai ta lấy số chiếc xe ở bên thứ nhất trừ đi 12 chiếc xe.

**Cách giải:**

Bên xe thứ hai có số chiếc xe là

$$37 - 12 = 25 \text{ (chiếc xe)}$$

Đáp số: 25 chiếc xe

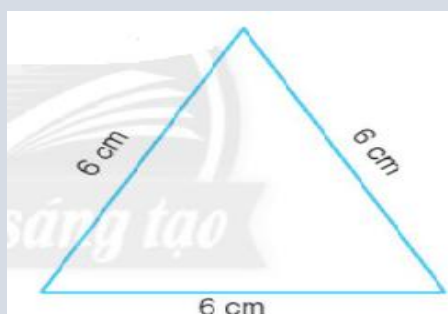
**Bài 8.**

Khoanh vào chữ cái trước ý trả lời đúng.

An định dùng một đoạn dây kẽm dài 2 dm để uốn thành một cái khung hình tam giác như hình dưới đây.

Đoạn dây của An có đủ để uốn cái khung đó không?

- A. Không đủ
- B. Vừa đủ
- C. Còn dư

**Phương pháp:**

Tính tổng các đoạn thẳng của hình tam giác.

Áp dụng cách đổi: 1 dm = 10 cm. Em so sánh độ dài đoạn dây kẽm và tổng độ dài 3 cạnh hình tam giác rồi kết luận

**Cách giải:**

Ta có chiều dài đoạn dây kẽm cần để uốn thành hình tam giác là

$$6 + 6 + 6 = 18 \text{ (cm)}$$

$$\text{Đổi: } 2 \text{ dm} = 20 \text{ cm}$$

Vậy đoạn dây của An còn dư để uốn cái khung đó.

**Chọn C.****Bài 9.**

Viết vào chỗ chấm.

Đồng hồ ở hình bên chỉ ... giờ .... phút buổi .....

**Phương pháp:**

Xem đồng hồ trong hình rồi viết thời gian thích hợp vào chỗ chấm.

**Cách giải:**

Đồng hồ ở hình bên chỉ 11 giờ 30 phút buổi đêm.

Loigiaihay.com