

BÀI 1. THU THẬP, TỔ CHỨC, BIỂU DIỄN, PHÂN TÍCH VÀ XỬ LÝ DỮ LIỆU

CHƯƠNG IV: MỘT SỐ YẾU TỐ THỐNG KÊ VÀ XÁC SUẤT





MÔN: TOÁN – CÁNH DIỀU - LỚP 6



BIÊN SOẠN: BAN CHUYÊN MÔN LOIGIAIHAY.COM

Giải bài 3 trang 5 sách bài tập Toán 6 Cánh Diều Tập 2

Một cửa hàng thủy sản thống kê khối lượng cá chép bán được trong Quý IV năm 2020 ở biểu đồ sau:

Tháng 10	
Tháng 11	
Tháng 12	
 : 10 tạ	

- Trong Quý IV, tháng nào cửa hàng bán được nhiều cá chép nhất?
- Tính tỉ số của lượng cá chép bán được trong tháng 11 và tổng lượng cá chép bán được trong toàn Quý IV năm 2020

Phương pháp:

a. So sánh lượng cá bán được dựa vào số biểu tượng hoặc quy ra số tạ.

b. Bước 1: Tính tổng lượng cá chép bán được trong toàn Quý IV

Bước 2: Tính tỉ số

Cách giải:

a) Dựa vào biểu đồ, ta thấy tháng 12 của hàng bán được nhiều cá chép nhất.

b) Tổng khối lượng cá chép bán được trong toàn Quý IV năm 2020 là $10 \cdot 6 = 60$ tạ.

Khối lượng cá chép bán được trong tháng 11 là: 10 tạ

Vậy tỉ số của lượng cá chép bán được trong tháng 11 và tổng lượng cá chép bán được trong toàn Quý IV năm 2020 là $\frac{10}{60} = \frac{1}{6}$.

Loigiaihay.com