

Họ và tên: .....

Lớp: .....

**ĐỀ KIỂM TRA HỌC KÌ 1****Môn: Toán – Lớp 2****Bộ sách: Chân trời sáng tạo**

Thời gian làm bài: 40 phút

**I. TRẮC NGHIỆM**

(Khoanh vào chữ đặt trước câu trả lời đúng)

**Câu 1.** Số gồm 6 chục 5 đơn vị là:

- A. 56                      B. 66                      C. 65                      D. 50

**Câu 2.** Số tròn chục lớn nhất có hai chữ số là

- A. 90                      B. 98                      C. 99                      D. 100

**Câu 3.** Cho dãy số 2 ; 12 ; 22 ; ..... ; ..... ; 52 ; 62. Hai số điền vào chỗ trống trong dãy là:

- A. 32 ; 33                      B. 32 ; 42                      C. 42 ; 52                      D. 22 ; 32

**Câu 4.** 8 dm = ..... cm

- A. 8                      B. 80                      C. 40                      D. 16

**Câu 5.** Nối hai đồng hồ chỉ cùng thời gian vào buổi chiều hoặc buổi tối:

22:00

16:00

20:00

**Câu 6.** Mai và Hằng gấp sao để trang trí bảng tin của lớp. Bạn Mai gấp được 18 ngôi sao. Bạn Hằng gấp được 25 ngôi sao. Cả hai bạn gấp được:

- A. 43 ngôi sao                      B. 33 ngôi sao  
C. 7 ngôi sao                      D. 47 ngôi sao

**Câu 7.** Ngày 4 tháng 10 là ngày chủ nhật. Sinh nhật Heo Xinh vào ngày 6 tháng 10. Hỏi sinh nhật Heo Xinh vào ngày thứ mấy?

- A. Thứ hai                      B. Thứ ba                      C. Thứ tư                      D. Thứ năm

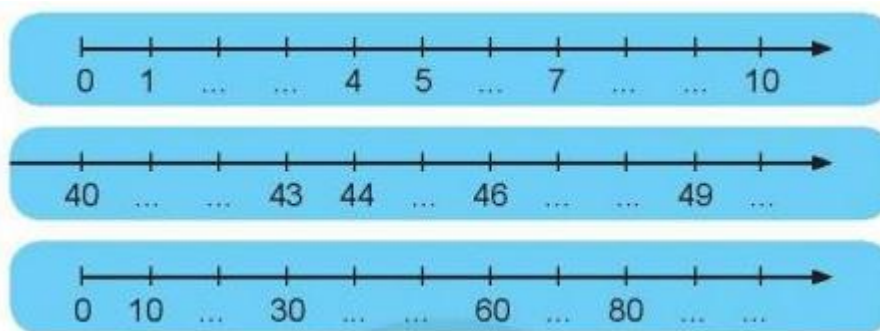
**Câu 8.** Số lớn nhất trong các số 58, 79, 40, 84, 29 là:

- A. 58                      B. 79                      C. 40                      D. 84

**PHẦN 2. TỰ LUẬN****Câu 1.** Đặt tính rồi tính:

- a)  $54 + 17$                       b)  $39 + 55$                       c)  $81 - 23$                       d)  $94 - 36$

**Câu 2.** Quan sát các tia số sau:

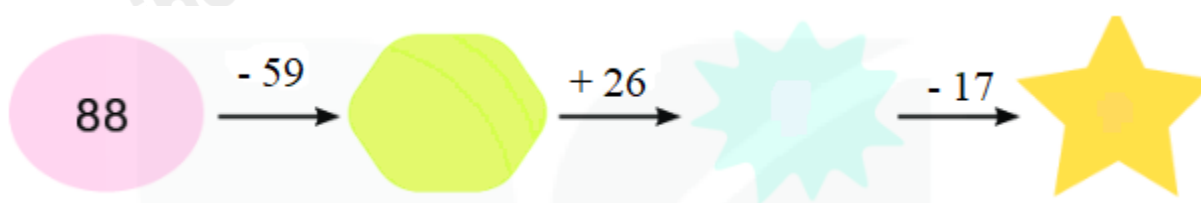


a) Viết số thích hợp vào chỗ chấm ở các tia số trên.

b) Khoanh vào số liền trước của các số 3 ; 5 ; 8.

c) Khoanh vào số liền sau của các số 49 ; 43 ; 40.

**Câu 3.** Số?



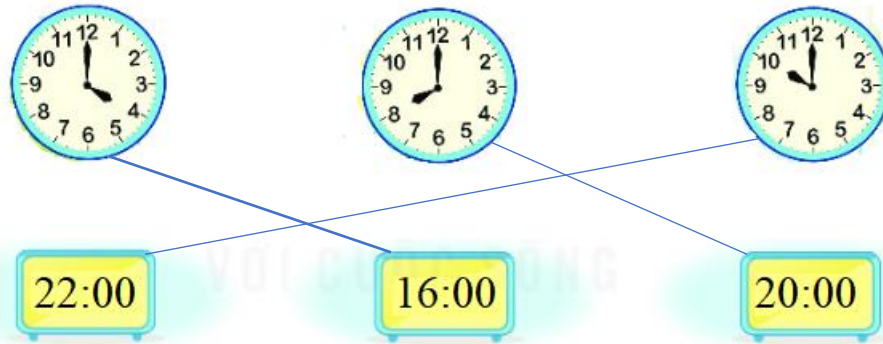
**Câu 4.** Tháng 9, bạn Nhi giành được 56 cái sticker thi đua. Tháng 10, bạn Nhi giành được ít hơn tháng 9 là 8 cái sticker. Hỏi tháng 10 bạn Nhi giành được bao nhiêu cái sticker?

## HƯỚNG DẪN GIẢI CHI TIẾT

## I. TRẮC NGHIỆM

1. C	2. A	3. B	4. B	6. A	7. B	8. D
------	------	------	------	------	------	------

Câu 5.



## II. TỰ LUẬN

Câu 1.

Đặt tính rồi tính:

a)  $54 + 17$

b)  $39 + 55$

c)  $81 - 23$

d)  $94 - 36$

## Phương pháp giải

- Đặt tính sao cho các chữ số cùng hàng thẳng cột với nhau.

- Cộng hoặc trừ các chữ số thẳng cột lần lượt từ phải sang trái.

## Lời giải chi tiết

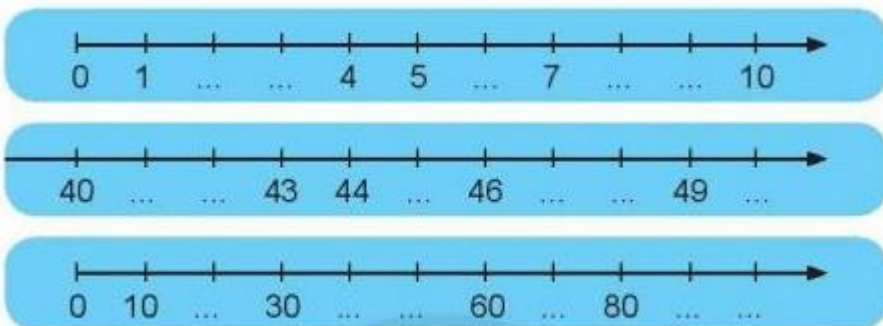
$$\begin{array}{r} 54 \\ + 17 \\ \hline 71 \end{array}$$

$$\begin{array}{r} 39 \\ + 55 \\ \hline 94 \end{array}$$

$$\begin{array}{r} 81 \\ - 23 \\ \hline 58 \end{array}$$

$$\begin{array}{r} 94 \\ - 36 \\ \hline 58 \end{array}$$

Câu 2. Quan sát các tia số sau:



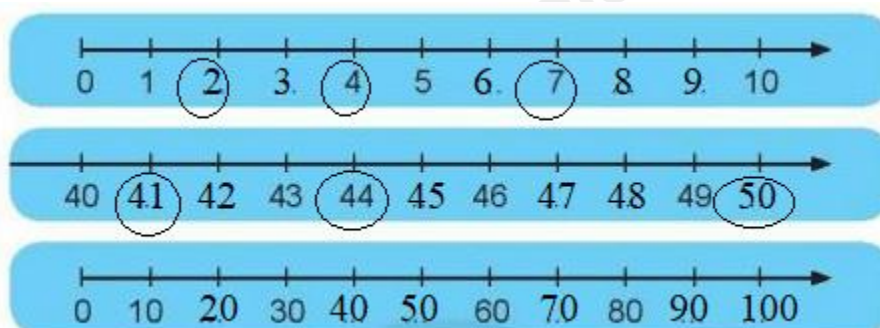
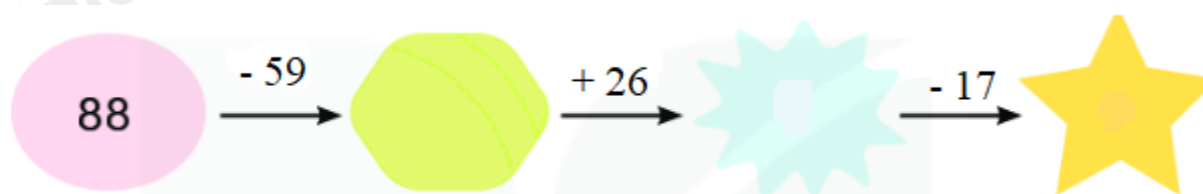
a) Viết số thích hợp vào chỗ chấm ở các tia số trên.

b) Khoanh vào số liền trước của các số 3 ; 5 ; 8.

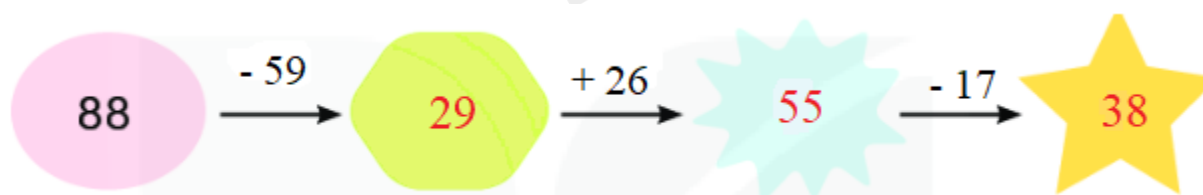
c) Khoanh vào số liền sau của các số 49 ; 43 ; 40.

**Phương pháp giải**

- a) Đếm thêm 1 hoặc 10 rồi viết các số còn thiếu vào chỗ chấm  
 b) Số liền trước của một số thì bé hơn số đó 1 đơn vị  
 c) Số liền sau của một số thì lớn hơn số đó 1 đơn vị

**Lời giải chi tiết****Câu 3. Số?****Phương pháp giải**

Thực hiện tính kết quả các phép tính theo chiều mũi tên rồi điền các số còn thiếu vào chỗ trống.

**Lời giải chi tiết**

**Câu 4.** Tháng 9, bạn Nhi giành được 56 cái sticker thi đua. Tháng 10, bạn Nhi giành được ít hơn tháng 9 là 8 cái sticker. Hỏi tháng 10 bạn Nhi giành được bao nhiêu cái sticker?

**Phương pháp giải**

Số sticker giành được trong tháng 10 bằng số sticker giành được trong tháng 9 trừ đi 8 sticker

**Lời giải chi tiết**

Tháng 10 bạn Nhi giành được số sticker là

$$56 - 8 = 48 \text{ (cái)}$$

Đáp số: 48 cái sticker

-----**HẾT**-----

Loigiaihay.com

Loigiaihay.com

Loigiaihay.com

Loigiai

Loigiaihay.com

Loigiaihay.com

Loigiaiha

Loigiaihay.com