

Họ và tên:

Lớp:

ĐỀ KIỂM TRA HỌC KÌ 1**Môn: Toán – Lớp 2****Bộ sách: Kết nối tri thức**

Thời gian làm bài: 40 phút

I. TRẮC NGHIỆM (Khoanh vào chữ đặt trước câu trả lời đúng)**Câu 1.** Số gồm 8 chục 6 đơn vị là:

- A. 68 B. 88 C. 86 D. 62

Câu 2. Số liền trước của số tròn chục lớn nhất có hai chữ số là:

- A. 90 B. 89 C. 91 D. 99

Câu 3. Số lớn nhất trong dãy số 46, 75, 52, 68 là:

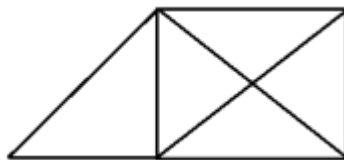
- A. 46 B. 75 C. 52 D. 68

Câu 4. Số thích hợp để điền vào chỗ chấm $33 \text{ dm} + 57 \text{ dm} = \dots\dots\dots \text{ dm}$ là:

- A. 90 B. 80 C. 91 D. 89

Câu 5. Bác Hà mang 75 quả trứng ra chợ bán trong đó có 18 quả trứng vịt, còn lại là trứng gà. Hỏi số quả trứng gà bác Hà mang ra chợ là bao nhiêu quả?

- A. 93 quả B. 57 quả C. 67 quả D. 66 quả

Câu 6. Số hình tứ giác có trong hình vẽ bên là:

- A. 2 B. 3 C. 4 D. 5

Câu 7. 18 giờ còn được gọi là:

- A. 4 giờ chiều B. 6 giờ chiều
C. 5 giờ chiều D. 6 giờ tối

Câu 8. Ngày 26 tháng 10 là thứ Tư. Sinh nhật Nam vào ngày 30 tháng 10. Hỏi sinh nhật Nam vào ngày thứ mấy?

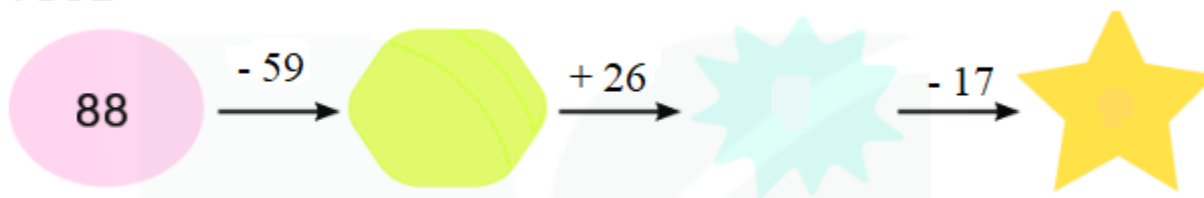
- A. Thứ sáu B. Thứ bảy C. Chủ nhật D. Thứ hai

PHẦN 2. TỰ LUẬN**Câu 1.** Đặt tính rồi tính:

- a) $54 + 17$ b) $39 + 55$ c) $81 - 23$ d) $94 - 36$

.....

Câu 2. Số?



Câu 3. Xem giờ trên mỗi đồng hồ rồi điền thời gian thích hợp cho mỗi hoạt động:



- Mai thức dậy lúc sáng.
- Mai và Nam học bài lúc sáng.
- Cả nhà ăn cơm tối lúc tối.
- Mai đi ngủ lúc đêm.

Câu 4. Buổi sáng cửa hàng bán được 46 mét vải. Buổi chiều cửa hàng bán được nhiều hơn buổi sáng 17 mét vải. Hỏi buổi chiều cửa hàng đó bán được bao nhiêu mét vải?

.....

.....

.....

HƯỚNG DẪN GIẢI CHI TIẾT

I. TRẮC NGHIỆM

1. C	2. B	3. B	4. A	5. B	6. C	7. D	8. C
------	------	------	------	------	------	------	------

II. TỰ LUẬN

Câu 1.

Đặt tính rồi tính:

a) $54 + 17$

b) $39 + 55$

c) $81 - 23$

d) $94 - 36$

Phương pháp giải

- Đặt tính sao cho các chữ số cùng hàng thẳng cột với nhau.
- Cộng hoặc trừ các chữ số thẳng cột lần lượt từ phải sang trái.

Lời giải chi tiết

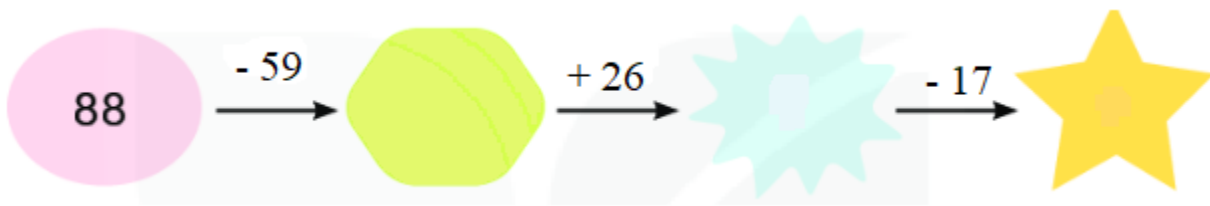
$$\begin{array}{r} 54 \\ + 17 \\ \hline 71 \end{array}$$

$$\begin{array}{r} 39 \\ + 55 \\ \hline 94 \end{array}$$

$$\begin{array}{r} 81 \\ - 23 \\ \hline 58 \end{array}$$

$$\begin{array}{r} 94 \\ - 36 \\ \hline 58 \end{array}$$

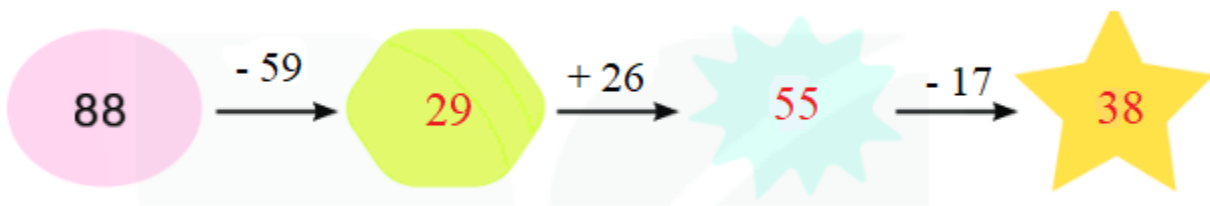
Câu 2. Số?



Phương pháp giải

Thực hiện tính kết quả các phép tính theo chiều mũi tên rồi điền các số còn thiếu vào chỗ trống.

Lời giải chi tiết



Câu 3. Xem giờ trên mỗi đồng hồ rồi điền thời gian thích hợp cho mỗi hoạt động:



- Mai thức dậy lúc sáng.
- Mai và Nam học bài lúc sáng.
- Cả nhà ăn cơm tối lúc tối.
- Mai đi ngủ lúc đêm.

Phương pháp giải

Xem đồng hồ rồi điền thời gian thích hợp vào chỗ chấm.

Lời giải chi tiết

- Mai thức dậy lúc **6 giờ 15 phút** sáng.
- Mai và Nam học bài lúc **9 giờ 30 phút (hay 9 giờ rưỡi)** sáng.
- Cả nhà ăn cơm tối lúc **7 giờ 30 phút (hoặc 7 giờ rưỡi)** tối.
- Mai đi ngủ lúc **11 giờ** đêm.

Câu 4. Buổi sáng cửa hàng bán được 46 mét vải. Buổi chiều cửa hàng bán được nhiều hơn buổi sáng 17 mét vải. Hỏi buổi chiều cửa hàng đó bán được bao nhiêu mét vải?

Phương pháp giải

Số mét vải buổi chiều bán = Số mét vải buổi sáng bán + 17 mét

Lời giải chi tiết

Tóm tắt

Buổi sáng: 46 m

Buổi chiều: Nhiều hơn 17 m

Buổi chiều: ? m

Bài giải

Buổi chiều cửa hàng bán được số mét vải là

$$46 + 17 = 63 \text{ (m)}$$

Đáp số: 63 mét vải

-----HẾT-----