

Họ và tên:

Lớp:

ĐỀ KIỂM TRA HỌC KÌ 1**Môn: Toán – Lớp 2****Bộ sách: Cánh diều**

Thời gian làm bài: 40 phút

I. TRẮC NGHIỆM

(Khoanh vào chữ đặt trước câu trả lời đúng)

Câu 1. Số liền trước của số 59 là:

- A. 60 B. 57 C. 61 D. 58

Câu 2. Số 65 được đọc là:

- A. Sáu lăm B. Sáu mươi năm
C. Sáu mươi lăm D. Sáu năm

Câu 3. Tổng của $46 + 38$ là:

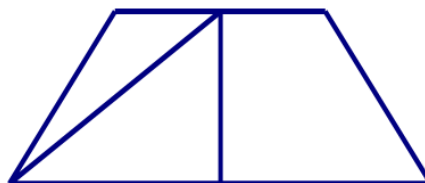
- A. 84 B. 74 C. 75 D. 83

Câu 4. Lan cho Thu 12 viên phấn thì Lan còn lại ba chục viên phấn. Lúc đầu Lan có số viên phấn là?

- A. 15 viên B. 18 viên C. 52 viên D. 42 viên

Câu 5. $5 \text{ dm} + 37 \text{ cm} = \dots\dots\dots$

- A. 87 dm B. 42 cm C. 42 dm D. 87 cm

Câu 6. Hình dưới đây có mấy hình tứ giác?

- A. 2 B. 3 C. 4 D. 5

Câu 7. Kết quả của phép tính sau là $53 - 8 + 17 = \dots\dots\dots$

- A. 45 B. 62 C. 63 D. 52

Câu 8. Quả bưởi nặng bằng mấy quả chanh:

- A. 4 B. 7 C. 8 D. 3

PHẦN 2. TỰ LUẬN

Câu 1. Đặt tính rồi tính:

a) $27 + 34$

b) $29 + 48$

c) $71 - 25$

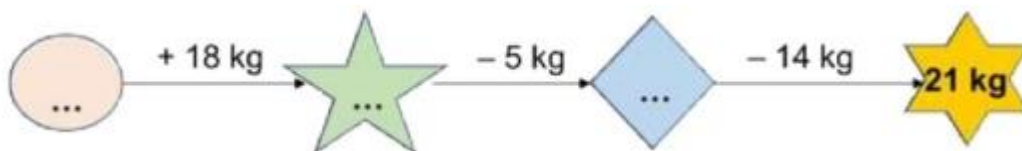
d) $100 - 73$

.....

.....

.....

Câu 2. Số?



Câu 3. Mẹ cân nặng 58 kg, Minh nhẹ hơn mẹ 29 kg. Hỏi Minh cân nặng bao nhiêu ki-lô-gam?

.....

.....

.....

Câu 4. Hiệu hai số bằng 74, nếu giữ nguyên số trừ, bớt số bị trừ đi 9 đơn vị thì hiệu hai số khi đó bằng bao nhiêu?

.....

.....

HƯỚNG DẪN GIẢI CHI TIẾT

I. TRẮC NGHIỆM

1. D	2. C	3. A	4. D	5. D	6. C	7. B	8. B
------	------	------	------	------	------	------	------

II. TỰ LUẬN

Câu 1.

Đặt tính rồi tính:

a) $27 + 34$

b) $29 + 48$

c) $71 - 25$

d) $100 - 73$

Phương pháp giải

- Đặt tính sao cho các chữ số cùng hàng thẳng cột với nhau.
- Cộng hoặc trừ các chữ số thẳng cột lần lượt từ phải sang trái.

Lời giải chi tiết

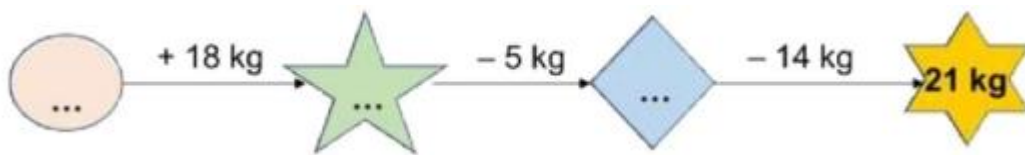
$$\begin{array}{r} 27 \\ + 34 \\ \hline 61 \end{array}$$

$$\begin{array}{r} 29 \\ + 48 \\ \hline 77 \end{array}$$

$$\begin{array}{r} 71 \\ - 25 \\ \hline 46 \end{array}$$

$$\begin{array}{r} 100 \\ - 73 \\ \hline 27 \end{array}$$

Câu 2. Số?



Phương pháp giải

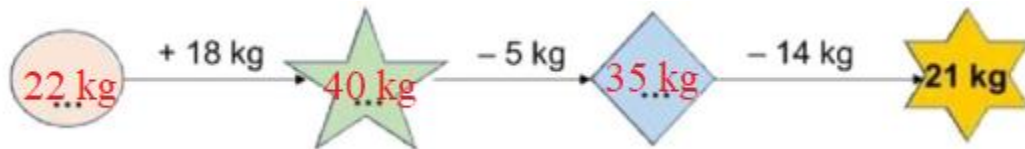
Áp dụng kiến thức: Muốn tìm số bị trừ ta lấy hiệu cộng với số trừ

Lời giải chi tiết

$$\text{Ta có } 21 \text{ kg} + 14 \text{ kg} = 35 \text{ kg}$$

$$35 \text{ kg} + 5 \text{ kg} = 40 \text{ kg}$$

$$40 \text{ kg} - 18 \text{ kg} = 22 \text{ kg}$$



Câu 3. Mẹ cân nặng 58 kg, Minh nhẹ hơn mẹ 29 kg. Hỏi Minh cân nặng bao nhiêu ki-lô-gam?

Phương pháp giải

Cân nặng của Minh = Cân nặng của mẹ - 29 kg

Lời giải chi tiết

Cân nặng của Minh là

$$58 - 29 = 29 \text{ (kg)}$$

Đáp số: 29 kg

Câu 4. Hiệu hai số bằng 74, nếu giữ nguyên số trừ, bớt số bị trừ đi 9 đơn vị thì hiệu hai số khi đó bằng bao nhiêu?

Phương pháp giải

Áp dụng kiến thức: Số bị trừ - số trừ = hiệu

Lời giải chi tiết

Trong một hiệu, nếu giữ nguyên số trừ và bớt số bị trừ đi 9 đơn vị thì hiệu giảm đi 9 đơn vị.

Hiệu của hai số khi đó là $74 - 9 = 65$

-----**HẾT**-----