

Họ và tên:

Lớp:

ĐỀ KIỂM TRA HỌC KÌ 1**Môn: Toán – Lớp 2****Bộ sách: Cánh diều**

Thời gian làm bài: 40 phút

I. TRẮC NGHIỆM

(Khoanh vào chữ đặt trước câu trả lời đúng)

Câu 1. Số liền sau của 78 là:

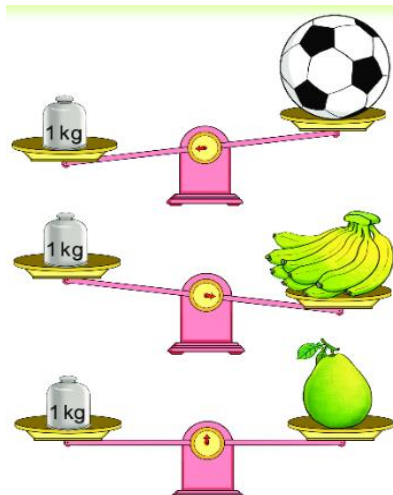
- A. 80 B. 76 C. 77 D. 79

Câu 2. Số thích hợp điền vào chỗ chấm $24 \text{ kg} + 5 \text{ kg} + 26 \text{ kg} = \dots\dots \text{ kg}$ là:

- A. 50 kg B. 45 kg C. 55 kg D. 60 kg

Câu 3. Tính tổng, biết các số hạng là 48 và 17:

- A. 31 B. 65 C. 41 D. 55

Câu 4. Vật nào nhẹ nhất trong hình dưới đây:

- A. Quả bóng B. Nải chuối C. Quả bưởi

Câu 5. Bàn học của em dài khoảng bao nhiêu đề-xi-mét?

- A. 11 dm B. 30 dm C. 2 dm D. 100 cm

Câu 6. Mẹ vắt được 67 lít sữa bò, chị vắt được 33 lít sữa bò. Hỏi mẹ và chị vắt được bao nhiêu lít sữa bò?

- A. 34 lít B. 100 lít C. 44 lít D. 90 lít

PHẦN 2. TỰ LUẬN**Câu 1.** Đặt tính rồi tính:

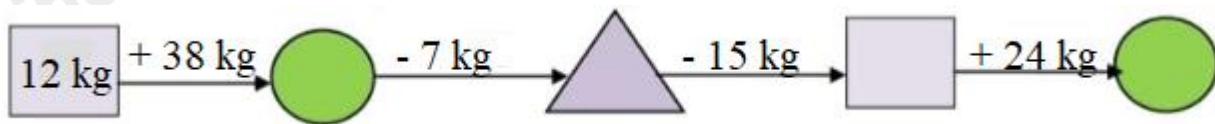
- a) $26 + 35$ b) $26 + 59$ c) $75 - 17$ d) $60 - 43$

.....

.....

.....

Câu 2. Số?



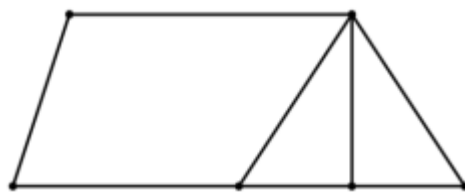
Câu 3. Bao gạo cân nặng 45 kg, bao gạo nhẹ hơn bao ngô 8 kg. Vậy bao ngô cân nặng bao nhiêu ki-lô-gam?

.....

.....

.....

Câu 4. Quan sát hình vẽ dưới đây cho biết:



- a) Hình vẽ có bao nhiêu điểm?
- b) Hình vẽ có bao nhiêu hình tam giác?
- c) Hình vẽ có bao nhiêu hình tứ giác?

.....

.....

.....

HƯỚNG DẪN GIẢI CHI TIẾT

I. TRẮC NGHIỆM

1. D	2. C	3. B	4. A	5. A	6. B
------	------	------	------	------	------

II. TỰ LUẬN

Câu 1. Đặt tính rồi tính:

- a) $26 + 35$ b) $26 + 59$ c) $75 - 17$ d) $60 - 43$

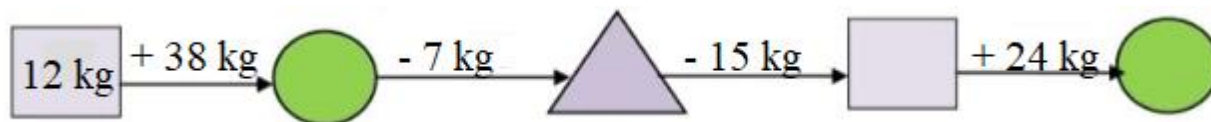
Phương pháp giải

- Đặt tính sao cho các chữ số cùng hàng thẳng cột với nhau
- Cộng hoặc trừ các chữ số thẳng cột lần lượt từ phải sang trái.

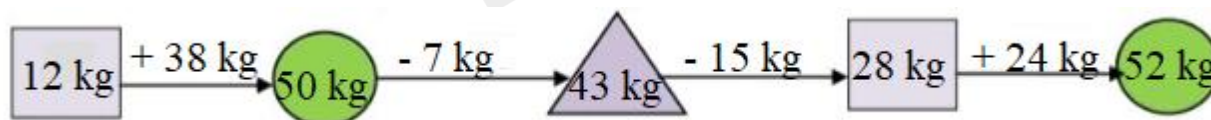
Lời giải chi tiết

$$\begin{array}{r} 26 \\ + 35 \\ \hline 61 \end{array} \quad \begin{array}{r} 26 \\ + 59 \\ \hline 85 \end{array} \quad \begin{array}{r} 75 \\ - 17 \\ \hline 58 \end{array} \quad \begin{array}{r} 60 \\ - 43 \\ \hline 17 \end{array}$$

Câu 2. Số?

**Phương pháp giải**

Thực hiện tính rồi viết đơn vị kg theo sau kết quả vừa tìm được.

Lời giải chi tiết

Câu 3. Bao gạo cân nặng 45 kg, bao gạo nhẹ hơn bao ngô 8 kg. Vậy bao ngô cân nặng bao nhiêu ki-lô-gam?

Phương pháp giải

Cân nặng của bao ngô = Cân nặng của bao gạo + 8 kg

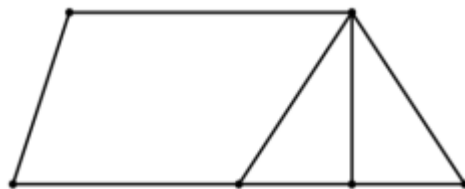
Lời giải chi tiết

Bao ngô cân nặng số ki-lô-gam là

$$45 + 8 = 53 \text{ (kg)}$$

Đáp số: 53 kg

Câu 4. Quan sát hình vẽ dưới đây cho biết:



- a) Hình vẽ có bao nhiêu điểm?
- b) Hình vẽ có bao nhiêu hình tam giác?
- c) Hình vẽ có bao nhiêu hình tứ giác?

Phương pháp giải

Quan sát hình vẽ để trả lời câu hỏi.

Lời giải chi tiết

- a) Hình trên có tất cả 6 điểm
- b) Hình trên có 3 hình tam giác
- c) Hình trên có 3 hình tứ giác

-----**HẾT**-----