

ĐỀ THI HỌC KÌ I:

ĐỀ SỐ 10

MÔN: TOÁN - LỚP 7



BIÊN SOẠN: BAN CHUYÊN MÔN LOIGIAIHAY.COM

**Phần I: Trắc nghiệm (3 điểm).** Hãy chọn phương án trả lời đúng và viết chữ cái đứng trước đáp án đó vào bài làm.

**Câu 1:** Số đối của  $\frac{-7}{12}$  là:

A.  $\frac{7}{12}$

B.  $\frac{7}{-12}$

C.  $\frac{12}{-7}$

D.  $\frac{12}{7}$

**Câu 2:** Chọn khẳng định đúng.

A.  $\frac{-37}{41} > \frac{23}{-17}$

B.  $\left(\frac{1}{3}\right)^{12} > \left(\frac{1}{3}\right)^{10}$

C.  $(2,5)^6 = (0,5)^{12}$

D.  $(2,5)^4 < (-2,5)^5$

**Câu 3:** Chọn đáp án sai. Nếu  $\sqrt{x} = \frac{2}{3}$  thì:

A.  $x = \left(-\frac{2}{3}\right)^2$

B.  $x = -\left(-\frac{2}{3}\right)^2$

C.  $x = \frac{4}{9}$

D.  $x = \left(\frac{2}{3}\right)^2$

**Câu 4:** Trong các phát biểu sau, phát biểu nào sai?

A. Giá trị tuyệt đối của một số thực là một số dương hoặc bằng 0.

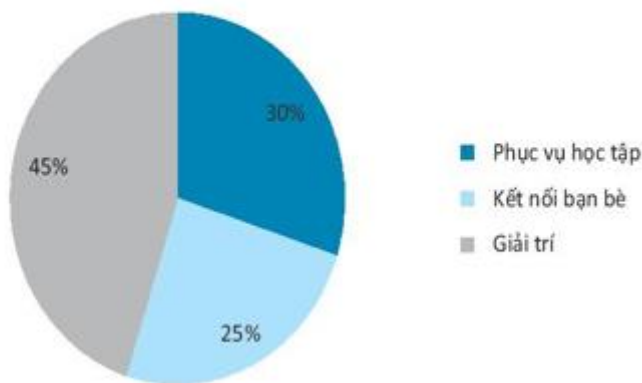
B. Hai số có giá trị tuyệt đối bằng nhau là hai số bằng nhau hoặc đối nhau.

C. Hai số đối nhau có giá trị tuyệt đối bằng nhau.

D. Giá trị tuyệt đối của một số thực luôn bằng chính nó.

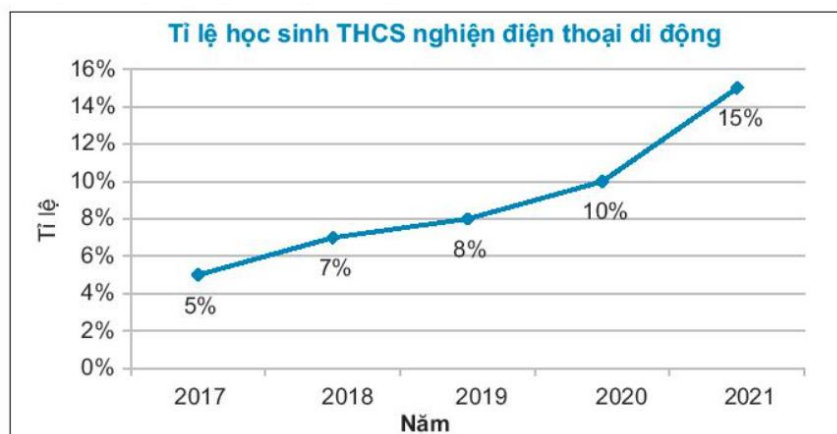
**Câu 5:** Căn cứ vào biểu đồ sau đây, hãy xác định bao nhiêu % học sinh THCS sử dụng internet KHÔNG phục vụ học tập?

### Mục đích vào mạng internet của học sinh



- A. 30.                      B. 45.                      C. 25.                      D. 70.

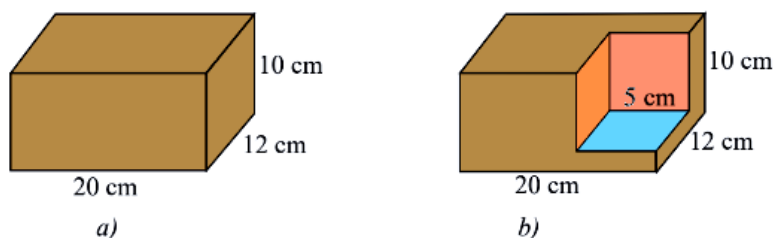
**Câu 6:** Cho biểu đồ sau:



Năm nào có tỷ lệ học sinh THCS nghiện điện thoại cao nhất?

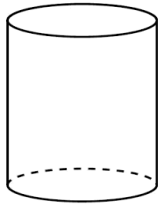
- A. 2018.                      B. 2019.                      C. 2020.                      D. 2021.

**Câu 7:** Một khối gỗ dạng hình hộp chữ nhật có kích thước như Hình a). Người ta cắt đi một phần khối gỗ có dạng hình lập phương cạnh 5 cm. Tính thể tích phần còn lại của khối gỗ (Hình b).

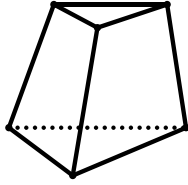


- A.  $1888cm^3$                       B.  $2275cm^3$                       C.  $2144cm^3$                       D.  $2300cm^3$

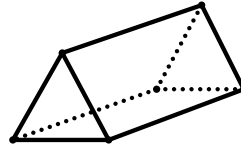
**Câu 8:** Trong các hình sau, hình nào là hình lăng trụ đứng tứ giác?



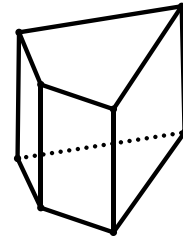
Hình 1



Hình 2



Hình 3



Hình 4

A. Hình 1

B. Hình 2

C. Hình 3

D. Hình 4

**Câu 9:** Phát biểu định lí sau bằng lời:

GT	$a // b, c \perp a$
KL	$c \perp b$

A. Nếu một đường thẳng vuông góc với một trong hai đường thẳng song song thì nó vuông góc với đường thẳng kia.

B. Nếu một đường thẳng vuông góc với một trong hai đường thẳng song song thì nó song song với đường thẳng kia.

C. Nếu một đường thẳng vuông góc với một trong hai đường thẳng song song thì nó tạo với đường thẳng kia một góc  $60^\circ$ .

D. Cả A, B, C đều đúng.

**Câu 10:** Vẽ  $\angle xOy = 50^\circ$ . Vẽ tia  $Om$  là tia phân giác của góc  $xOy$ . Vẽ tia  $On$  là tia đối của tia  $Ox$ . Tính góc  $mOn$ .

A.  $\angle mOn = 125^\circ$

B.  $\angle mOn = 155^\circ$

C.  $\angle mOn = 160^\circ$

D.  $\angle mOn = 175^\circ$

## Phần II. Tự luận (7 điểm):

### Bài 1: (2,0 điểm)

Thực hiện phép tính:

a)  $\frac{2}{9} + \frac{1}{3} : \left(-\frac{3}{2}\right) + \frac{1}{2} \cdot (-0,5)^0$

b)  $\left(\frac{-1}{2}\right)^2 - \frac{5}{8} : (0,5)^3 - \frac{5}{3} \cdot (-6)$

c)  $\sqrt{0,04} + \sqrt{0,25} + 2,31$

d)  $\left|\sqrt{169} - \sqrt{900}\right| - \left|\frac{-5}{4}\right| : \left(\frac{1}{3} - \frac{1}{2}\right)^2$

### Bài 2: (2,0 điểm)

Tìm  $x$ , biết:

a)  $\frac{1}{3}x + \frac{2}{5}(x-1) = 0$

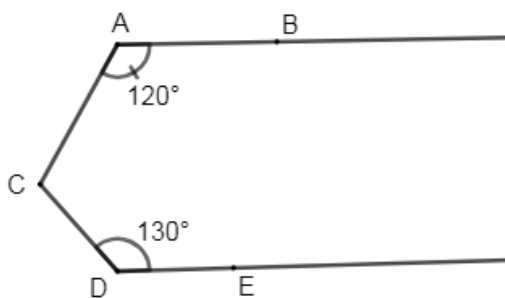
b)  $(2x+1)^2 = \frac{36}{25}$

c)  $\frac{1}{2}x + \sqrt{0,04} = \sqrt{1,96}$

d)  $\left|2x-1\right| + \frac{1}{2} = \frac{4}{5}$

### Bài 3: (1,0 điểm)

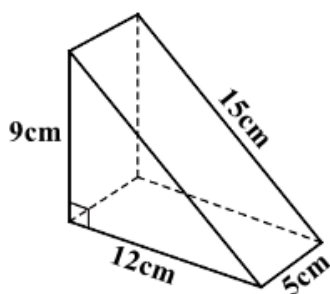
Cho hình vẽ sau:



Biết  $AB \parallel DE$ ,  $\angle BAC = 120^\circ$ ,  $\angle CDE = 130^\circ$ . Tính:  $\angle BAC + \angle ACD + \angle CDE$ .

### Bài 4: (1,5 điểm)

Một chiếc bánh ngọt có dạng hình lăng trụ đứng tam giác, có kích thước như hình vẽ bên dưới.



a) Tính thể tích cái bánh.

b) Nếu phải làm một chiếc hộp để đựng vừa khít cái bánh này thì chi phí làm hộp là bao nhiêu biết giá 1 mét vuông bìa là 22500 đồng.

### Bài 5: (0,5 điểm)

Tìm giá trị nhỏ nhất của biểu thức  $A = x^2 + \sqrt{x} - 113$  với  $x \geq 0$ .

-----HÉT-----

**HƯỚNG DẪN GIẢI CHI TIẾT**  
**THỰC HIỆN: BAN CHUYÊN MÔN LOIGIAIHAY.COM**

**Phần I: Trắc nghiệm:**

1.A	2.A	3.B	4.D	5.D	6.D	7.B	8.D	10.B
-----	-----	-----	-----	-----	-----	-----	-----	------

**Câu 1**

**Phương pháp:**

Số đối của số hữu tỉ  $a$  kí hiệu là  $-a$ .

**Cách giải:**

Số đối của  $\frac{-7}{12}$  là:  $-\left(\frac{-7}{12}\right) = \frac{7}{12}$

**Chọn A.**

**Câu 2**

**Phương pháp:**

Sử dụng phương pháp so sánh trung gian.

**Cách giải:**

+ Ta có:  $37 < 41$  nên  $\frac{37}{41} < 1$  suy ra  $\frac{-37}{41} > -1$  (1)

$23 > 17$  nên  $\frac{23}{17} > 1$  suy ra  $\frac{23}{-17} < -1$  (2)

Từ (1) và (2), suy ra  $\frac{23}{-17} < -1 < \frac{-37}{41}$ , do đó,  $\frac{-37}{41} > \frac{23}{-17}$

Vậy đáp án A đúng.

**Chọn A.**

**Câu 3**

**Phương pháp:**

Căn bậc hai số học của số  $a$  không âm là số  $x$  không âm sao cho  $x^2 = a$ .

Sử dụng tính chất:  $x^2 = (-x)^2$

**Cách giải:**

$\sqrt{\left(-\frac{2}{3}\right)^2} = \sqrt{\left(\frac{2}{3}\right)^2} = \sqrt{\frac{4}{9}} = \frac{2}{3}$  nên đáp án A,C,D đúng

Do chỉ tồn tại căn bậc hai số học của một số không âm nên đáp án B sai.

**Chọn B.**

#### Câu 4

##### Phương pháp:

Vận dụng kiến thức giá trị tuyệt đối của một số thực, tìm phát biểu sai.

##### Cách giải:

Phát biểu A đúng vì giá trị tuyệt đối của một số thực là một số không âm.

Phát biểu B đúng vì hai số có giá trị tuyệt đối bằng nhau là hai số bằng nhau hoặc đối nhau.

Phát biểu C đúng vì hai số đối nhau có điểm biểu diễn cách đều điểm gốc 0 nên giá trị tuyệt đối của chúng bằng nhau.

Phát biểu D sai vì giá trị tuyệt đối của số âm là số đối của nó.

**Chọn D.**

#### Câu 5

##### Phương pháp:

Đọc biểu đồ quạt tròn, xác định tỉ lệ học sinh sử dụng internet cho từng mục đích

##### Cách giải:

Tỉ lệ học sinh sử dụng internet:

+Phục vụ học tập là 40%

+Kết nối bạn bè là 25%

+Giải trí là 45%

Vậy % học sinh sử dụng internet không phục vụ học tập là:  $25\% + 45\% = 70\%$

**Chọn D.**

#### Câu 6

##### Phương pháp:

Đọc biểu đồ đoạn thẳng

##### Cách giải:

Năm 2021 tỉ lệ học sinh THCS nghiện điện thoại di động là cao nhất (15%).

**Chọn D.**

#### Câu 7

##### Phương pháp:

Thể tích của hình hộp chữ nhật có chiều dài đáy là  $a$ , chiều rộng đáy là  $b$  và chiều cao là  $c$ :  $V = abc$

Thể tích của hình lập phương có một cạnh là  $a$ :  $V = a^3$

##### Cách giải:

Thể tích ban đầu của khối gỗ là:  $V_1 = 20.12.10 = 2400 (cm^3)$

Thể tích phần khối gỗ cắt bỏ đi là:  $V_2 = 5^3 = 125 (cm^3)$

Thể tích phần còn lại của khối gỗ là:  $V = V_1 - V_2 = 2400 - 125 = 2275 (cm^3)$

**Chọn B.**

**Câu 8**

**Phương pháp:**

Hình lăng trụ đứng tứ giác là hình có hai mặt đáy cùng là tứ giác và song song với nhau; các mặt bên đều là hình chữ nhật; các cạnh bên bằng nhau.

**Cách giải:**

Trong 4 hình vẽ, ta nhận thấy Hình 4 là hình lăng trụ đứng tứ giác.

**Chọn D.**

**Câu 9**

**Phương pháp:**

Định lí là một khẳng định được suy ra từ những khẳng định đúng đã biết. Mỗi định lí thường được phát biểu dưới dạng: Nếu ... thì ....

**Cách giải:**

Phát biểu định lí: Nếu một đường thẳng vuông góc với một trong hai đường thẳng song song thì nó vuông góc với đường thẳng kia.

**Chọn A.**

**Câu 10**

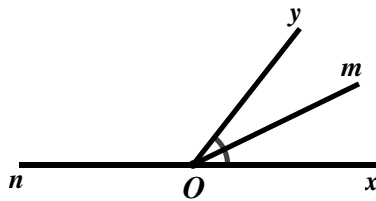
**Phương pháp**

$Oz$  là tia phân giác của  $\angle xOy$  thì ta có:  $\angle xOz = \angle zOy = \frac{\angle xOy}{2}$

$\angle xOz$  và  $\angle zOy$  là hai góc kề nhau thì ta có:  $\angle xOz + \angle zOy = \angle xOy$ .

$\angle xOz$  và  $\angle zOy$  là hai góc kề bù thì ta có:  $\angle xOy = \angle xOz + \angle zOy = 180^\circ$

**Cách giải:**



Vì  $Om$  là tia phân giác của  $\angle xOy$  nên  $\angle mOy = \frac{\angle xOy}{2} = \frac{50^\circ}{2} = 25^\circ$

Ta có:  $\angle nOy$  và  $\angle yOx$  là hai góc kề bù nên  $\angle nOy + \angle yOx = 180^\circ$

$$\Rightarrow \angle nOy + 50^\circ = 180^\circ$$

$$\Rightarrow \angle nOy = 180^\circ - 50^\circ = 130^\circ$$

Ta có:  $\angle nOy$  và  $\angle yOm$  là hai góc kề nhau nên  $\angle nOy + \angle yOm = \angle nOm$

$$\Rightarrow 130^\circ + 25^\circ = 155^\circ = \angle nOm$$



Vậy  $\angle mOn = 155^\circ$

**Chọn B.**

## Phần II. Tự luận (7 điểm):

### Bài 1

#### Phương pháp:

a) Đổi số thập phân sang phân số

Thực hiện các phép toán với số hữu tỉ.

b) Lũy thừa của một số hữu tỉ:  $\left(\frac{a}{b}\right)^n = \frac{a^n}{b^n}$  ( $b \neq 0; n \in \mathbb{Z}$ )

Thực hiện các phép toán với số hữu tỉ.

c) Tính căn bậc hai số học của một số thực

Thực hiện các phép toán với số hữu tỉ.

d) Lũy thừa của một số hữu tỉ:  $\left(\frac{a}{b}\right)^n = \frac{a^n}{b^n}$  ( $b \neq 0; n \in \mathbb{Z}$ )

Tính căn bậc hai số học của một số thực

Vận dụng kiến thức giá trị tuyệt đối của một số thực:  $|x| = \begin{cases} x & \text{khi } x > 0 \\ -x & \text{khi } x < 0 \\ 0 & \text{khi } x = 0 \end{cases}$

Thực hiện các phép toán với số hữu tỉ.

#### Cách giải:

$$\text{a) } \frac{2}{9} + \frac{1}{3} : \left(-\frac{3}{2}\right) + \frac{1}{2} \cdot (-0,5)^0$$

$$= \frac{2}{9} + \frac{1}{3} \cdot \left(\frac{-2}{3}\right) + \frac{1}{2} \cdot 1$$

$$= \frac{2}{9} + \frac{-2}{9} + \frac{1}{2}$$

$$= 0 + \frac{1}{2}$$

$$= \frac{1}{2}$$

$$\text{b) } \left(\frac{-1}{2}\right)^2 - \frac{5}{8} : (0,5)^3 - \frac{5}{3} \cdot (-6)$$

$$= \frac{(-1)^2}{2^2} - \frac{5}{8} : \left(\frac{1}{2}\right)^3 - 5 \cdot (-2)$$

$$= \frac{1}{4} - \frac{5}{8} : \frac{1^3}{2^3} - (-10)$$

$$= \frac{1}{4} - \frac{5}{8} : \frac{1}{8} + 10$$

$$= \frac{1}{4} - \frac{5 \cdot 8}{8 \cdot 1} + 10$$

$$= \frac{1}{4} - 5 + 10 = \frac{1}{4} + 5$$

$$= \frac{1}{4} + \frac{20}{4} = \frac{21}{4}$$

$$\text{c) } \sqrt{0,04} + \sqrt{0,25} + 2,31$$

$$\begin{aligned}
&= \sqrt{(0,2)^2} + \sqrt{(0,5)^2} + 2,31 \\
&= 0,2 + 0,5 + 2,31 \\
&= 3,01
\end{aligned}$$

$$\begin{aligned}
&= \left| \sqrt{13^2} - \sqrt{30^2} \right| - \frac{5}{4} : \left( \frac{2}{6} - \frac{3}{6} \right)^2 \\
&= |13 - 30| - \frac{5}{4} : \left( \frac{1}{6} \right)^2 \\
&= |-17| - \frac{5}{4} : \frac{1}{36} \\
&= 17 - \frac{5}{4} \cdot 36 \\
&= 17 - 45 \\
&= -28
\end{aligned}$$

$$d) \left| \sqrt{169} - \sqrt{900} \right| - \left| \frac{-5}{4} \right| : \left( \frac{1}{3} - \frac{1}{2} \right)^2$$

## Bài 2

### Phương pháp:

a) Thực hiện các phép toán với số hữu tỉ

Vận dụng quy tắc chuyển vế, tìm  $x$ .

b) Giải  $[A(x)]^2 = a^2 = (-a)^2$

Trường hợp 1:  $A(x) = a$

Trường hợp 2:  $A(x) = -a$

c) Tính căn bậc hai số học của số thực

Thực hiện các phép toán với số hữu tỉ

Vận dụng quy tắc chuyển vế, tìm  $x$ .

d)  $|x| = a$

Trường hợp  $a < 0$ , khi đó phương trình không có nghiệm  $x$

Trường hợp  $a > 0$ , vận dụng kiến thức giá trị tuyệt đối của một số thực:  $|x| = \begin{cases} x & \text{khi } x > 0 \\ -x & \text{khi } x < 0 \\ 0 & \text{khi } x = 0 \end{cases}$

### Cách giải:

$$a) \frac{1}{3}x + \frac{2}{5}(x-1) = 0$$

$$\frac{1}{3}x + \frac{2}{5}x - \frac{2}{5} = 0$$

$$x \cdot \left( \frac{1}{3} + \frac{2}{5} \right) = \frac{2}{5}$$

$$x \cdot \left( \frac{5}{15} + \frac{6}{15} \right) = \frac{2}{5}$$

$$x \cdot \frac{11}{15} = \frac{2}{5}$$

$$x = \frac{2}{5} : \frac{11}{15}$$

$$x = \frac{2}{5} \cdot \frac{15}{11}$$

$$x = \frac{6}{11}$$

Vậy  $x = \frac{6}{11}$

b)  $(2x+1)^2 = \frac{36}{25}$

$$(2x+1)^2 = \left( \frac{6}{5} \right)^2 = \left( -\frac{6}{5} \right)^2$$

Trường hợp 1:

$$2x+1 = \frac{6}{5}$$

$$2x = \frac{6}{5} - 1 = \frac{6}{5} - \frac{5}{5}$$

$$2x = \frac{1}{5}$$

$$x = \frac{1}{5} : 2 = \frac{1}{5} \cdot \frac{1}{2}$$

$$x = \frac{1}{10}$$

Vậy  $x \in \left\{ \frac{1}{10}; \frac{-11}{10} \right\}$

Trường hợp 2:

$$2x+1 = -\frac{6}{5}$$

$$2x = \frac{-6}{5} - 1 = \frac{-6}{5} - \frac{5}{5}$$

$$2x = \frac{-11}{5}$$

$$x = \frac{-11}{5} : 2 = \frac{-11}{5} \cdot \frac{1}{2}$$

$$x = \frac{-11}{10}$$

$$c) \frac{1}{2}x + \sqrt{0,04} = \sqrt{1,96}$$

$$\frac{1}{2}x + \sqrt{(0,2)^2} = \sqrt{(1,4)^2}$$

$$\frac{1}{2}x + 0,2 = 1,4$$

$$\frac{1}{2}x = 1,4 - 0,2 = 1,2$$

$$x = 1,2 : \frac{1}{2} = 1,2 \cdot 2$$

$$x = 2,4$$

Vậy  $x = 2,4$ .

$$d) \left| 2x - 1 \right| + \frac{1}{2} = \frac{4}{5}$$

Trường hợp 1:

$$\left| 2x - 1 \right| + \frac{1}{2} = \frac{4}{5}$$

$$\left| 2x - 1 \right| = \frac{4}{5} - \frac{1}{2} = \frac{8}{10} - \frac{5}{10}$$

$$\left| 2x - 1 \right| = \frac{3}{10}$$

$$* 2x - 1 = \frac{3}{10}$$

$$* 2x - 1 = \frac{-3}{10}$$

$$2x = \frac{3}{10} + 1 = \frac{3}{10} + \frac{10}{10}$$

$$2x = \frac{-3}{10} + 1 = \frac{-3}{10} + \frac{10}{10}$$

$$2x = \frac{13}{10}$$

$$2x = \frac{7}{10}$$

$$x = \frac{13}{10} : 2 = \frac{13}{10} \cdot \frac{1}{2}$$

$$x = \frac{7}{10} : 2 = \frac{7}{10} \cdot \frac{1}{2}$$

$$x = \frac{13}{20}$$

$$x = \frac{7}{20}$$

Trường hợp 2:

$$\left| 2x - 1 \right| + \frac{1}{2} = -\frac{4}{5}$$

$$\left| 2x - 1 \right| = -\frac{4}{5} - \frac{1}{2} = \frac{-8}{10} - \frac{5}{10}$$

$$\left| 2x - 1 \right| = \frac{-13}{10}$$

Vì  $\frac{-13}{10} < 0$  nên không có  $x$  thỏa mãn  $\left| 2x - 1 \right| = \frac{-13}{10}$ .

$$\text{Vậy } x \in \left\{ \frac{13}{20}; \frac{7}{20} \right\}$$

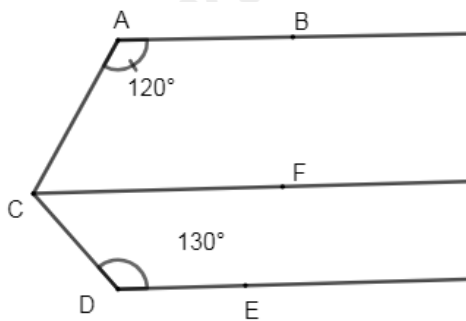
### Bài 3

#### Phương pháp:

Áp dụng tính chất hai đường thẳng song song, tiên đề Ô-clit.

- Tính chất: Hai đường thẳng phân biệt cùng song song với đường thẳng thứ ba thì chúng song song với nhau.

#### Cách giải:



Kẻ  $CF \parallel AB \Rightarrow \angle BAC + \angle ACF = 180^\circ$  (2 góc trong cùng phía)

$$\Rightarrow \angle ACF = 180^\circ - \angle BAC = 180^\circ - 120^\circ = 60^\circ$$

Ta có:  $\begin{cases} AB \parallel DE \\ CF \parallel AB \end{cases} \text{ (gt)} \Rightarrow DE \parallel CF$ .

$\Rightarrow \angle FCD + \angle CDE = 180^\circ$  (2 góc trong cùng phía)

$$\Rightarrow \angle DCF = 180^\circ - \angle CDE = 180^\circ - 130^\circ = 50^\circ$$

$$\Rightarrow \angle ACD = \angle ACF + \angle FCD = 60^\circ + 50^\circ = 110^\circ$$

$$\Rightarrow \angle BAC + \angle ACD + \angle CDE = 120^\circ + 110^\circ + 130^\circ = 360^\circ$$

#### Bài 4

##### Phương pháp:

a) Thể tích của hình lăng trụ đứng tam giác:  $V = S_{\text{đáy}} \cdot h$

Trong đó:  $V$ : thể tích của hình lăng trụ đứng tam giác

$S_{\text{đáy}}$ : diện tích một đáy của hình lăng trụ đứng tam giác

$h$ : chiều cao của hình lăng trụ đứng tam giác

b) Diện tích xung quanh của hình lăng trụ đứng tam giác, hình lăng trụ đứng tứ giác:  $S_{xq} = C_{\text{đáy}} \cdot h$

Trong đó:  $S_{xq}$ : diện tích xung quanh hình lăng trụ đứng tam giác

$C_{\text{đáy}}$ : diện tích một đáy của hình lăng trụ đứng tam giác

$h$ : chiều cao của hình lăng trụ đứng tam giác

Chi phí làm hộp = (diện tích xung quanh + diện tích hai đáy) . giá tiền 1 mét vuông bìa

##### Cách giải:

a) Đáy của hình lăng trụ tam giác là một tam giác vuông nên diện tích đáy là:  $S_{\text{đáy}} = \frac{1}{2} \cdot 9 \cdot 12 = 54 (cm^2)$

Thể tích cái bánh là:  $V = S_{\text{đáy}} \cdot h = 54 \cdot 5 = 270 (cm^3)$

b) Chu vi đáy của cái bánh là:  $C = 9 + 12 + 15 = 36 (cm)$

Diện tích xung quanh của cái bánh là:  $S_{xq} = C \cdot h = 36 \cdot 5 = 180 (cm^2)$

Diện tích hai đáy của cái bánh là:  $S = 2 \cdot 54 = 108 (cm^2)$

Diện tích làm hộp của cái bánh là:  $S_{xq} + S = 180 + 108 = 288(\text{cm}^2) = 0,0288(\text{m}^2)$

Chi phí làm hộp là:  $0,0288.22500 = 648$  (đồng)

### Bài 5

#### Phương pháp:

Đánh giá các số hạng của tổng để tìm giá trị nhỏ nhất của  $A$ .

Chú ý:  $x^2 \geq 0, \forall x \in \mathbb{R}$ .

#### Cách giải:

Ta có:  $x^2 \geq 0; \sqrt{x} \geq 0$  với mọi số thực  $x \geq 0$  nên  $x^2 + \sqrt{x} \geq 0$  với mọi số thực  $x \geq 0$ .

Suy ra  $x^2 + \sqrt{x} - 113 \geq -113$  với mọi số thực  $x \geq 0$ . Hay  $A \geq -113$  với mọi số thực  $x \geq 0$ .

Dấu “=” xảy ra  $\Leftrightarrow x = 0$ .

Vậy  $\min A = -113 \Leftrightarrow x = 0$ .