

Họ và tên: .....

**ĐỀ KIỂM TRA HỌC KÌ 2 – ĐỀ 7**

Lớp: .....

**Môn: Toán – Lớp 2**

**Bộ sách: Chân trời sáng tạo**

*Thời gian làm bài: 40 phút*

**I. TRẮC NGHIỆM**

*(Khoanh vào chữ đặt trước câu trả lời đúng)*

**Câu 1.** Số 703 được viết thành tổng nào?

- A.  $70 + 0 + 3$
- B.  $300 + 70$
- C.  $700 + 3$
- D.  $700 + 30$


**Câu 2.** Phép tính nào dưới đây có kết quả lớn nhất:

- A.  $50 : 5$
- B.  $430 - 390$
- C.  $5 \times 9$
- D.  $315 + 37 - 310$

**Câu 3.** Một ô tô đi từ Hà Nội lúc 10 giờ sáng và đến Nghệ An lúc 3 giờ chiều. Hỏi ô tô đó đi từ Hà Nội đến Nghệ An hết bao nhiêu giờ?

- A. 4 giờ
- B. 5 giờ
- C. 6 giờ
- D. 7 giờ

**Câu 4.** Hình bên có bao nhiêu hình tứ giác?



- A. 5
- B. 6
- C. 7
- D. 8

**Câu 5.** Số thích hợp điền vào chỗ chấm  $509 \text{ cm} = \dots \text{ dm } \dots \text{ cm}$  là:

- A. 5 dm 9 cm
- B. 50 dm 9 cm
- C. 5 dm 90 cm
- D. 500 dm 9 cm

**Câu 6.** Con bò cân nặng 215 kg, con trâu cân nặng hơn con bò 48 kg. Hỏi con trâu cân nặng bao nhiêu ki-lô-gam?

- A. 254 kg
- B. 263kg
- C. 167 kg
- D. 177 kg

**II. TỰ LUẬN**

**Câu 1.** Đặt tính rồi tính:

- |                |               |                |                |
|----------------|---------------|----------------|----------------|
| a) $556 - 138$ | b) $89 + 504$ | c) $582 - 315$ | d) $172 + 336$ |
| .....          | .....         | .....          | .....          |
| .....          | .....         | .....          | .....          |
| .....          | .....         | .....          | .....          |

**Câu 2.** Điền số thích hợp vào chỗ chấm:

2m 5 dm = ..... cm

560 cm = ..... m ..... dm


**Câu 3.** Điền số thích hợp vào chỗ chấm:

Trong hình bên có:

..... khối cầu

..... khối hộp chữ nhật

..... khối lập phương



**Câu 4.** Chiều nay trạm y tế phường đã tiêm vắc xin cho 286 người, ít hơn sáng nay 160 người. Hỏi sáng nay trạm y tế phường đã tiêm vắc xin cho bao nhiêu người?

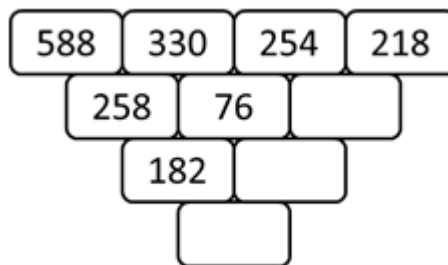
.....

.....

.....


.....

**Câu 5.** Điền số thích hợp vào ô trống:





**Câu 4.** Hình bên có bao nhiêu hình tứ giác?



- A. 5                      B. 6                      C. 7                      D. 8

**Phương pháp**

Đếm số hình tứ giác có trong hình đã cho.

**Cách giải**

Hình bên có 8 hình tứ giác.

Chọn **D**.

**Câu 5.** Số thích hợp điền vào chỗ chấm  $509 \text{ cm} = \dots \text{ dm } \dots \text{ cm}$  là:

- A. 5 dm 9 cm                      B. 50 dm 9 cm  
C. 5 dm 90 cm                      D. 500 dm 9 cm

**Phương pháp**

Áp dụng cách đổi:  $10 \text{ cm} = 1 \text{ dm}$

**Cách giải**

$509 \text{ cm} = 50 \text{ dm } 9 \text{ cm}$

**Câu 6.** Con bò cân nặng 215 kg, con trâu cân nặng hơn con bò 48 kg. Hỏi con trâu cân nặng bao nhiêu ki-lô-gam?

- A. 254 kg                      B. 263kg                      C. 167 kg                      D. 177 kg

**Phương pháp**

Cân nặng của con trâu = Cân nặng của con bò + 48 kg

**Cách giải**

Cân nặng của con trâu là  $215 + 48 = 263 \text{ (kg)}$

Chọn **B**

**II. TỰ LUẬN**

**Câu 1.** Đặt tính rồi tính:

- a)  $556 - 138$                       b)  $89 + 504$                       c)  $582 - 315$                       d)  $172 + 336$

**Phương pháp**

- Đặt tính sao cho các chữ số cùng hàng thẳng cột với nhau
- Cộng hoặc trừ các chữ số thẳng cột lần lượt từ phải sang trái

**Cách giải**

$$\begin{array}{r} 556 \\ - 138 \\ \hline 418 \end{array}$$

$$\begin{array}{r} 504 \\ + 89 \\ \hline 593 \end{array}$$

$$\begin{array}{r} 582 \\ - 315 \\ \hline 267 \end{array}$$

$$\begin{array}{r} 172 \\ + 336 \\ \hline 508 \end{array}$$

**Câu 2.** Điền số thích hợp vào chỗ chấm:

$2\text{m } 5\text{dm} = \dots \text{ cm}$

$560 \text{ cm} = \dots \text{ m } \dots \text{ dm}$

### Phương pháp

Áp dụng cách đổi:  $1 \text{ m} = 100 \text{ cm}$ ;  $1 \text{ dm} = 10 \text{ cm}$

### Cách giải

$2\text{m } 5\text{dm} = 200 \text{ cm} + 50 \text{ cm} = \mathbf{250 \text{ cm}}$

$560 \text{ cm} = \mathbf{5 \text{ m } 6 \text{ dm}}$


**Câu 3.** Điền số thích hợp vào chỗ chấm:

Trong hình bên có:

..... khối cầu

..... khối hộp chữ nhật

..... khối lập phương



### Phương pháp

Quan sát hình vẽ để trả lời câu hỏi.

### Cách giải

Trong hình bên có:

**3** khối cầu

**6** khối hộp chữ nhật

**6** khối lập phương

**Câu 4.** Chiều nay trạm y tế phường đã tiêm vắc xin cho 286 người, ít hơn sáng nay 160 người. Hỏi sáng nay trạm y tế phường đã tiêm vắc xin cho bao nhiêu người?

### Phương pháp

$$\text{Số người đã tiêm vào buổi sáng} = \text{Số người đã tiêm vào buổi chiều} + 160 \text{ người}$$

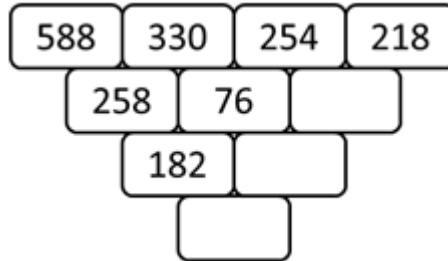
**Cách giải**

Sáng nay trạm y tế phường đã tiêm vắc xin cho số người là

$$286 + 160 = 446 \text{ (người)}$$

Đáp số: 446 người

**Câu 5.** Điền số thích hợp vào ô trống:

**Phương pháp**

Quy luật: Hiệu của hai số đứng cạnh nhau bằng số ở giữa của hàng dưới. Từ đó em xác định được các số còn thiếu.

**Cách giải**

Quy luật: Hiệu của hai số đứng cạnh nhau bằng số ở giữa của hàng dưới

Số còn thiếu là:

$$254 - 218 = 36$$

$$76 - 36 = 40$$

$$182 - 40 = 142$$

