

Họ và tên:

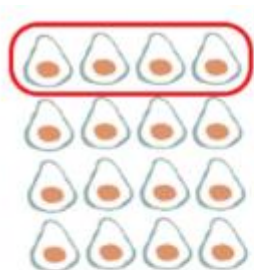
Lớp:

ĐỀ KIỂM TRA HỌC KÌ 1 – ĐỀ 13**Môn: Toán – Lớp 3****Bộ sách: Chân trời sáng tạo***Thời gian làm bài: 40 phút***I. TRẮC NGHIỆM***(Khoanh vào chữ đặt trước câu trả lời đúng)***Câu 1.** Số liền trước của số 540 là:

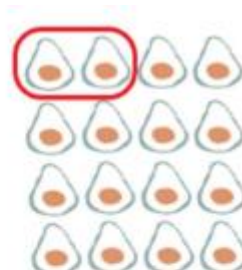
- A. 538 B. 541 C. 539 D. 542

Câu 2. Chia đều 36 *l* nước mắm vào 9 can. Hỏi mỗi can có bao nhiêu lít nước mắm?

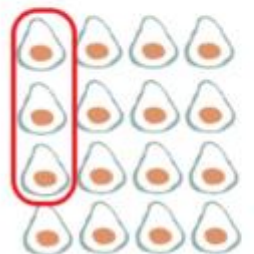
- A. 2 B. 3 C. 4 D. 5

Câu 3. Trong các hình vẽ dưới đây, hình nào đã khoanh vào $\frac{1}{8}$ quả bơ:


Hình 1



Hình 2

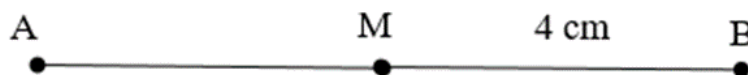


Hình 3



Hình 4

- A. Hình 1 B. Hình 2 C. Hình 3 D. Hình 4

Câu 4. Biết M là trung điểm của AB. Tính độ dài đoạn thẳng AM.

- A. AM = 2 cm B. AM = 4 cm C. AM = 3 cm D. AM = 5 cm

Câu 5. Số dư của phép chia $628 : 8$ là:

- A. 4 B. 3 C. 2 D. 5

Câu 6. Nhiệt độ cơ thể người bình thường khoảng

- A. 35°C B. 37°C C. 38°C D. 40°C

II. TỰ LUẬN**Câu 7.** Đặt tính rồi tính.

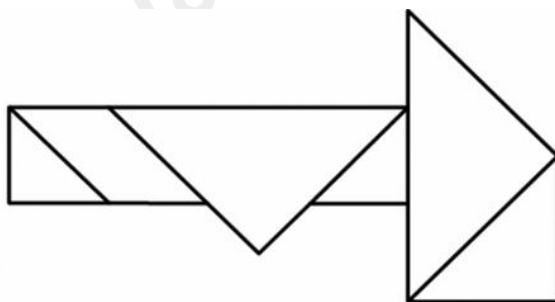
106×8

$543 : 3$

Câu 8. Tìm x

a) $x : 3 = 23$

b) $x + 362 = 546 - 12$

Câu 9. Thu hoạch ở thửa ruộng thứ nhất được 127 kg cà chua, ở thửa ruộng thứ hai nhiều gấp 3 lần số cà chua ở thửa ruộng thứ nhất. Hỏi thu hoạch ở cả hai thửa ruộng được bao nhiêu ki-lô-gam cà chua?**Câu 10.** Trong hình bên có hình tứ giác.**Câu 11.** Tính nhanh các giá trị của biểu thức dưới đây:

a) $576 + 678 + 780 - 476 - 578 - 680$

b) $(126 + 32) \times (18 - 16 - 2)$