

Họ và tên:

ĐỀ KIỂM TRA HỌC KÌ 1 – ĐỀ 12


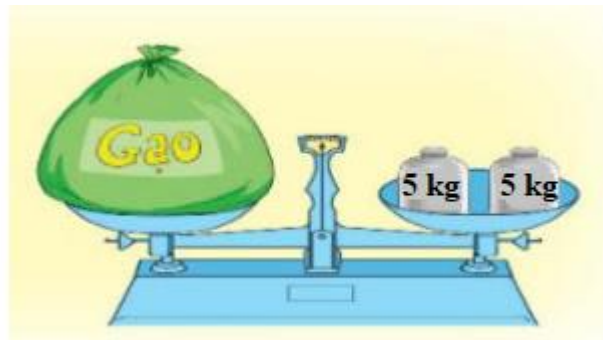
Lớp:

Môn: Toán – Lớp 2**Bộ sách: Cánh diều**

Thời gian làm bài: 40 phút

I. TRẮC NGHIỆM (Khoanh vào chữ đặt trước câu trả lời đúng)**Câu 1.** Số liền trước của số lớn nhất có hai chữ số là số nào?

- A. 97 B. 100 C. 98 D. 89

Câu 2. Chú mèo nào mang phép tính có kết quả là 12:**Câu 3.** Bao gạo trong hình dưới đây nặng mấy ki-lô-gam?

- A. 5 kg B. 8 kg C. 10 kg D. 12 kg

Câu 4. Điền dấu thích hợp vào chỗ chấm: $45 + 26 \dots 98 - 25$

- A. > B. < C. = D. Không xác định

Câu 5. Một sợi dây dài 78 cm, cắt đi 18 cm. Hỏi sợi dây còn lại dài bao nhiêu đề-xi-mét?

- A. 5 dm B. 6 dm C. 8 dm D. 7 dm

Câu 6. Số thích hợp điền vào chỗ chấm $20 \text{ cm} + 65 \text{ cm} - 38 \text{ cm} = \dots \text{ cm}$ là:

- A. 85 B. 47 C. 57 D. 46

Câu 7. Lan hái được 36 bông hoa cúc và hoa hồng. Trong đó số bông hoa hồng Lan hái được là 1 chục bông. Hỏi Lan hái được bao nhiêu bông hoa cúc?

- A. 37 bông B. 35 bông C. 26 bông D. 16 bông

Câu 8. Cho dãy số sau: 92 ; 90 ; 88 ; 86 ; ; Hai số tiếp theo cần điền vào chỗ chấm là:

- A. 84 ; 82 B. 85 ; 84 C. 82 ; 84 D. 84 ; 83

II. TỰ LUẬN

Câu 1. Đặt tính rồi tính.

$56 + 38$

$92 - 47$

$24 + 57$

$62 - 27$

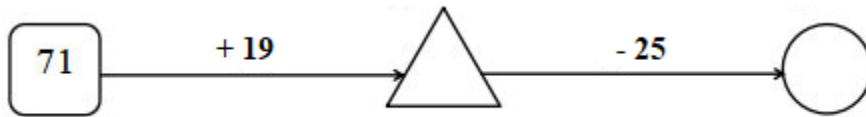
.....

.....

.....

.....

Câu 2. Điền số thích hợp vào hình tròn và hình tam giác.



Câu 3. Trên cây khế có tất cả 67 quả. Chim thần đã ăn mất 28 quả. Hỏi trên cây còn lại bao nhiêu quả khế?

.....

Câu 4. Hình bên có:

..... hình tam giác, đó là:

..... hình tứ giác, đó là:

