

Họ và tên: .....

Lớp: .....

**ĐỀ KIỂM TRA HỌC KÌ 1 – ĐỀ 14****Môn: Toán – Lớp 2****Bộ sách: Kết nối tri thức***Thời gian làm bài: 40 phút***I. TRẮC NGHIỆM** (Khoanh vào chữ đặt trước câu trả lời đúng)**Câu 1.** Số liền sau của số lớn nhất có hai chữ số khác nhau là:

- A. 100                      B. 99                      C. 98                      D. 89

**Câu 2.** Đồng hồ sau chỉ mấy giờ?

- A. 2 giờ 30 phút              B. 6 giờ 15 phút              C. 1 giờ 30 phút              D. 1 giờ 6 phút

**Câu 3.** Dấu thích hợp điền vào chỗ chấm  $15 + 36 \dots 82 - 29$  là:

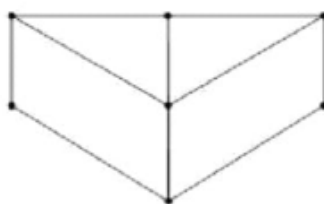
- A. >                      B. <                      C. =                      D. Không xác định

**Câu 4.** Kết quả của phép tính  $26 + 15 - 11$  là:

- A. 20                      B. 29                      C. 32                      D. 30

**Câu 5.** Mẹ mang ra chợ bán 38 quả trứng gà và 27 quả trứng vịt. Hỏi mẹ mang ra chợ bán tất cả bao nhiêu quả trứng gà và trứng vịt?

- A. 65 quả                      B. 11 quả                      C. 64 quả                      D. 55 quả

**Câu 6.** Trong hình bên có:

- A. 3 hình tứ giác, 3 hình tam giác                      B. 3 hình tứ giác, 2 hình tam giác  
C. 2 hình tứ giác, 3 hình tam giác                      D. 4 hình tứ giác, 3 hình tam giác

**Câu 7.** Số thích hợp điền vào dãy số 23, 26, 29, 32, ....., 41, 44 là:

- A. 34, 36                      B. 35 ; 37                      C. 35 ; 38                      D. 36 ; 39

**Câu 8.** Hôm nay là thứ Sáu ngày 24 tháng 7. Ba ngày trước là sinh nhật mẹ Chi. Vậy sinh nhật mẹ Chi vào thứ:

- A. Thứ Hai                      B. Thứ Ba                      C. Thứ Tư                      D. Thứ Năm

**II. TỰ LUẬN**

**Câu 1.** Đặt tính rồi tính.

$69 + 15$

$58 + 34$

$83 - 27$

$64 - 28$

.....

.....

.....

.....

.....

.....

.....

.....

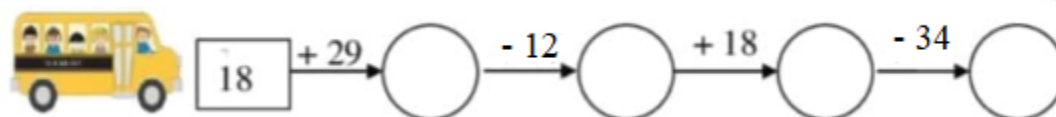
.....

.....

.....

.....

**Câu 2.** Điền số thích hợp vào ô trống:



**Câu 3.** Nam đọc một quyển truyện dày 96 trang. Nam đã đọc được 47 trang. Hỏi Nam còn bao nhiêu trang chưa đọc?

.....  
 .....  
 .....

**Câu 4.** Số thích hợp điền vào dấu ? là:

	+		+		=	90
	+		+		=	70
	+		+		=	40
	+		+		=	?

## HƯỚNG DẪN GIẢI CHI TIẾT

## I. TRẮC NGHIỆM

**Câu 1.** Số liền sau của số lớn nhất có hai chữ số khác nhau là:

- A. 100                      B. 99                      C. 98                      D. 89

**Phương pháp**

- Tìm số lớn nhất có hai chữ số khác nhau
- Số liền sau của một số thì lớn hơn số đó 1 đơn vị

**Lời giải**

Số lớn nhất có hai chữ số khác nhau là 98.

Vậy số liền sau của số lớn nhất có hai chữ số khác nhau là 99.

**Chọn B**

**Câu 2.** Đồng hồ sau chỉ mấy giờ?



- A. 2 giờ 30 phút              B. 6 giờ 15 phút              C. 1 giờ 30 phút              D. 1 giờ 6 phút

**Phương pháp**

Quan sát đồng hồ để xác định thời gian

**Lời giải**

Đồng hồ chỉ 1 giờ 30 phút

**Chọn C**

**Câu 3.** Dấu thích hợp điền vào chỗ chấm  $15 + 36 \dots 82 - 29$  là:

- A. >                      B. <                      C. =                      D. Không xác định

**Phương pháp**

Tính kết quả các phép tính rồi so sánh hai vế.

**Lời giải**

Ta có  $15 + 36 = 51$  ;  $82 - 29 = 53$

Vậy  $15 + 36 < 82 - 29$

**Chọn B**

**Câu 4.** Kết quả của phép tính  $26 + 15 - 11$  là:

- A. 20                      B. 29                      C. 32                      D. 30

**Phương pháp**

Thực hiện tính lần lượt từ trái sang phải

**Lời giải**

$$26 + 15 - 11 = 41 - 11 = 30$$

**Chọn D**

**Câu 5.** Mẹ mang ra chợ bán 38 quả trứng gà và 27 quả trứng vịt. Hỏi mẹ mang ra chợ bán tất cả bao nhiêu quả trứng gà và trứng vịt?

- A. 65 quả                      B. 11 quả                      C. 64 quả                      D. 55 quả

**Phương pháp**

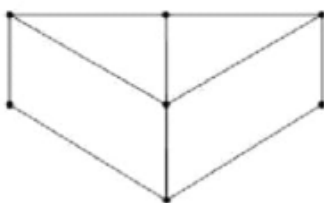
Số quả trứng mẹ mang ra chợ = số trứng gà + số trứng vịt

**Lời giải**

Mẹ mang ra chợ bán tất cả số quả trứng gà và trứng vịt là:  $38 + 27 = 65$  (quả)

**Chọn A**

**Câu 6.** Trong hình bên có:



- A. 3 hình tứ giác, 3 hình tam giác                      B. 3 hình tứ giác, 2 hình tam giác  
C. 2 hình tứ giác, 3 hình tam giác                      D. 4 hình tứ giác, 3 hình tam giác

**Phương pháp**

Quan sát hình vẽ để trả lời câu hỏi

**Lời giải**

Trong hình bên có: 4 hình tứ giác, 3 hình tam giác

**Chọn D**

**Câu 7.** Số thích hợp điền vào dãy số 23, 26, 29, 32, ....., 41, 44 là:

- A. 34, 36                      B. 35 ; 37                      C. 35 ; 38                      D. 36 ; 39

**Phương pháp**

Đếm thêm 3 đơn vị rồi chọn số thích hợp

**Lời giải**

Dãy trên gồm các số tăng dần 3 đơn vị.

Số thích hợp điền vào dãy số là 35 ; 38

**Chọn C**

**Câu 8.** Hôm nay là thứ Sáu ngày 24 tháng 7. Ba ngày trước là sinh nhật mẹ Chi. Vậy sinh nhật mẹ Chi vào thứ:

- A. Thứ Hai                      B. Thứ Ba                      C. Thứ Tư                      D. Thứ Năm

**Phương pháp**

Tính nhẩm rồi chọn đáp án thích hợp

**Lời giải**

Sinh nhật mẹ Chi vào thứ Ba.

**Chọn B**

**II. TỰ LUẬN**

**Câu 1.** Đặt tính rồi tính.

$69 + 15$

$58 + 34$

$83 - 27$

$64 - 28$

**Phương pháp**

- Đặt tính sao cho các chữ số cùng hàng thẳng cột với nhau
- Cộng hoặc trừ lần lượt từ phải sang trái

**Lời giải**

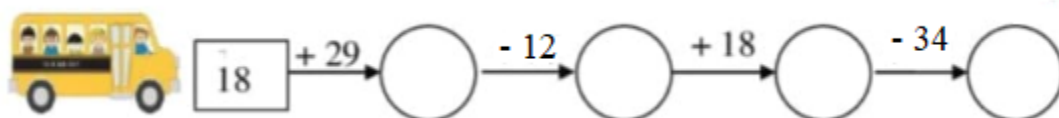
$$\begin{array}{r} 69 \\ + 15 \\ \hline 84 \end{array}$$

$$\begin{array}{r} 58 \\ + 34 \\ \hline 92 \end{array}$$

$$\begin{array}{r} 83 \\ - 27 \\ \hline 56 \end{array}$$

$$\begin{array}{r} 64 \\ - 28 \\ \hline 36 \end{array}$$

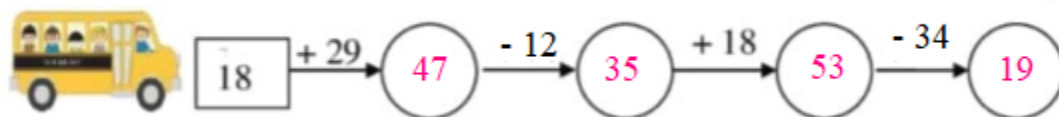
**Câu 2.** Điền số thích hợp vào ô trống:



**Phương pháp**

Thực hiện tính theo chiều mũi tên rồi điền kết quả thích hợp vào ô trống.

**Lời giải**



**Câu 3.** Nam đọc một quyển truyện dày 96 trang. Nam đã đọc được 47 trang. Hỏi Nam còn bao nhiêu trang chưa đọc?

**Phương pháp**

Số trang chưa đọc = Số trang của quyển truyện – số trang đã đọc

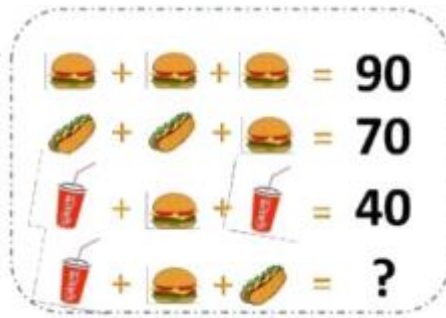
**Lời giải**

Số trang Nam chưa đọc là:

$$96 - 47 = 49 \text{ (trang)}$$

Đáp số: 49 trang

**Câu 4.** Số thích hợp điền vào dấu ? là:



### Phương pháp

Tìm số mà mỗi hình đã cho từ đó tìm được số ở dấu ?

### Lời giải

Chiếc bánh tròn che số 30

Chiếc bánh mì che số 20

Cốc nước che số 5

Vậy số thích hợp điền vào dấu ? là  $5 + 30 + 20 = 55$