

ĐỀ THI GIỮA HỌC KÌ II – ĐỀ SỐ 5

Môn: Hóa học - Lớp 10

Bộ sách Kết nối tri thức

BIÊN SOẠN: BAN CHUYÊN MÔN LOIGIAIHAY.COM



Mục tiêu

- Ôn tập lý thuyết toàn bộ giữa học kì II của chương trình sách giáo khoa Hóa học 10.
- Vận dụng linh hoạt lý thuyết đã học trong việc giải quyết các câu hỏi trắc nghiệm và tự luận Hóa học.
- Tổng hợp kiến thức dạng hệ thống, dần trải tất cả các chương của giữa học kì II – chương trình Hóa học 10.

Câu 1: Phát biểu nào sau đây là đúng?

- A. Số oxi hóa của nguyên tử bất kì trong một đơn chất hóa học nào đều bằng 0.
- B. Tổng số oxi hóa của tất cả các nguyên tử trong một phân tử và trong một ion đa nguyên tử bằng 0.
- C. Trong tất cả các hợp chất, hydrogen luôn có số oxi hóa là +1.
- D. Trong tất cả các hợp chất, oxygen luôn có số oxi hóa là -2.

Câu 2: Phát biểu nào sau đây không đúng?

- A. Số oxi hóa của một nguyên tử một nguyên tố trong hợp chất là điện tích của nguyên tử đó với giả thiết đó là hợp chất ion.
- B. Trong hợp chất, oxygen có số oxi hóa bằng -2, trừ một số trường hợp ngoại lệ.
- C. Số oxi hóa của hydrogen trong các hydride kim loại bằng +1.
- D. Các nguyên tố phi kim có số oxi hóa thay đổi tùy thuộc vào hợp chất chứa chúng.

Câu 3: Số oxi hóa của chromium (Cr) trong Na_2CrO_4 là

- A. -2.
- B. +2.
- C. +6.
- D. -6.

Câu 4: Số oxi hóa của carbon và oxygen trong $\text{C}_2\text{O}_4^{2-}$ lần lượt là:

- A. +3, -2.
- B. +4, -2.
- C. +1, -3.
- D. +3, -6.

Câu 5: Số oxi hóa của Cl trong các chất NaClO , NaClO_2 , NaClO_3 , NaClO_4 lần lượt là:

- A. -1, +3, +5, +7.
- B. +1, -3, +5, -2.
- C. +1, +3, +5, +7.
- D. +1, +3, -5, +7.

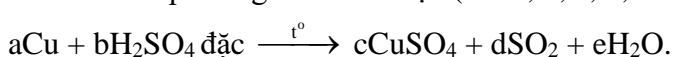
Câu 6: Cho các phát biểu sau:

- (a) Sự oxi hóa là sự nhường electron hay sự làm tăng số oxi hóa.
- (b) Trong quá trình oxi hóa, chất khử nhận electron.
- (c) Sự khử là sự nhận electron hay là sự làm giảm số oxi hóa.
- (d) Trong quá trình khử, chất oxi hóa nhường electron.
- (e) Trong quá trình khử, chất oxi hóa nhận electron và bị khử xuống số oxi hóa thấp hơn.
- (f) Trong quá trình oxi hóa, chất khử nhường electron và bị oxi hóa lên số oxi hóa cao hơn.

Số phát biểu đúng là

- A. 4.
- B. 5.
- C. 6.
- D. 3

Câu 7: Cho phương trình hóa học (với a, b, c, d, e là các hệ số):



Tỉ lệ a : d là:

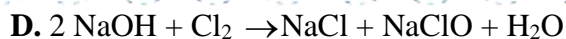
- A. 1:2
- B. 1:1
- C. 2:3
- D. 2:1

Câu 8: Cho 4,8 gam Mg tác dụng với lượng dư dung dịch HNO_3 đặc, nóng thu được V lít khí NO_2 (ở đkc, là sản phẩm khử duy nhất). Giá trị của V là

- A. 9,916 .
- B. 24,79.
- C. 2,479.
- D. 4,48.

Câu 9: Chlorine vừa đóng vai trò chất oxi hóa, vừa đóng vai trò chất khử trong các phản ứng nào sau đây?

- A. $2\text{Na} + \text{Cl}_2 \xrightarrow{t^\circ} 2\text{NaCl}$
- B. $\text{H}_2 + \text{Cl}_2 \rightarrow 2\text{HCl}$



Câu 10: Phát biểu nào sau đây đúng?

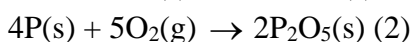
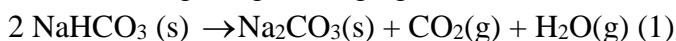
A. Điều kiện chuẩn là điều kiện ứng với áp suất 1 bar (với chất khí), nồng độ 1 mol L^{-1} (đối với chất tan trong dung dịch) và nhiệt độ thường được chọn là 298K

B. Điều kiện chuẩn là điều kiện ứng với nhiệt độ 298K

C. Áp suất 760 mmHg là áp suất ở điều kiện chuẩn

D. Điều kiện chuẩn là điều kiện ứng với áp suất 1 atm, nhiệt độ 0°C

Câu 11: Nung nóng hai ống nghiệm chứa NaHCO_3 và P, xảy ra các phản ứng sau:



Khi ngừng đun nóng, phản ứng (1) dừng lại còn phản ứng (2) tiếp tục xảy ra, chứng tỏ

A. phản ứng (1) tỏa nhiệt, phản ứng (2) thu nhiệt

B. phản ứng (1) thu nhiệt, phản ứng (2) tỏa nhiệt

C. cả 2 phản ứng đều tỏa nhiệt

D. cả 2 phản ứng đều thu nhiệt

Câu 12: Cho phản ứng hóa học xảy ra ở điều kiện chuẩn sau: 2NO_2 (đỏ nâu) $\rightarrow \text{N}_2\text{O}_4$ (không màu)

Biết NO_2 và N_2O_4 có $\Delta_f H_{298}^0$ tương ứng là 33,18 KJ/mol và 9,16 KJ/mol. Điều này chứng tỏ phản ứng

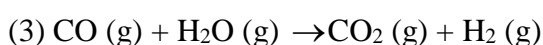
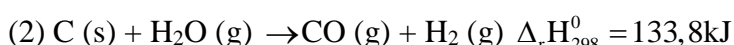
A. tỏa nhiệt, NO_2 bền vững hơn N_2O_4

B. thu nhiệt, NO_2 bền vững hơn N_2O_4

C. tỏa nhiệt, N_2O_4 bền vững hơn NO_2

D. thu nhiệt, N_2O_4 bền vững hơn NO_2

Câu 13: Cho các phản ứng sau:



Ở 500K, 1 atm, biến thiên enthalpy của phản ứng (3) có giá trị là

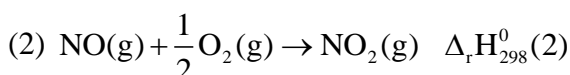
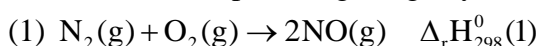
A. -39,8 kJ

B. 39,8 kJ

C. -47,00 kJ

D. 106,7 kJ

Câu 14: Cho hai phản ứng cùng xảy ra ở điều kiện chuẩn:



Cho các phát biểu sau:

(a) Enthalpy tạo thành chuẩn của NO là $\frac{1}{2}\Delta_r H_{298(1)}^0$ kJ/mol

(b) Enthalpy tạo thành chuẩn của NO_2 là $\Delta_r H_{298(2)}^0$ kJ/mol

(c) Biến thiên enthalpy chuẩn của phản ứng giữa 1 mol N_2 với 1 mol O_2 tạo thành 2 mol NO là

$\frac{1}{2}\Delta_r H_{298(1)}^0$ kJ/mol

(d) Biến thiên enthalpy chuẩn của phản ứng giữa 1 mol khí NO với 0,5 mol khí O_2 tạo thành 1 mol khí NO_2

là $\Delta_r H_{298(2)}^0$ kJ/mol

(e) Enthalpy tạo thành chuẩn của $\text{NO}_2(\text{g})$ là: $\frac{1}{2}\Delta_r H_{298(1)}^0$ kJ/mol + $\Delta_r H_{298(2)}^0$ kJ/mol

Số phát biểu không đúng là

A. 2

B. 3

C. 4

D. 5

Câu 15: Cho enthalpy tạo thành chuẩn của một số chất sau:

| | | | |
|------|---------------------------|------------------------|-------------------------|
| Chất | $\text{CaCO}_3(\text{s})$ | $\text{CaO}(\text{s})$ | $\text{CO}_2(\text{g})$ |
|------|---------------------------|------------------------|-------------------------|

| | | | |
|----------------------------------|----------|---------|---------|
| $\Delta_f H_{298}^0$ (kJ/mol) | -1206,90 | -635,10 | -393,50 |
|----------------------------------|----------|---------|---------|

Biến thiên enthalpy chuẩn của phản ứng: $\text{CaCO}_3(\text{s}) \rightarrow \text{CaO}(\text{s}) + \text{CO}_2(\text{g})$

- A. -850,5 kJ B. 850,5 kJ C. -283 kJ D. 178,3 kJ

Câu 16: Cho giá trị trung bình của các năng lượng liên kết ở điều kiện chuẩn:

| | | | |
|-------------------------|-------|-------|-------|
| Liên kết | C – H | C – C | C = C |
| E _b (kJ/mol) | 418 | 346 | 612 |

Biến thiên enthalpy của phản ứng $\text{C}_3\text{H}_8(\text{g}) \rightarrow \text{CH}_4(\text{g}) + \text{C}_2\text{H}_4(\text{g})$ có giá trị là

- A. +103 kJ. B. - 103 kJ. C. +80 kJ. D. - 80 kJ

Câu 17: Cho phản ứng sau: $2\text{SO}_2(\text{g}) + \text{O}_2(\text{g}) \rightarrow 2\text{SO}_3(\text{g})$ Biết $\Delta_f H_{298}^0$ (kJ.mol⁻¹) của SO_2 và SO_3 lần lượt là -296,83 và -395,72. Biến thiên enthalpy của phản ứng trên ở điều kiện chuẩn có giá trị là

- A. -98,89 kJ. B. -197,78 kJ. C. 98,89 kJ. D. 197,78 kJ

Phương pháp giải

Dựa vào công thức tính biến thiên enthalpy

Lời giải chi tiết

$$\begin{aligned} \Delta_r H_{298}^0 &= 2 \cdot \Delta_f H_{298}^0(\text{SO}_3) - 2 \cdot \Delta_f H_{298}^0(\text{SO}_2) - \Delta_f H_{298}^0(\text{O}_2) \\ &= 2 \cdot (-395,72) - 2 \cdot (-296,83) - 0 = -197,78 \text{ kJ} \end{aligned}$$

Đáp án B

Câu 18: Nhiệt tạo thành chuẩn của một chất là nhiệt lượng tạo thành 1 mol chất đó từ chất nào ở điều kiện chuẩn?

- A. những hợp chất bền vững nhất. B. những đơn chất bền vững nhất.
C. những oxide có hóa trị cao nhất. D. những dạng tồn tại bền nhất trong tự nhiên.

Câu 19: Phản ứng nào sau đây là phản ứng tỏa nhiệt?

- A. Phản ứng nhiệt phân muối KNO_3 . B. Phản ứng phân hủy khí NH_3 .
C. Phản ứng oxi hoá glucose trong cơ thể. D. Phản ứng hoà tan NH_4Cl trong

Câu 20: Cho các phát biểu:

- (a) Biến thiên enthalpy chuẩn của một phản ứng hóa học là lượng nhiệt kèm theo phản ứng đó ở áp suất 1 atm và 25° C.
(b) Nhiệt (tỏa ra hay thu vào) kèm theo một phản ứng được thực hiện ở 1 bar và 298 K là biến thiên enthalpy chuẩn của phản ứng đó.
(c) Một số phản ứng khi xảy ra làm môi trường xung quanh nóng lên là phản ứng thu nhiệt.
(d) Một số phản ứng khi xảy ra làm môi trường xung quanh lạnh đi là do các phản ứng này thu nhiệt và lấy nhiệt từ môi trường.

Số phát biểu đúng là

- A. 2. B. 3. C. 4. D. 1.

Loigiaihay.com

Loigiaihay.com

Loigiaihay.com

Loigiai

Loigiaihay.com

Loigiaihay.com

Loigiaiha

Loigiaihay.com