

Họ và tên:

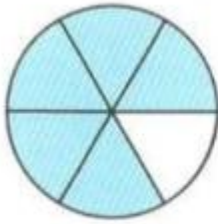
Lớp:

ĐỀ KIỂM TRA HỌC KÌ 2 – ĐỀ 1**Môn: Toán – Lớp 4****Bộ sách: Cánh diều**

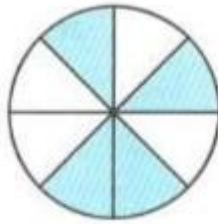
Thời gian làm bài: 40 phút

I. TRẮC NGHIỆM

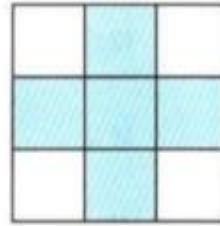
(Khoanh vào chữ đặt trước câu trả lời đúng)

Câu 1. Đã tô màu $\frac{5}{8}$ hình nào dưới đây?

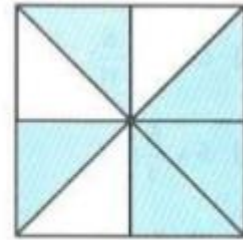
A



B



C



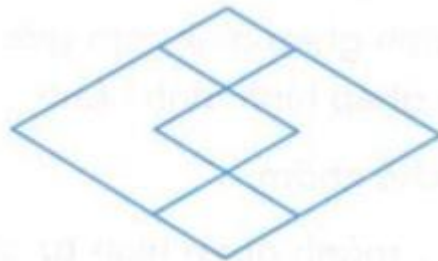
D

Câu 2. Giá trị của chữ số 5 trong số 159 823 964 là:

- A. 500 000 000 B. 50 000 000 C. 5 000 000 D. 500 000

Câu 3. Số thích hợp điền vào chỗ chấm $3 \text{ dm}^2 25 \text{ mm}^2 = \dots\dots\dots \text{ mm}^2$ là:

- A. 325 B. 3 250 C. 30 250 D. 30 025

Câu 4. Hình vẽ dưới đây có:

- A. 4 hình thoi B. 5 hình thoi C. 6 hình thoi D. 7 hình thoi

Câu 5. Một xe ô tô đi 80 km hết 5 lít xăng. Biết giá bán một lít xăng là 22 500 đồng. Hỏi đi hết 304 km cần phải trả bao nhiêu tiền xăng?

- A. 427 500 đồng B. 360 000 đồng C. 450 000 đồng D. 337 500 đồng

Câu 6. Bác An có một mảnh vườn, bác sử dụng $\frac{2}{7}$ diện tích để trồng rau, $\frac{9}{14}$ diện tích đào ao, diện tích còn lại để làm lối đi. Hỏi bác An đã dành bao nhiêu phần diện tích mảnh vườn để làm lối đi?

- A. $\frac{13}{14}$ diện tích B. $\frac{3}{14}$ diện tích C. $\frac{1}{14}$ diện tích D. $\frac{5}{14}$ diện tích

II. TỰ LUẬN

Câu 1. Đặt tính rồi tính.

7 102 x 19

23 625 : 75

.....

.....

.....

.....

.....

.....

Câu 2. Tính

$\frac{5}{24} + \frac{3}{4} =$

$4 - \frac{5}{8} =$

$\frac{7}{12} \times \frac{9}{14} =$

$\frac{4}{13} : \frac{5}{6} =$

Câu 3. Cho biểu đồ sau:



Biểu đồ trên chỉ số quyển sách mà các bạn Bình, An, Minh, Hòa đã đọc trong 1 năm. Quan sát biểu đồ và điền số thích hợp vào chỗ trống:

- a) Bạn Minh đã đọc quyển sách.
- b) Trung bình mỗi bạn đọc được quyển sách trong 1 năm.

Câu 4. Lớp 4A có 38 học sinh. Mỗi học sinh đóng 20 000 đồng tiền quỹ lớp. Cả lớp thống nhất dùng $\frac{5}{8}$ số tiền đó để mua sách vở giúp đỡ các bạn có hoàn cảnh khó khăn. Hỏi khi đó quỹ lớp 4A còn lại bao nhiêu tiền?

.....

.....

.....

.....

Câu 5. Tính bằng cách thuận tiện.

$$\frac{5}{9} \times \frac{8}{17} + \frac{4}{9} \times \frac{8}{17}$$

$$\frac{7}{9} \times \frac{11}{13} \times \frac{27}{7} \times \frac{26}{11}$$

.....

.....

.....

.....