

Họ và tên:

Lớp:

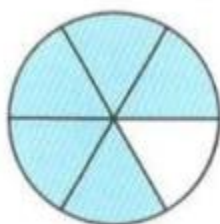
Môn: Toán – Lớp 4

Bộ sách: Kết nối tri thức

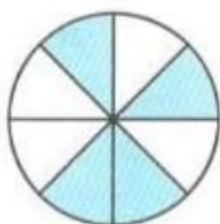
Thời gian làm bài: 40 phút

I. TRẮC NGHIỆM

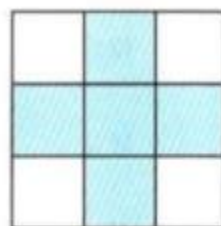
(Khoanh vào chữ đặt trước câu trả lời đúng)

Câu 1. Đã tô màu $\frac{5}{8}$ hình nào dưới đây?

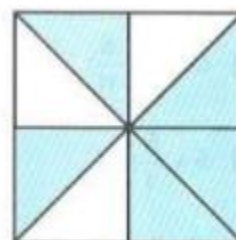
A



B



C



D


Câu 2. Phân số thích hợp điền vào chỗ trống $\frac{7 \times 5 \times 11 \times 3}{11 \times 5 \times 9 \times 7} = \frac{\dots}{\dots}$ là:A. $\frac{1}{2}$ B. $\frac{7}{11}$ C. $\frac{5}{7}$ D. $\frac{1}{3}$ **Câu 3.** Giá trị của chữ số 5 trong số 159 823 964 là:

A. 500 000 000

B. 50 000 000

C. 5 000 000

D. 500 000

Câu 4. Hình vẽ dưới đây có:

A. 4 hình thoi

B. 5 hình thoi

C. 6 hình thoi

D. 7 hình thoi

Câu 5. Hiền mua một cuốn sách khoa học. Hiền tính nếu mỗi ngày đọc 15 trang sách thì trong 2 tuần sẽ đọc xong cuốn sách đó. Vậy nếu mỗi ngày Hiền đọc thêm 6 trang sách nữa thì sẽ đọc xong cuốn sách đó trong thời gian là:

A. 10 ngày

B. 8 ngày

C. 9 ngày

D. 7 ngày

Câu 6. Bác An có một mảnh vườn, bác sử dụng $\frac{2}{7}$ diện tích để trồng rau, $\frac{9}{14}$ diện tích đào ao, diện tích còn lại để làm lối đi. Hỏi bác An đã dành bao nhiêu phần diện tích mảnh vườn để làm lối đi?A. $\frac{13}{14}$ diện tíchB. $\frac{3}{14}$ diện tíchC. $\frac{1}{14}$ diện tíchD. $\frac{5}{14}$ diện tích

II. TỰ LUẬN

Câu 1. Đặt tính rồi tính.

7 102 x 19

23 625 : 75

.....

.....

.....

.....

.....

.....

Câu 2. Tính

$\frac{5}{24} + \frac{3}{4} =$

$4 - \frac{5}{8} =$

$\frac{7}{12} \times \frac{9}{14} =$

$\frac{4}{13} : \frac{5}{6} =$

Câu 3. Cho biểu đồ sau:



Biểu đồ trên chỉ số quyển sách mà các bạn Bình, An, Minh, Hòa đã đọc trong 1 năm. Quan sát biểu đồ và điền số thích hợp vào chỗ trống:

- a) Bạn Minh đã đọc quyển sách.
- b) Trung bình mỗi bạn đọc được quyển sách trong 1 năm.

Câu 4. Lớp 4A có 38 học sinh. Mỗi học sinh đóng 20 000 đồng tiền quỹ lớp. Cả lớp thống nhất dùng $\frac{5}{8}$ số tiền đó để mua sách vở giúp đỡ các bạn có hoàn cảnh khó khăn. Hỏi khi đó quỹ lớp 4A còn lại bao nhiêu tiền?

.....

.....

.....

.....

Câu 5. Tính bằng cách thuận tiện.

$$\frac{5}{9} \times \frac{8}{17} + \frac{4}{9} \times \frac{8}{17}$$

$$\frac{7}{9} \times \frac{11}{13} \times \frac{27}{7} \times \frac{26}{11}$$

.....

.....

.....

.....