

## ĐỀ THI HỌC KÌ II – Đề số 2

Môn: Hóa học - Lớp 11

Bộ sách Cánh diều

BIÊN SOẠN: BAN CHUYÊN MÔN LOIGIAIHAY.COM



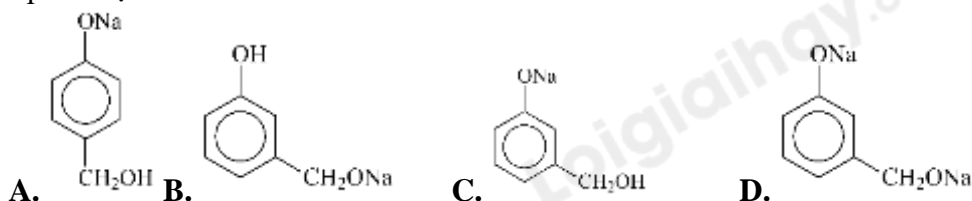
## Mục tiêu

- Ôn tập lý thuyết toàn bộ học kì II của chương trình sách giáo khoa Hóa 11 – Cánh diều.
- Vận dụng linh hoạt lý thuyết đã học trong việc giải quyết các câu hỏi trắc nghiệm và tự luận Hóa học.
- Tổng hợp kiến thức dạng hệ thống, dần trải tất cả các chương của học kì II – chương trình Hóa học 11.

## I. Trắc nghiệm

**Câu 1:** Thủy phân dẫn xuất halogen nào sau đây sẽ thu được alcohol ?(1)  $\text{CH}_3\text{CH}_2\text{Cl}$ . (2)  $\text{CH}_3\text{CH}=\text{CHCl}$ . (3)  $\text{C}_6\text{H}_5\text{CH}_2\text{Cl}$ . (4)  $\text{C}_6\text{H}_5\text{Cl}$ .

A. (1), (3).      B. (1), (2), (3).      C. (1), (2), (4).      D. (1), (2), (3), (4).

**Câu 2:** Hợp chất nào sau đây là alcohol bậc một, no, đơn chức, mạch hở?A.  $\text{CH}_2=\text{CH}-\text{CH}_2\text{OH}$ .      B.  $(\text{CH}_3)_2\text{CH}-\text{CH}_2\text{OH}$ .      C.  $\text{C}_6\text{H}_5\text{CH}_2\text{OH}$ .      D.  $(\text{CH}_3)_2\text{CHOH}$ .**Câu 3:** Alcohol nào sau đây khi tách nước tạo thành hai alkene?A.  $\text{CH}_3\text{CH}_2\text{OH}$ .      B.  $\text{CH}_3-\text{CHOH}-\text{CH}_3$ .C.  $\text{CH}_3-\text{CHOH}-\text{CH}_2\text{CH}_3$ .      D.  $\text{CH}_3\text{OH}$ .**Câu 4:** Cho chất sau đây  $m\text{-HO}-\text{C}_6\text{H}_4-\text{CH}_2\text{OH}$  (hợp chất chứa nhân thơm) tác dụng với dung dịch NaOH dư. Sản phẩm tạo ra là**Câu 5:** Cho sơ đồ biến hóa:  $\text{C}_6\text{H}_6 \rightarrow \text{X} \rightarrow \text{C}_6\text{H}_5\text{OH} \rightarrow \text{Y} \rightarrow \text{C}_6\text{H}_5\text{OH}$ . X, Y lần lượt có thể làA.  $\text{C}_6\text{H}_5\text{Cl}$ ,  $\text{C}_6\text{H}_5\text{ONa}$       B.  $\text{C}_6\text{H}_5\text{Cl}$ ,  $\text{C}_6\text{H}_5\text{NH}_2$ C.  $\text{C}_6\text{H}_5\text{NH}_2$ ,  $\text{C}_6\text{H}_5\text{COOH}$       D.  $\text{C}_6\text{H}_5\text{Br}$ ,  $\text{C}_6\text{H}_5\text{CO}$ **Câu 6:** Acetaldehyde thể hiện tính oxi hóa trong phản ứng nào sau đây?A.  $\text{CH}_3\text{CHO} + \text{H}_2 \xrightarrow{\text{Ni}, t^\circ} \text{CH}_3\text{CH}_2\text{OH}$ B.  $2\text{CH}_3\text{CHO} + 5\text{O}_2 \xrightarrow{t^\circ} 4\text{CO}_2 + 4\text{H}_2\text{O}$ C.  $\text{CH}_3\text{CHO} + \text{Br}_2 + \text{H}_2\text{O} \rightarrow \text{CH}_3\text{COOH} + 2\text{HBr}$ D.  $\text{CH}_3\text{CHO} + 2\text{Ag}(\text{NH}_3)_2\text{OH} \rightarrow \text{CH}_3\text{COONH}_4 + 2\text{Ag} + 3\text{NH}_3 + \text{H}_2\text{O}$ **Câu 7:** Cho 1,97 gam dung dịch formalin tác dụng với lượng dư dung dịch  $\text{AgNO}_3$  trong  $\text{NH}_3$  thu được 10,8 gam Ag. Nồng độ % của formaldehyde trong fomalin là

A. 49%.      B. 40%.      C. 50%.      D. 38,07%.

**Câu 8:** Hợp chất X có công thức cấu tạo:  $(\text{CH}_3)_2\text{CHCH}_2\text{COOH}$ . Tên của X là

A. 2 – methylpropanoic acid.

B. 2 – methylbutanoic acid.

C. 3 – methylbutanoic acid.

D. 3 – methylbutan – 1 – oic acid.

**Câu 9:** Giấm ăn được dùng phổ biến trong chế biến thực phẩm, có chứa acetic acid với hàm lượng 4 – 8% về thể tích. Một chai giấm ăn thể tích 500 mL có hàm lượng acetic acid là 5%, thể tích acetic acid có trong chai giấm ăn đó là

A. 5 mL

B. 25 mL

C. 50 mL

D. 100 mL

**Câu 10:** Tên thông thường của  $\text{CH}_2=\text{CH}-\text{CHO}$  là

A. acetic aldehyde.

C. benzoic aldehyde.

B. acrylic aldehyde.

D. propionic aldehyde.

**Câu 11:** Cho các hydrocarbon: (1)  $\text{CH}_2=\text{C}(\text{CH}_3)\text{CH}_2\text{CH}_3$ ; (2)  $(\text{CH}_3)_2\text{C}=\text{CHCH}_3$ ; (3)  $\text{CH}_2=\text{C}(\text{CH}_3)\text{CH}=\text{CH}_2$ ; (4)  $(\text{CH}_3)_2\text{CHC}\equiv\text{CH}$ . Những hydrocarbon nào phản ứng với HBr sinh ra sản phẩm chính là 2-bromo-2-methylbutane?

A. (1) và (2).

B. (2) và (4).

C. (1) và (3).

D. (3) và (4).

**Câu 12:** Cho các chất sau: acetylene; methyl acetylene, ethyl acetylene và dimethyl acetylene. Số chất tạo thành kết tủa khi tác dụng với dung dịch  $\text{AgNO}_3$  trong  $\text{NH}_3$  là

A. 1.

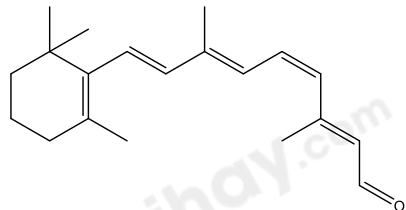
B. 2.

C. 3.

D. 4.

## II. Lựa chọn đáp án đúng, sai

**Câu 1:** Hợp chất Y: 11 - cis - retinal cần thiết cho khả năng nhìn của mắt. Hợp chất Y có công thức cấu tạo như sau:

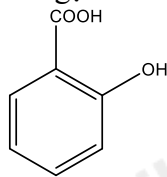


(a) Hợp chất Y thuộc hợp chất ketone

(b) 1 mol hợp chất Y phản ứng với thuốc thử Tollens tạo ra 2 mol Ag

(c) Khử hoàn toàn Y bằng  $\text{LiAlH}_4$  thu được alcohol bậc 2

(d) Y có phản ứng với  $\text{Cu}(\text{OH})_2/\text{OH}^-$  tạo hết tủa đỏ gạch.



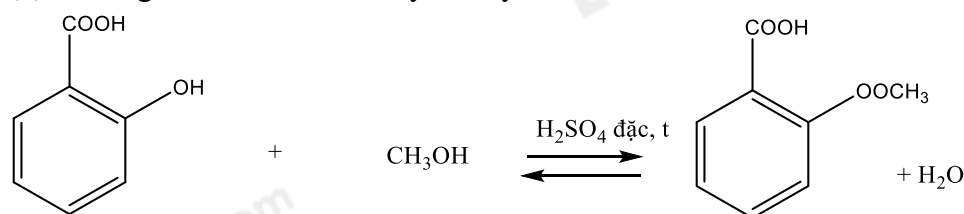
**Câu 2:** Salicylic acid có công thức cấu tạo sau:

làm nguyên liệu để tổng hợp methyl salicylate

được dùng làm cao dán giảm đau, kháng viêm ngoài ra.

(a) Phản ứng tổng hợp methyl salicylate thuộc phản ứng ester hóa.

(b) Phương trình điều chế methyl salicylate:



(c) Salicylic acid phản ứng với NaOH theo tỉ lệ mol 1:2

(d) Công thức phân tử salicylic acid là  $\text{C}_7\text{H}_5\text{O}_3$ .

**Câu 3:** Cho các phát biểu về tính chất của phenol như sau:

(a) Phenol có tính acid mạnh hơn ethanol vì nhân benzene hút electron của nhóm  $-\text{OH}$  bằng hiệu ứng liên hợp, trong khi nhóm  $-\text{C}_2\text{H}_5$  lại đẩy electron vào nhóm  $-\text{OH}$ .

(b) Phenol có tính acid mạnh hơn ethanol và được minh hoạt bằng phản ứng phenol tác dụng với dung dịch NaOH còn  $\text{C}_2\text{H}_5\text{OH}$  thì không.

(c) Tính acid của phenol yếu hơn  $\text{H}_2\text{CO}_3$  vì sục  $\text{CO}_2$  vào dung dịch  $\text{C}_6\text{H}_5\text{ONa}$  ta sẽ được  $\text{C}_6\text{H}_5\text{OH}$ .

(d) Phenol trong nước cho môi trường acid, làm quỳ tím hóa đỏ.

**Câu 4:** Cho các phát biểu về alkane:

(a) Trong phân tử alkane chỉ chứa liên kết đơn

(b) Chỉ có các alkane là chất khí ở điều kiện thường được dùng làm nhiên liệu.

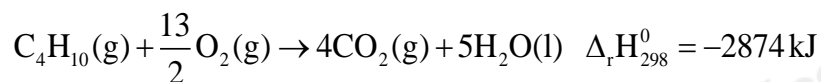
(c) Các alkane lỏng được dùng sản xuất xăng, dầu và làm dung môi.

(d) Các alkane rắn được dùng làm nến, nhựa đường, nguyên liệu cho quá trình cracking.

## III. Tự luận

**Câu 1:** Một mẫu khí gas X chứa hỗn hợp propane và butane.

Cho các phản ứng:  $C_3H_8(g) + 5O_2(g) \rightarrow 3CO_2(g) + 4H_2O(l)$   $\Delta_r H_{298}^0 = -2220 \text{ kJ}$



Đốt cháy hoàn toàn 12 gam mẫu khí gas X tỏa ra nhiệt lượng 597,6 kJ. Xác định tỉ lệ số mol của propane và butane trong X.

**Câu 2:** Picric acid (2,4,6 - trinitrophenol) trước đây được sử dụng làm thuốc nổ. Để tổng hợp picric acid, người ta cho 14,1 g phenol phản ứng với hỗn hợp  $HNO_3$  đặc/ $H_2SO_4$  đặc, dư. Tính khối lượng picric acid thu được, biết hiệu suất phản ứng là 60%.

**Câu 3:** Trộn 20 mL ethanol với 20 mL acetic acid, thêm 10 mL  $H_2SO_4$  đặc rồi tiến hành phản ứng ester hóa. Sau một thời gian, thu được 17,6 g ester. Tính hiệu suất phản ứng ester, biết khối lượng riêng của ethanol và acetic acid lần lượt là 0,789 g/mL và 1,05 g/mL.

Loigiaihay.com

Loigiaihay.com

Loigiaihay.com

Loigiai

Loigiaihay.com

Loigiaihay.com

Loigiaiha

Loigiaihay.com