

## ĐỀ KIỂM TRA HỌC KÌ 2 – ĐỀ 4

Họ và tên: .....

Lớp: .....

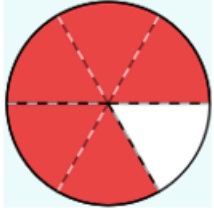
Môn: Toán – Lớp 4

Bộ sách: Kết nối tri thức

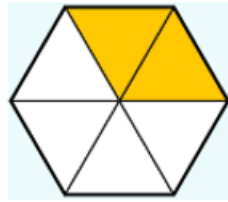
Thời gian làm bài: 40 phút

## I. TRẮC NGHIỆM (Khoanh vào chữ đặt trước câu trả lời đúng)

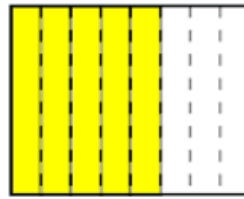
**Câu 1.** Đã tô màu  $\frac{5}{8}$  hình nào dưới đây?



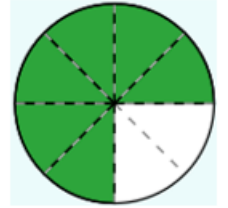
Hình 1



Hình 2



Hình 3



Hình 4

A. Hình 1

B. Hình 2

C. Hình 3

D. Hình 4

**Câu 2.** Phân số nào không bằng phân số  $\frac{15}{27}$  ?

A.  $\frac{10}{18}$ B.  $\frac{5}{9}$ C.  $\frac{20}{36}$ D.  $\frac{28}{54}$ 

**Câu 3.** Cô Hoa nhập về cửa hàng 7 tạ vải thiều đựng trong 35 thùng như nhau. Cô đã bán được 18 thùng vải thiều. Vậy khối lượng vải thiều cô Hoa còn lại là:

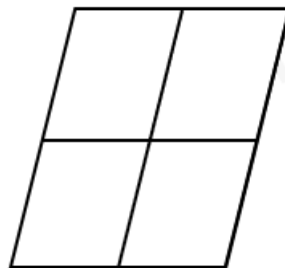
A. 360 kg

B. 340 kg

C. 630 kg

D. 240 kg

**Câu 4.** Có bao nhiêu hình bình hành trong hình dưới đây:



A. 4 hình

B. 5 hình

C. 9 hình

D. 10 hình

**Câu 5.** An có 18 viên bi, Bình có 16 viên bi, Hùng có số viên bi bằng trung bình cộng số bi của An và Bình. Hỏi Hùng có bao nhiêu viên bi ?

A. 12 viên bi

B. 34 viên bi

C. 17 viên bi

D. 24 viên bi

**Câu 6.** Một sân trường có chiều dài 120m, chiều rộng bằng  $\frac{5}{6}$  chiều dài. Tính diện tích của sân trường đó.

A. 12 000 m<sup>2</sup>

B. 100 m<sup>2</sup>

C. 4 400 m<sup>2</sup>

D. 220 m<sup>2</sup>

**II. TỰ LUẬN**

**Câu 1.** Tính

a)  $\frac{3}{34} + \frac{4}{17} = \dots\dots\dots$

b)  $\frac{7}{12} \times \frac{4}{3} = \dots\dots\dots$

c)  $\frac{5}{9} - \frac{2}{5} = \dots\dots\dots$

d)  $\frac{7}{13} : 2 = \dots\dots\dots$

**Câu 2.** Tìm giá trị của ? biết rằng:

a)  $(? + 686) \times 14 = 13\ 146$

b)  $? \times 34 - 1\ 995 = 71\ 581$

.....  
 .....  
 .....  
 .....  
 .....

**Câu 3.** Một tấm bìa hình chữ nhật có chiều dài là  $\frac{1}{5}$  m, chiều rộng là  $\frac{1}{6}$  m. Chia tấm bìa đó ra làm 3 phần bằng nhau. Tính diện tích của mỗi phần.

.....  
 .....  
 .....  
 .....  
 .....

**Câu 4.** Hiền có một cuốn sách. Hiền tính nếu mỗi ngày đọc 10 trang thì trong 4 tuần sẽ đọc xong cuốn sách đó. Vậy nếu mỗi ngày Hiền đọc thêm 4 trang sách nữa thì sẽ đọc xong cuốn sách đó trong thời gian là:

.....  
 .....  
 .....  
 .....

.....  
.....  
.....  
.....  
.....

**Câu 5.** Tính bằng cách thuận tiện:

a)  $\frac{1}{2} \times \frac{12}{13} + \frac{1}{3} \times \frac{12}{13} + \frac{1}{4} \times \frac{12}{13}$

b)  $\frac{1717}{3636} \times \frac{181818}{343434}$

.....  
.....  
.....  
.....  
.....