

## ĐỀ THI HỌC KÌ I – ĐỀ SỐ 4

Môn: Hóa học 12

BIÊN SOẠN: BAN CHUYÊN MÔN LOIGIAIHAY.COM



### Mục tiêu

- Ôn tập lý thuyết toàn bộ giữa học kì I của chương trình sách giáo khoa Hóa học 12 3 bộ sách
- Vận dụng linh hoạt lý thuyết đã học trong việc giải quyết các câu hỏi trắc nghiệm và tự luận Hóa 12.
- Tổng hợp kiến thức dạng hệ thống, dàn trải tất cả các chương của học kì I – chương trình Hóa 12.

### Phần 1. Trắc nghiệm nhiều đáp án lựa chọn.

**Câu 1.** Amine  $\text{CH}_3 - \text{CH}_2 - \text{NH} - \text{CH}_3$  có tên gọi và bậc là

- A. propan – 1 – amine, bậc I  
 B. ethylmethyamine, bậc II  
 C. propan – 2 – amine, bậc II  
 D. N – methylethanamine bậc II

**Câu 2.** Tính lưỡng tính của amino acid thể hiện qua phản ứng với

- A. acid mạnh, base mạnh  
 B. amino acid tạo polymer  
 C. alcohol tạo ester  
 D. kim loại kiềm

**Câu 3.** Cao su buna – S thuộc loại nào sau đây?

- A. Cao su thiên nhiên được lưu hóa.  
 B. Cao su buna đã lưu hóa  
 C. Cao su tổng hợp, sản phẩm trùng hợp iroprene.  
 D. Cao su tổng hợp, sản phẩm đồng trùng hợp buta – 1,3 – diene và styrene.

**Câu 4.** Cho các phát biểu sau:

- a) Xà phòng là muối của acid với sodium hoặc potassium  
 b) Khi làm ô mai sấu, quất,... người ta ngâm những loại quả này vào nước vôi trong để trung hòa acid.  
 c) Ester có nhiệt độ sôi thấp hơn acid tương ứng do không tạo liên kết hydrogen.  
 d) Xà phòng hóa chất béo thu được muối và alcohol.  
 e) Có thể phân biệt glucose và fructose bằng dung dịch bromine.  
 g) Dung dịch của aminoacetic acid làm quỳ tím chuyển đỏ.

Số phát biểu đúng là

- A. 5  
 B. 6  
 C. 4  
 D. 3

**Câu 5.** Xà phòng hoá hoàn toàn 34,48 gam chất béo cần vừa đủ 0,12 mol KOH. Lấy muối thu được đem sản xuất xà phòng. Khối lượng xà phòng (chứa 80% muối) sản xuất được có giá trị bằng bao nhiêu gam?

- A. 40  
 B. 46,9  
 C. 58,2  
 D. 104,43

**Câu 6.** Các chất sau, chất nào **không** phản ứng với  $\text{Cu}(\text{OH})_2$  ở điều kiện thường?

- A. Lys-Gly-Val-Ala.  
 B. Glycerol.  
 C. Ala-Ala.  
 D. Saccharose.

**Câu 7.** Cho các chất sau: saccharose, glucose, ethyl formate, Ala-Gly-Ala. Số chất tham gia phản ứng thủy phân là

- A. 1.  
 B. 4.  
 C. 3.  
 D. 2.

**Câu 8.** Loại polymer nào sau đây được điều chế bằng phản ứng trùng ngưng?

- A. PET  
 B. PVC  
 C. Teflon  
 D. Cao su buna

**Câu 9.** Trong các chất sau: ethanol, methyl acetate, acetic acid, tripalmitin, cặp chất nào sau đây phản ứng được với dung dịch NaOH nhưng không phản ứng với Na?

- A. ethanol, methyl acetate  
 B. methyl acetate, acetic acid.  
 C. methyl acetate, acetic acid  
 D. methyl acetate, tripalmitin

**Câu 10.** Poly(methyl methacrylate) (PMMA) cho ánh sáng truyền qua 90% nên được sử dụng làm thủy tinh hữu cơ. Thực hiện phản ứng trùng hợp monomer nào sau đây thu được PMMA?

- A.  $\text{CH}_2=\text{CH}(\text{CH}_3)\text{COOCH}_3$   
 B.  $\text{CH}_2=\text{CHCOOH}$   
 C.  $\text{CH}_2=\text{CHC}_6\text{H}_5$   
 D.  $\text{CH}_2=\text{CHCl}$

**Câu 11.** Cao su buna – S (hay còn gọi là cao su SBR) là loại cao su tổng hợp được sử dụng rất phổ biến, ước tính 50% lốp xe được làm từ SBR. Thực hiện phản ứng trùng hợp các chất nào dưới đây thu được sản phẩm là cao su buna – S?

- A.  $\text{CH}_2=\text{CHCH}=\text{CH}_2$  và  $\text{C}_6\text{H}_5\text{CH}=\text{CH}_2$   
 B.  $\text{CH}_2=\text{CHCH}=\text{CH}_2$  và sulfur  
 C.  $\text{CH}_2=\text{CHCH}=\text{CH}_2$  và  $\text{CH}_2=\text{CHCl}$   
 D.  $\text{CH}_2=\text{CHCH}=\text{CH}_2$  và  $\text{CH}_2=\text{CHCN}$

**Câu 12.** Tơ tằm, sợi bông, len thuộc loại tơ nào sau đây?

- A. Tơ tự nhiên  
 B. Tơ tổng hợp  
 C. Tơ bán tổng hợp  
 D. Tơ nhân tạo

**Câu 13.** Tơ visco thuộc loại

- A. polymer trùng ngưng  
 B. polymer bán tổng hợp  
 C. polymer thiên nhiên  
 D. polymer tổng hợp

**Câu 14.** Phát biểu nào sau đây là bản chất của sự lưu hóa cao su?

- A. Làm cao su dễ ăn khuôn  
 B. Giảm giá thành cao su  
 C. Tạo cầu nối disulfide giữa các mạch phân tử cao su làm cho chúng tạo mạng không gian.  
 D. Tạo loại cao su nhẹ hơn.

**Câu 15.** Nylon – 6,6 thuộc loại tơ nào sau đây?

- A. Tơ polyester  
 B. Tơ tổng hợp  
 C. Tơ bán tổng hợp  
 D. Tơ thiên nhiên

**Câu 16.** Loại polymer thiên nhiên nào có thành phần chính là cellulose.

- A. Bông  
 B. Tơ tằm  
 C. Len  
 D. Cao su thiên nhiên

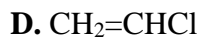
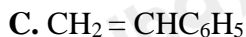
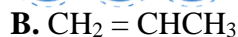
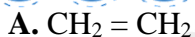
**Câu 17.** Kết quả thí nghiệm của chất X, Y, Z, T với các thuốc thử được ghi ở bảng sau:

Chất	Thuốc thử	Hiện tượng
X	Quỳ tím	Quỳ tím chuyển sang màu xanh
Y	Dung dịch NaOH, đun nhẹ, để nguội	Dung dịch có sự tách lớp
Z	$\text{AgNO}_3/\text{NH}_3$ , đun nóng	Tạo kết tủa Ag.
T	Nước bromine	Tạo kết tủa trắng

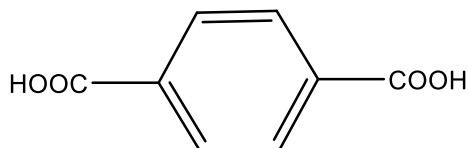
Các chất X, Y, Z, T lần lượt là:

- A. Methyamine, methyl ammonium chloride, glucose, phenol.  
 B. Ammonia, phenyl ammonium chloride, fructose, phenol.  
 C. Anilin, phenyl ammonium chloride, glucose, phenol.  
 D. Methyl amine, triolein, fructose, aniline.

**Câu 18.** LDPE là một chất dẻo dễ tạo màng, có tính dai bền nên được sử dụng làm túi nylon, màng bọc, bao gói thực phẩm. LDPE được tổng hợp từ monomer nào sau đây?

**Phần 2. Câu hỏi đúng sai**

**Câu 1.** Poly(butylene adipate terephthalate) (PBAT) là một polymer có khả năng phân hủy sinh học, có tên thương mại là Ecoflex. PBAT có đặc tính tương tự như polyethylene có mật độ thấp (LDPE) nên nó được sử dụng làm túi nylon, bao bì thực phẩm phân hủy sinh học. PBAT được điều chế từ ba monomer sau đây:



- a) PBAT thuộc loại polyester.  
 b) Phản ứng tổng hợp PBAT thuộc loại phản ứng trùng hợp.  
 c) Một mắt xích PBAT gồm 3 nhóm ester.  
 d) Túi nylon làm từ PBAT thân thiện môi trường hơn so với LDPE.

**Câu 2.** Tơ visco được sản xuất phổ biến từ dầu thế kỉ XX, là một loại chất liệu được làm từ bột gỗ của cây như tre, đậu nành, mía, ..., qua quá trình xử lí hóa học được sợi visco. Sợi visco thấm hút mồ hôi và thoáng khí, mềm mại nên rất phổ biến trong việc sản xuất quần áo, đặc biệt là trang phục mùa hè vì nó giúp người mặc cảm thấy mát mẻ và thoải mái. Những phát biểu nào sau đây là đúng?

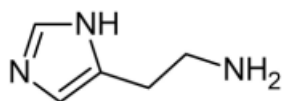
- (a) Tơ visco thuộc loại tơ thiên nhiên.  
 (b) Tơ visco thuộc loại tơ bán tổng hợp.  
 (c) Sợi visco có thành phần chính là cellulose đã được xử lí hóa chất.  
 (d) Tơ là vật liệu polymer hình sợi, dài, mảnh, có độ bền nhất định, mạch không nhánh.

**Câu 3.** Đun nóng hỗn hợp gồm ethanol, propanoic acid hoặc sulfuric acid đặc trong điều kiện thích hợp để tổng hợp ester. Sau một thời gian phản ứng thu được hỗn hợp X. Tiến hành điều chế E từ X biết

Chất	Khối lượng riêng ở 25°C (g mL <sup>-1</sup> )	Độ tan ở 25°C (g/100 g nước)	Nhiệt độ sôi (°C)
H <sub>2</sub> O	1,00	100	
CH <sub>3</sub> CH <sub>2</sub> OH	0,79	∞	78
CH <sub>3</sub> CH <sub>2</sub> COOH	0,99	∞	141
CH <sub>3</sub> CH <sub>2</sub> COOC <sub>2</sub> H <sub>5</sub>	0,89	2	99

- a. Ở phản ứng trên có sự tách -OH từ phân tử alcohol và -H từ phân tử acid.  
 b. Ghi phổ MS sẽ các định được khối lượng của E thu được từ thí nghiệm trên.  
 c. Nếu E là ester thì phổ IR của chất này sẽ có tín hiệu (vân phổ hay peak) hấp thụ đặc trưng của liên kết C=O và liên kết C-O, không có tín hiệu hấp thụ đặc trưng của liên kết O-H.  
 d. Nếu E là ester để tách được E ra khỏi hỗn hợp X, sử dụng phương pháp chiết sẽ phù hợp hơn phương pháp chưng cất.

**Câu 4.** Histamin là một amine sinh học có liên quan trong hệ miễn dịch cục bộ cũng như việc duy trì chức năng sinh lí của ruột và hoạt động như một chất dẫn truyền thần kinh cho não, tủy sống và tử cung. Công thức cấu tạo của histamine như hình dưới đây



- a. Trong phân tử histamine có chứa chức amine bậc một, hai, ba.  
 b. Trong phân tử histamine, nguyên tố carbon chiếm 54,54% về khối lượng  
 c. 1 mol histamine có thể phản ứng với 3 mol HCl.

d. Histamine là hợp chất có tính base.

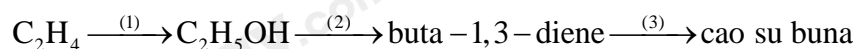
### Phần 3. Trả lời ngắn

**Câu 1.** Cho các polymer: polyethylene, polyacrylonitrile, protein, polystyrene, amylose, poly(vinyl chloride), poly(methyl methacrylate), poly(phenol-formaldehyde). Có bao nhiêu polymer được tổng hợp bằng phản ứng trùng hợp?

**Câu 2.** Cho 18 gam hỗn hợp X gồm methylamine, dimethylamine, diethylamine tác dụng vừa đủ với 200 ml dung dịch HCl 2M, sau khi phản ứng hoàn toàn thu được bao nhiêu gam muối?

**Câu 3.** Poly(methyl methacrylate) (PMMA) là một nhựa nhiệt dẻo trong suốt, thường được sử dụng ở dạng tấm, miếng như một vật liệu nhẹ, khó bẻ vỡ có thể được dùng để thay thế cho kính và thủy tinh. Monomer để tạo nên sản phẩm này chính là ester methyl methacrylate. Tiến hành tổng hợp 25 kg methyl methacrylate bằng cách cho lượng dư methyl alcohol tác dụng với 25,8 kg methacrylic acid. Hiệu suất của phản ứng ester hóa là bao nhiêu?

**Câu 4.** Trong công nghiệp để điều chế cao su buna người ta có thể đi từ nguyên liệu khí ethylene thu được từ dầu mỏ theo sơ đồ sau:



Tính số m<sup>3</sup> ethylene (ở 25°C và 1 bar) cần lấy để điều chế được 1 tấn cao su buna theo sơ đồ trên. Giả sử hiệu suất phản ứng của mỗi quá trình (1), (2) và (3) trong sơ đồ trên lần lượt là 60%, 55% và 80%.

Loigiaihay.com

Loigiaihay.com

Loigiaihay.com

Loigiai

Loigiaihay.com

Loigiaihay.com

Loigiaiha

Loigiaihay.com