

ĐỀ KIỂM TRA HỌC KÌ 1 – ĐỀ 4

Họ và tên:

Lớp:

Môn: Toán – Lớp 5

Bộ sách: Chân trời sáng tạo

Thời gian làm bài: 40 phút

I. TRẮC NGHIỆM (Khoanh vào chữ đặt trước câu trả lời đúng)

Câu 1. Hỗn số $4\frac{9}{100}$ được viết dưới dạng số thập phân là:

- A. 4,09 B. 4,99 C. 4,9 D. 4,009

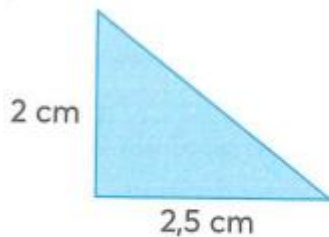
Câu 2. Số lớn nhất trong các số 180,29 ; 179,86 ; 180,3 ; 180,294 là:

- A. 180,29 B. 179,86 C. 180,3 D. 180,294

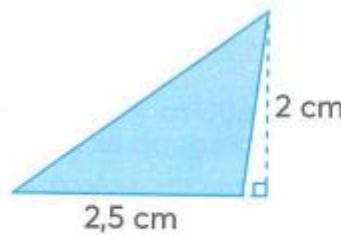
Câu 3. Kết quả của phép tính $522,3 : 1000$ là:

- A. 5,223 B. 0,5223 C. 522 300 D. 0,05223

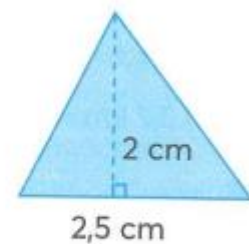
Câu 4.



Hình 1



Hình 2



Hình 3

- A. Hình 1 có diện tích lớn nhất B. Hình 2 có diện tích lớn nhất
C. Hình 3 có diện tích lớn nhất D. Ba hình có diện tích bằng nhau

Câu 5. Vào buổi chiều, Nam dành 0,2 giờ để đọc truyện và dành 0,75 giờ để chơi cùng em trai. Hỏi Nam đã dành bao nhiêu phút để đọc truyện và chơi cùng em trai?

- A. 60 phút B. 57 phút C. 55 phút D. 47 phút

Câu 6. Một mảnh đất dạng hình thang có độ dài hai đáy là 4,5 m và 5,4 m, chiều cao là 12 m. Diện tích của mảnh đất đó là:

- A. $291,6 \text{ m}^2$ B. $118,8 \text{ m}^2$ C. $59,4 \text{ m}^2$ D. $145,8 \text{ m}^2$

II. TỰ LUẬN

Câu 1. Tính giá trị biểu thức

a) $8,64 : (1,46 + 3,34) + 6,32$

b) $(2,34 + 0,87 - 1,5) \times 6 + 9,756$

.....

c) $7,5 + 6,5 + 5,5 + 4,5 + 3,5 + 2,5$

d) $96,28 \times 3,527 + 3,527 \times 3,72$

Câu 2. Viết số thập phân thích hợp điền vào chỗ trống là:

a) $3 \text{ km}^2 57690 \text{ m}^2 = \dots\dots\dots \text{ km}^2$

b) $4 \text{ tấn } 8 \text{ tạ} = \dots\dots\dots \text{ tấn}$

c) $230 \text{ dm}^2 = \dots\dots\dots \text{ m}^2$

d) $18,97 \text{ ha} = \dots\dots\dots \text{ km}^2$

Câu 3. Đường kính của một bánh xe đạp là 60 cm. Để người đi xe đạp đi được quãng đường 1884m thì mỗi bánh xe phải lăn bao nhiêu vòng?

Câu 4. Một vùng trồng lúa dạng hình chữ nhật có chiều rộng kém chiều dài 120 m. Chiều dài bằng $\frac{5}{3}$ chiều rộng.

a) Diện tích của vùng trồng lúa là bao nhiêu héc-ta?

b) Năng suất lúa trung bình của vùng này là 5,8 tấn trên mỗi héc-ta. Hỏi sản lượng lúa của cả vùng là bao nhiêu tấn?

Loigiaihay.com

Loigiaihay.com

Loigiaihay.com

Loigiai

Loigiaihay.com

Loigiaihay.com

Loigiaiha

Loigiaihay.com