

**ĐỀ KIỂM TRA HỌC KÌ 1 – ĐỀ 16**

Họ và tên: .....

Lớp: .....

**Môn: Toán – Lớp 3**

**Bộ sách: Kết nối tri thức**

*Thời gian làm bài: 40 phút*

**I. TRẮC NGHIỆM** (Khoanh vào chữ cái đặt trước câu trả lời đúng)

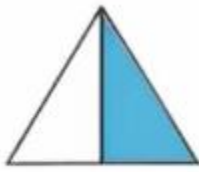
**Câu 1.** Điền vào chỗ chấm:  $64 : 8 = \dots$

- A. 5                      B. 6                      C. 7                      D. 8

**Câu 2.** Đã tô màu  $\frac{1}{4}$  của hình nào dưới đây?



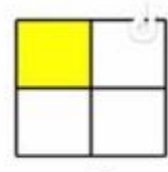
A



B



C



D

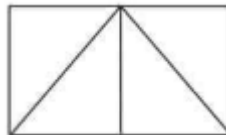
**Câu 3.** Giảm 108 đi 6 lần ta được số:

- A. 18                      B. 102                      C. 648                      D. 114

**Câu 4.** Giá trị của biểu thức  $(78 + 62) : 5$  là:

- A. 38                      B. 48                      C. 18                      D. 28

**Câu 5.** Số hình tam giác có trong hình bên là:



- A. 3                      B. 4                      C. 5                      D. 6

**Câu 6.** Có một nhóm du khách gồm 23 người đến đón ta-xi để đi, mỗi xe ta-xi chỉ chở tối đa 7 người.

Hỏi nhóm du khách đó cần đón ít nhất bao nhiêu xe ta-xi để chở hết số người đó?

- A. 3 xe                      B. 4 xe                      C. 5 xe                      D. 6 xe

**II. TỰ LUẬN**

**Câu 1.** Đặt tính rồi tính

- |                |                |                   |              |
|----------------|----------------|-------------------|--------------|
| a) $428 + 357$ | b) $783 - 568$ | c) $253 \times 3$ | d) $572 : 4$ |
| .....          | .....          | .....             | .....        |
| .....          | .....          | .....             | .....        |
| .....          | .....          | .....             | .....        |

**Câu 2.** Tìm thành phần chưa biết trong phép tính.

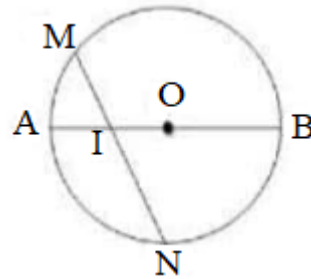
a)  $? \times 2 = 462$

b)  $? : 5 = 15$

.....  
 .....  
 .....

.....  
 .....  
 .....

**Câu 3.** Quan sát hình bên. Đúng ghi Đ, sai ghi S



- a) Hình tròn tâm O có bán kính là OA, OB .....  
 b) Đường kính dài gấp 2 lần bán kính .....  
 c) Hình tròn tâm O có đường kính là MN, AB .....  
 d) I là trung điểm của đoạn thẳng MN .....

**Câu 4.** Điền số thích hợp vào chỗ chấm

- a) Bạn An chia đều 84 hạt giống cho 4 tổ để trồng cây. Số hạt giống mỗi tổ nhận được là ..... hạt.
- b) Một hộp bánh có 12 cái bánh. 6 hộp bánh có..... cái bánh
- c) Nam cùng mẹ chuẩn bị đặt bánh pizza cho buổi tiệc sinh nhật sắp đến của mình. Có 34 bạn đến dự tiệc sinh nhật Nam. Cứ 3 bạn thì ăn hết 1 cái bánh. Nam cần đặt ít nhất..... cái bánh cho buổi tiệc.

**Câu 5.** Một giá sách có hai ngăn. Ngăn trên có 76 quyển sách, số sách ngăn dưới gấp 2 lần số sách ở ngăn trên. Hỏi cả hai ngăn có bao nhiêu quyển sách?

.....  
 .....  
 .....

Loigiaihay.com

Loigiaihay.com

Loigiaihay.com

Loigiai

Loigiaihay.com

Loigiaihay.com

Loigiaiha

Loigiaihay.com