

ĐỀ THI GIỮA HỌC KÌ II – Đề số 6

Môn: Toán học - Lớp 11

Bộ sách Cánh diều

BIÊN SOẠN: BAN CHUYÊN MÔN LOIGIAIHAY.COM



Mục tiêu

- Ôn tập lý thuyết giữa học kì II của chương trình sách giáo khoa Toán 11.
- Vận dụng linh hoạt lý thuyết đã học trong việc giải quyết các câu hỏi trắc nghiệm và tự luận Toán học.
- Tổng hợp kiến thức dạng hệ thống, dần trải tất cả các chương giữa học kì II – chương trình Toán 11.



HƯỚNG DẪN GIẢI CHI TIẾT

THỰC HIỆN: BAN CHUYÊN MÔN LOIGIAIHAY.COM

Phần I: Trắc nghiệm nhiều phương án lựa chọn (3 điểm)

1) A	2) D	3) C	4) C	5) B	6) B
7) A	8) C	9) D	10) C	11) C	12) B

Câu 1. Mệnh đề nào sau đây đúng?

- A. Số đo của góc nhị diện nhận giá trị từ 0° đến 180°
- B. Số đo của góc nhị diện nhận giá trị từ 90° đến 180°
- C. Số đo của góc nhị diện nhận giá trị từ 0° đến 90°
- D. Hai mặt phẳng cắt nhau tạo thành hai góc nhị diện

Phương pháp giải:

Dựa vào lý thuyết góc nhị diện.

Lời giải chi tiết:

Số đo của góc nhị diện nhận giá trị từ 0° đến 180° .

Đáp án A.

Câu 2. Cho hình chóp S.ABCD có đáy ABCD là hình bình hành. Mệnh đề nào sau đây đúng?

- A. $(SB,CD) = (SB,AD)$
- B. $(SB,CD) = (SC,CD)$
- C. $(SB,CD) = (SD,CD)$
- D. $(SB,CD) = (SB,AB)$

Phương pháp giải:

Nếu $a // b$ thì $(a,c) = (b,c)$.

Lời giải chi tiết:

Vì $AB \parallel CD$ nên $(SB, CD) = (SB, AB)$.

Đáp án D.

Câu 3. Trong không gian, cho 3 đường thẳng a, b, c phân biệt và mặt phẳng (P) . Mệnh đề nào sau đây đúng?

- A. Nếu $a \perp c$ và $b \perp c$ thì $a \parallel b$
- B. Nếu $a \perp b$ và $b \perp c$ thì $a \perp c$
- C. Nếu $a \perp b$ thì a và b cắt nhau hoặc chéo nhau
- D. Nếu $a \perp c$ và $(P) \perp c$ thì $a \parallel (P)$

Phương pháp giải:

Dựa vào quan hệ song song và vuông góc trong không gian.

Lời giải chi tiết:

Xét phương án A: Nếu $a \perp c$ và $b \perp c$ thì a, b có thể vuông góc, cắt nhau hoặc chéo nhau hoặc song song.

Vậy A sai.

Xét phương án B: Nếu $a \perp b$ và $b \perp c$ thì a, b có thể vuông góc, cắt nhau hoặc chéo nhau hoặc song song.

Vậy B sai.

Xét phương án C: Nếu $a \perp b$ thì a và b cắt nhau hoặc chéo nhau. Vậy C đúng.

Xét phương án D: Nếu $a \perp c$ và $(P) \perp c$ thì $a \parallel (P)$ hoặc $a \subset (P)$. Vậy A sai.

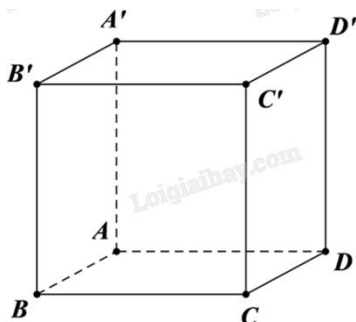
Đáp án C.

Câu 4. Cho hình lập phương $ABCD.A'B'C'D'$ có cạnh bằng a . Khoảng cách giữa hai mặt phẳng $(ABCD)$ và $(A'B'C'D')$ bằng

- A. $a\sqrt{2}$
- B. $\frac{a}{3}$
- C. a
- D. $\frac{a}{2}$

Phương pháp giải:

Đưa về tính khoảng cách từ một điểm đến một mặt phẳng.

Lời giải chi tiết:

Vì $(ABCD) \parallel (A'B'C'D')$ nên $d((ABCD), (A'B'C'D')) = d(A, (A'B'C'D'))$.

Mặt khác, A' là hình chiếu vuông góc của A lên $(A'B'C'D')$ nên $d(A, (A'B'C'D')) = AA'$.

Vậy $d((ABCD), (A'B'C'D')) = AA' = a$.

Đáp án C.

Câu 5. Thể tích khối chóp có diện tích đáy bằng B và chiều cao bằng h là

A. $V = \frac{1}{3} \pi B^2 h$

B. $V = \frac{1}{3} Bh$

C. $V = \frac{\pi}{3} Bh$

D. $V = Bh$

Phương pháp giải:

Áp dụng công thức tính thể tích khối chóp.

Lời giải chi tiết:

Thể tích khối chóp có diện tích đáy bằng B và chiều cao bằng h là $V = \frac{1}{3} Bh$.

Đáp án B.

Câu 6. Cho bảng khảo sát về chiều cao học sinh trong lớp:

Chiều cao (cm)	[150;160)	[160;167)	[167;170)	[170;175)	[175;180)
Số học sinh	12	18	8	3	1

Nhóm số liệu nào có độ dài bằng 7?

A. [150;160)

B. [160;167)

C. [167;170)

D. [170;175)

Phương pháp giải:

Tính độ dài của nhóm số liệu bằng cách lấy đầu mút phải trừ đầu mút trái.

Lời giải chi tiết:

Nhóm số liệu có độ dài bằng 7 là [160;167) vì $167 - 160 = 7$.

Đáp án B.

Câu 7. Xét phép thử gieo ngẫu nhiên một con xúc xắc đồng chất sáu mặt. Gọi A là biến cố: “Số chấm thu được là số chẵn”, B là biến cố: “Số chấm thu được là số không chia hết cho 4”. Hãy mô tả biến cố giao AB .

A. {2; 6}

B. {2; 4; 6}

C. {1; 2; 3; 5; 6}

D. $\{1; 2; 3\}$

Phương pháp giải:

Giao của hai tập hợp A và B là tập hợp chứa các phần tử vừa thuộc A, vừa thuộc B.

Lời giải chi tiết:

$$A = \{2; 4; 6\}; B = \{1; 2; 3; 5; 6\}.$$

$$\text{Vậy } AB = \{2; 6\}.$$

Đáp án A.

Câu 8. Cho A và \bar{A} là hai biến cố đối nhau. Chọn khẳng định đúng:

A. $P(A) = 1 + P(\bar{A})$

B. $P(A) = P(\bar{A})$

C. $P(A) = 1 - P(\bar{A})$

D. $P(A) + P(\bar{A}) = 0$

Phương pháp giải:

Áp dụng lý thuyết xác suất của biến cố đối.

Lời giải chi tiết:

$$\text{Ta có } P(A) + P(\bar{A}) = 1 \Leftrightarrow P(A) = 1 - P(\bar{A}).$$

Đáp án C.

Câu 9. Tập nghiệm S của bất phương trình $5^{x+2} < \left(\frac{1}{125}\right)^{-x}$ là

A. $S = (-\infty; 1)$

B. $S = (-\infty; 2)$

C. $S = (2; +\infty)$

D. $S = (1; +\infty)$

Phương pháp giải:

Đưa hai vế của bất phương trình về cùng cơ số.

Lời giải chi tiết:

$$5^{x+2} < \left(\frac{1}{125}\right)^{-x} \Leftrightarrow 5^{x+2} < (5^{-3})^{-x} \Leftrightarrow 5^{x+2} < 5^{3x} \Leftrightarrow x+2 < 3x \Leftrightarrow x > 1.$$

Đáp án D.

Câu 10. Tìm tập xác định D của hàm số $\log_2(x^2 - 2x - 3)$.

A. $D = (-\infty; -1] \cup [3; +\infty)$

B. $D = [-1; 3]$

C. $D = (-\infty; -1) \cup (3; +\infty)$

D. $D = (-1; 3)$

Phương pháp giải:

Điều kiện xác định của hàm $\log_a x$ là $x > 0$.

Lời giải chi tiết:

ĐKXĐ: $x^2 - 2x - 3 > 0 \Leftrightarrow \begin{cases} x > 3 \\ x < -1 \end{cases}$. Vậy $D = (-\infty; -1) \cup (3; +\infty)$.

Đáp án C.

Câu 11. Rút gọn biểu thức $P = x^2 \cdot \sqrt[3]{x}$, $x > 0$.

A. $P = x^{\frac{4}{3}}$

B. $P = x^{\frac{5}{3}}$

C. $P = x^{\frac{7}{3}}$

D. $P = x^{\frac{8}{3}}$

Phương pháp giải:

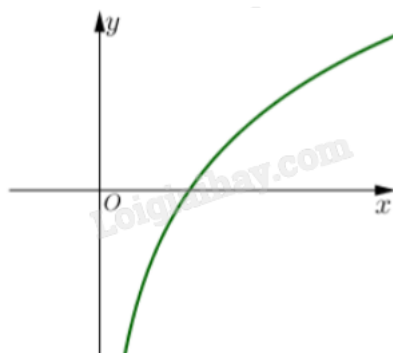
Áp dụng công thức $x^m \cdot x^n = x^{m+n}$, $\sqrt[b]{x^a} = x^{\frac{a}{b}}$.

Lời giải chi tiết:

$P = x^2 \cdot \sqrt[3]{x} = x^2 \cdot x^{\frac{1}{3}} = x^{2+\frac{1}{3}} = x^{\frac{7}{3}}$.

Đáp án C.

Câu 12. Hàm số nào sau đây có đồ thị như hình bên?



A. $y = \log_{\frac{1}{2}} x$

B. $y = \log_2 x$

C. $y = 2^x$

$$D. y = \left(\frac{1}{2}\right)^x$$

Phương pháp giải:

Dựa vào điểm đồ thị đi qua và xét sự đồng biến, nghịch biến.

Lời giải chi tiết:

Vì đồ thị hàm số đi qua điểm có tọa độ (1;0) và $x > 0$ nên đây là hàm số logarit có dạng $y = \log_a x$.

Đồ thị đi lên từ trái sang nên hàm số đồng biến trên $(0; +\infty)$. Do đó, $a > 1$.

Đáp án B.**Phần II: Trắc nghiệm đúng sai (2 điểm)**

1) ĐSSĐ	2) ĐSSĐ
---------	---------

Câu 1. Trong một đề tài nghiên cứu về bệnh A, người ta ghi lại tuổi của bệnh nhân mắc bệnh này, số liệu thống kê được trình bày trong bảng sau:

Độ tuổi	[15; 25)	[25; 35)	[35; 45)	[45; 55)	[55; 65)
Số bệnh nhân	10	12	14	9	5

- a) Cỡ mẫu là $n = 50$.
 b) Nhóm chứa một của mẫu số liệu là [55;65).
 c) Trung vị của mẫu số liệu thuộc nhóm [25;35).
 d) Trung vị của mẫu số liệu gần bằng 37,14.

Phương pháp giải:

- a) Cỡ mẫu bằng tổng tần số trong bảng số liệu.
 b) Nhóm chứa một có tần số lớn nhất trong bảng số liệu.
 c) Trung vị là giá trị chính giữa trong các giá trị sắp xếp theo thứ tự không giảm.

d) Công thức tính trung vị: $M_e = u_m + \frac{\frac{n}{2} - C}{n_m} \cdot (u_{m+1} - u_m)$.

Lời giải chi tiết:

a) **Đúng.** $n = 10 + 12 + 14 + 9 + 5 = 50$.

b) **Sai.** Nhóm chứa một là [35;45).

c) **Sai.** Ta có $\frac{n}{2} = 25$ nên trung vị là $M_e = \frac{x_{25} + x_{26}}{2} \in [35;45)$.

d) **Đúng.** $M_e = 35 + \frac{\frac{50}{2} - (10+12)}{14} \cdot (45 - 35) = \frac{260}{7} \approx 37,14$.

Câu 2. Cho hình chóp $S.ABCD$ có đáy $ABCD$ là hình vuông tâm O và $SA \perp (ABCD)$. Gọi M và N lần lượt là hình chiếu của điểm A trên các đường thẳng SB và SD .

a) $SA \perp AO$.

b) $AC \perp (SBD)$.

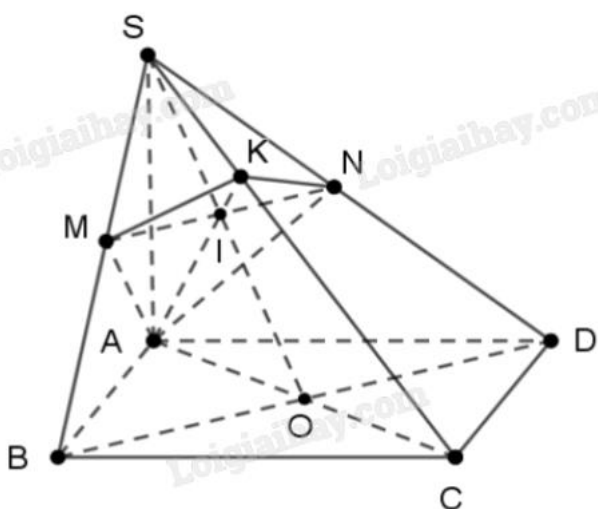
c) Đường thẳng AM không vuông góc với mặt phẳng (SBC) .

d) Gọi K là giao điểm của SC với mặt phẳng (AMN) . Khi đó tứ giác $AMNK$ có hai đường chéo vuông góc với nhau.

Phương pháp giải:

Áp dụng điều kiện để đường thẳng vuông góc với mặt phẳng; quan hệ song song và quan hệ vuông góc của đường thẳng và mặt phẳng.

Lời giải chi tiết:



a) **Đúng.** Vì $SA \perp (ABCD)$, mà $AO \subset (ABCD)$ nên $SA \perp AO$.

b) **Sai.** Giả sử $AC \perp (SBD)$, khi đó $AC \perp SO$. Điều đó vô lí vì $AC \perp SA$.

c) **Sai.** Vì $SA \perp (ABCD)$ nên $SA \perp BC$. Mặt khác, vì $ABCD$ là hình vuông nên $AB \perp BC$.

Ta có $\begin{cases} BC \perp AB \\ BC \perp SA \end{cases} \Rightarrow BC \perp (SAB) \Rightarrow BC \perp AM$.

Lại có $\begin{cases} BC \perp AM \\ SB \perp AM \end{cases} \Rightarrow AM \perp (SBC)$.

d) **Đúng.** Hai tam giác vuông SAB và SAD bằng nhau có các đường cao tương ứng là AM và AN nên $BM = DN$.

Mặt khác tam giác SBD cân tại đỉnh S nên $MN \parallel BD$.

Do $ABCD$ là hình vuông nên $AC \perp BD$, mà $SA \perp BD$ nên $BD \perp (SAC)$.

Vì $MN \parallel BD$ nên $MN \perp (SAC) \Rightarrow MN \perp AK$.

Phần III: Trắc nghiệm trả lời ngắn (2 điểm)

1) 7,2	2) 89	3) 7,2	4) 0,3
--------	-------	--------	--------

Câu 1. Năng lượng giải tỏa E của một trận động đất tại tâm địa chấn ở M độ Richtre được xác định bởi công thức $\log(E) = 11,4 + 1,5M$. Vào năm 1995, Thành phố X xảy ra một trận động đất 8 độ Richtre và năng lượng giải tỏa tại tâm địa chấn của nó gấp 14 lần trận động đất xảy ra tại thành phố Y vào năm 1997. Hỏi khi đó độ lớn của trận động đất tại thành phố Y là bao nhiêu độ Richtre (kết quả làm tròn đến hàng phần trăm).

Phương pháp giải:

Thay các giá trị từ đề bài vào công thức đã cho. Áp dụng quy tắc biến đổi phương trình logarit.

Lời giải chi tiết:

$$\text{Ta có } \log(E) = 11,4 + 1,5M \Rightarrow E = 10^{11,4+1,5M}.$$

$$\text{Năng lượng giải tỏa của trận động đất ở thành phố X là } E_X = 10^{11,4+1,5,8} = 10^{23,4}.$$

$$\text{Theo đề bài, ta có năng lượng giải tỏa của trận động đất ở thành phố Y là } E_Y = \frac{E_X}{14} = \frac{10^{23,4}}{14}.$$

Độ lớn của trận động đất ở thành phố Y là:

$$\log(E_Y) = 11,4 + 1,5M_Y \Rightarrow M = \frac{\log(E_Y) - 11,4}{1,5} = \frac{\log\left(\frac{10^{23,4}}{14}\right) - 11,4}{1,5} \approx 7,2 \text{ độ Richtre.}$$

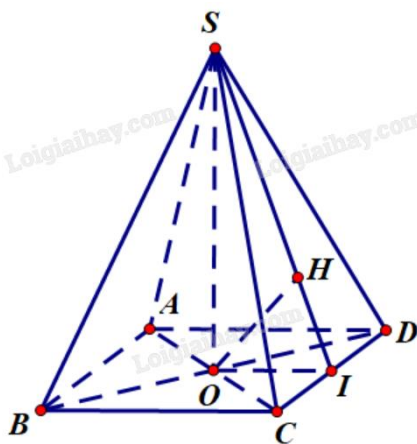
Đáp án: 7,2.

Câu 2. Kim tự tháp có hình dạng là một khối chóp tứ giác đều S.ABCD có độ dài cạnh đáy bằng 230 m, độ dài cạnh bên bằng 214 m. Tính khoảng cách từ tâm của đáy đến mặt bên của kim tự tháp (kết quả làm tròn đến hàng đơn vị).

Phương pháp giải:

Khoảng cách từ một điểm đến một mặt phẳng là khoảng cách từ hình chiếu vuông góc của điểm lên mặt phẳng tới điểm đó.

Lời giải chi tiết:



S.ABCD là chóp tứ giác đều nên ABCD là hình vuông.

Giả sử O là tâm hình vuông ABCD, khi đó $SO \perp (ABCD) \Rightarrow SO \perp CD$.

Gọi I là trung điểm của CD. Khi đó $OI \parallel AD$ (tính chất đường trung bình) và $CD \perp OI$.

Lấy H thuộc SI sao cho $OH \perp SI$.

Ta có $\begin{cases} CD \perp OI \\ CD \perp SO \end{cases} \Rightarrow CD \perp (SOI) \Rightarrow CD \perp OH.$

Mặt khác $\begin{cases} OH \perp SI \\ OH \perp CD \end{cases} \Rightarrow OH \perp (SCD) \Rightarrow d(O, (SCD)) = OH$ (do H thuộc (SCD)).

$$SO = \sqrt{SA^2 - AO^2} = \sqrt{SA^2 - \left(\frac{AC}{2}\right)^2} = \sqrt{214^2 - \left(\frac{230\sqrt{2}}{2}\right)^2} = \sqrt{19346} \text{ (m)}.$$

$$OH = \frac{1}{\sqrt{\frac{1}{SO^2} + \frac{1}{OI^2}}} = \frac{1}{\sqrt{\frac{1}{19346} + \frac{1}{\left(\frac{230}{2}\right)^2}}} \approx 89 \text{ (m)}.$$

Vậy khoảng cách từ tâm của đáy đến mặt bên của kim tự tháp xấp xỉ 89 mét.

Đáp án: 89.

Câu 3. Phòng vấn một số học sinh khối 11 về thời gian (giờ) ngủ của một buổi tối, thu được bảng số liệu sau:

Thời gian (Giờ)	[4; 5)	[5; 6)	[6; 7)	[7; 8)	[8; 9)
Số lượng	6	12	13	10	3

Hãy cho biết 75% học sinh khối 11 ngủ nhiều nhất bao nhiêu giờ?

Phương pháp giải:

Tìm tứ phân vị thứ ba.

Lời giải chi tiết:

Cỡ mẫu: $n = 6 + 12 + 13 + 10 + 3 = 44.$

Do $\frac{3n}{4} = 33$ nên $Q_3 = \frac{x_{33} + x_{34}}{2} \in [7; 8).$

$$Q_3 = 7 + \frac{\frac{3.44}{4} - (6 + 12 + 13)}{10} (8 - 7) = 7,2.$$

Vậy 75% học sinh khối 11 ngủ nhiều nhất 7,2 giờ.

Đáp án: 7,2.

Câu 4. Hai xạ thủ cùng bắn vào bia một cách độc lập với nhau. Xác suất bắn trúng bia của xạ thủ thứ nhất bằng $\frac{1}{2}$, xác suất bắn trúng bia của xạ thủ thứ hai bằng $\frac{1}{3}$. Tính xác suất của biến cố xạ thủ thứ nhất bắn trúng bia, xạ thủ thứ hai bắt trật bia (kết quả làm tròn đến hàng phần mười).

Phương pháp giải:

Áp dụng công thức nhân xác suất cho hai biến cố độc lập.

Lời giải chi tiết:

A: “Xạ thủ thứ nhất bắn trúng bia”. $P(A) = \frac{1}{2}$.

B: “Xạ thủ thứ hai bắn trúng bia”, \bar{B} : “Xạ thủ thứ hai bắn trật bia”. $P(\bar{B}) = 1 - P(B) = 1 - \frac{1}{3} = \frac{2}{3}$.

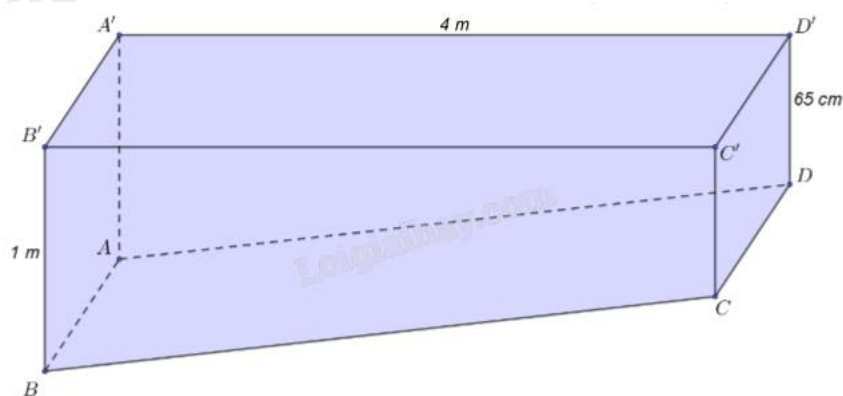
Vì hai xạ thủ cùng bắn vào bia một cách độc lập với nhau nên xác suất để xạ thủ thứ nhất bắn trúng bia, xạ thủ thứ hai bắn trật bia là $P(AB) = P(A).P(B) = \frac{1}{2} \cdot \frac{2}{3} = \frac{1}{3} \approx 0,3$.

Đáp án: 0,3.

Phần IV: Tự luận (3 điểm)

1) 5	2) 9	3) 4
------	------	------

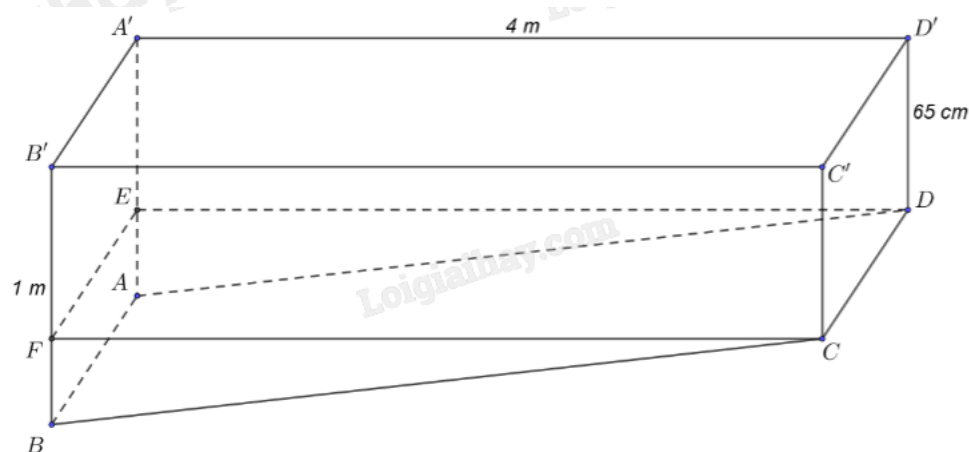
Câu 1. Bác Minh có một khối gỗ có kích thước như hình vẽ. Biết ABCD, A'B'C'D', A'B'BA, CDD'C' là các hình chữ nhật, A'D'DA, B'C'CB là các hình thang vuông. Bác Minh muốn làm đẹp khối gỗ đó bằng cách cắt khối gỗ theo mặt phẳng (P) đi qua C và song song với mặt phẳng (A'B'C'D'). Khi đó, bác Minh cần đặt mép BC của khối gỗ tạo với lưỡi cắt của máy cắt một góc bao nhiêu độ?



Phương pháp giải:

Dựng mặt phẳng (P) theo yêu cầu đề bài. Tính góc giữa (P) và (ABCD) bằng cách đưa về tính góc giữa hai đường thẳng thuộc hai mặt phẳng và vuông góc với giao tuyến của của hai mặt phẳng đó.

Lời giải chi tiết:



Dựng mặt phẳng hình chữ nhật (CDEF) song song với mặt phẳng (A'B'C'D') với E thuộc AA', F thuộc BB'.

Xét hai mặt phẳng (CDEF) và (ABCD) có giao tuyến là CD. Vì CF và CB cùng vuông góc với CD nên

$$(\text{CDEF}, \text{ABCD}) = (\text{CF}, \text{CB}) = \text{FCB}.$$

Ta có $BB' = 1 \text{ m} = 100 \text{ cm}$; $B'F = 65 \text{ cm}$; $BF = BB' - B'F = 100 - 65 = 35 \text{ cm}$; $CF = 4 \text{ m} = 400 \text{ cm}$.

Xét tam giác BCF vuông tại F, ta có $\tan \text{FCB} = \frac{BF}{FC} = \frac{35}{400} = \frac{7}{80} \Rightarrow \text{FCB} \approx 5^\circ$.

Vậy, bác Minh cần đặt mép BC của khối gỗ tạo với lưỡi cắt của máy cắt một góc xấp xỉ 5° .

Đáp án: 5.

Câu 2. Một người gửi tiết kiệm theo thẻ thức lãi suất kép với lãi suất 8,4%/năm. Giả sử lãi suất không thay đổi, hỏi sau ít nhất bao nhiêu năm người đó thu được số tiền gấp đôi số tiền ban đầu?

Phương pháp giải:

Áp dụng công thức tính lãi kép: $P = A(1+r)^n$.

Lời giải chi tiết:

Gọi A là số tiền ban đầu gửi tiết kiệm theo thẻ thức lãi suất kép với lãi suất 8,4%/năm.

Khi đó sau n năm số tiền thu được là $P = A(1+8,4\%)^n$.

Để thu được số tiền gấp đôi số tiền ban đầu thì

$$2A = A(1+8,4\%)^n \Leftrightarrow (1+8,4\%)^n = 2 \Leftrightarrow n = \log_{1+8,4\%} 2 \approx 8,59 \text{ (năm)}.$$

Vậy sau ít nhất 9 năm người đó thu được số tiền gấp đôi số tiền ban đầu.

Đáp án: 9.

Câu 3. Cho $x = a^2$, $\log_b x = 8$ với a, b là các số thực lớn hơn 1. Tính $\log_{\frac{a}{b^2}} x$.

Phương pháp giải:

Áp dụng các công thức biến đổi logarit, tính a theo b rồi thay vào biểu thức $\log_{\frac{a}{b^2}} x$ và rút gọn.

Lời giải chi tiết:

$\log_b x = 8 \Leftrightarrow x = b^8$, mà $x = a^2$ suy ra $a^2 = b^8 \Leftrightarrow a = b^4$ (vì $a > 1$).

$$\log_{\frac{a}{b^2}} x = \log_{\frac{b^4}{b^2}} x = \log_{b^2} x = \frac{1}{2} \log_b x = \frac{1}{2} \cdot 8 = 4.$$

Đáp án: 4.