

ĐỀ THI GIỮA HỌC KÌ II – Đề số 8**Môn: Toán học - Lớp 11****Bộ sách Chân trời sáng tạo****BIÊN SOẠN: BAN CHUYÊN MÔN LOIGIAIHAY.COM****Mục tiêu**

- Ôn tập lý thuyết giữa học kì II của chương trình sách giáo khoa Toán 11.
- Vận dụng linh hoạt lý thuyết đã học trong việc giải quyết các câu hỏi trắc nghiệm và tự luận Toán học.
- Tổng hợp kiến thức dạng hệ thống, dần trải tất cả các chương giữa học kì II – chương trình Toán 11.

Phần I: Câu trắc nghiệm nhiều phương án lựa chọn. Thí sinh trả lời từ câu 1 đến câu 12. Mỗi câu hỏi thí sinh chỉ chọn một phương án.

Câu 1. Với $a \neq 0$, $b \neq 0$ và m, n là các số nguyên thì

A. $a^m \cdot a^n = a^{m-n}$

B. $a^m \cdot a^n = a^{m \cdot n}$

C. $a^m \cdot a^n = a^{m+n}$

D. $a^m \cdot a^n = a^{\frac{m}{n}}$

Câu 2. Cho số thực a ($0 < a \neq 1$) và M, N là các số thực dương. Chọn khẳng định đúng trong các khẳng định sau:

A. $\log_a(MN) = \log_a M - \log_a N$

B. $\log_a(MN) = \log_a M \cdot \log_a N$

C. $\log_a(MN) = \log_a M - \log_a N$

D. $\log_a(MN) = \log_a M + \log_a N$

Câu 3. Trong các hàm số sau, hàm số nào sau đây là hàm số mũ?

A. $y = x^2$

B. $y = 2^x$

C. $y = x^\pi$

D. $y = \sqrt{x}$

Câu 4. Bất phương trình $\log_{0,3}(x-1) \leq \log_{0,3}(2x+1)$ có tập xác định là

A. $D = [1; +\infty)$

B. $D = \left(-\frac{1}{2}; +\infty\right)$

C. $D = (1; +\infty)$

D. $D = \left[-\frac{1}{2}; +\infty\right)$

Câu 5. Cho hàm số $y = \log_2 x$. Khẳng định nào sau đây đúng?

A. Hàm số đồng biến trên $(0; +\infty)$

B. Hàm số nghịch biến trên $(-\infty; 0)$

C. Hàm số đồng biến trên \mathbb{R}

D. Hàm số nghịch biến trên \mathbb{R}

Câu 6. Tìm dạng lũy thừa với số mũ hữu tỉ của biểu thức $\sqrt[3]{a^5 \sqrt[4]{a}}$ với $a > 0$.

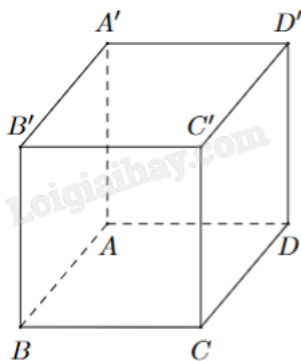
A. $a^{\frac{7}{4}}$

B. $a^{\frac{1}{4}}$

C. $a^{\frac{4}{7}}$

D. $a^{\frac{1}{7}}$

Câu 7. Cho hình hộp chữ nhật $ABCD.A'B'C'D'$ như hình vẽ bên. Cặp cạnh nào sau đây vuông góc với nhau nhưng không đồng phẳng?



A. $AB \perp AA'$

B. $AB \perp BB'$

C. $AB \perp CC'$

D. $AB \perp AD$

Câu 8. Cho hình chóp $S.ABC$ có đáy là tam giác vuông tại A và $SA \perp (ABC)$. Khẳng định nào sau đây là đúng?

A. $AB \perp (SAC)$

B. $AB \perp (SBC)$

C. $BC \perp (SAB)$

D. $BC \perp (SAC)$

Câu 9. Nếu một khối chóp có diện tích đáy là S và có chiều cao là h thì thể tích V của nó được tính theo công thức nào sau đây?

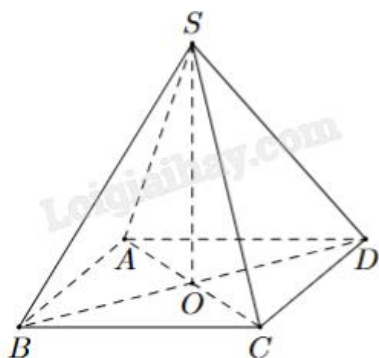
A. $V = Sh$

B. $V = \frac{1}{3}Sh$

C. $V = \frac{1}{6}Sh$

D. $V = \frac{2}{3}Sh$

Câu 10. Cho hình chóp tứ giác đều $S.ABCD$. Khẳng định nào sau đây là đúng?



A. $(SAC) \perp (SBD)$

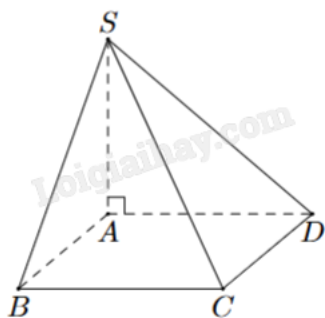
B. $(SAC) \perp (SCD)$

C. $(SAC) \perp (SAD)$

D. $(SAC) \perp (SAB)$

Câu 11. Cho hình chóp $S.ABCD$ có $ABCD$ là hình vuông cạnh a . $SA = 2a$ vuông góc với mặt đáy $(ABCD)$.

Khoảng cách từ điểm B đến mặt phẳng (SAD) là



A. a

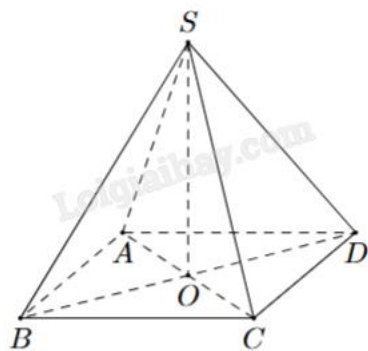
B. $2a$

C. $a\sqrt{3}$

D. $\frac{a}{3}$

Câu 12. Cho hình chóp $S.ABCD$ như hình bên. Có đáy $ABCD$ là hình chữ nhật. $SA = SC$ và $SB = SD$.

Khẳng định nào sau đây là đúng?



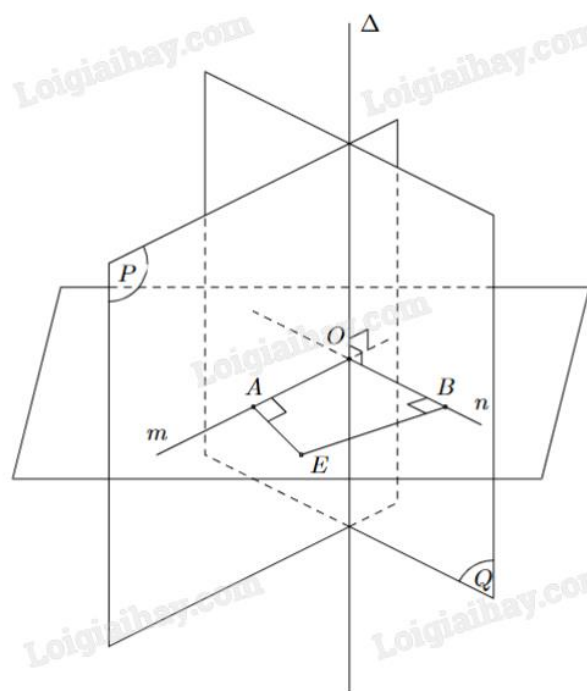
- A. $SO \perp (SAB)$
- B. $OC \perp (SBD)$
- C. $SO \perp (ABCD)$
- D. $AB \perp (SAB)$

Phần II: Câu trắc nghiệm đúng sai. Thí sinh trả lời câu 1, câu 2. Trong mỗi ý a), b), c), d) ở mỗi câu, thí sinh chọn đúng hoặc sai.

Câu 1. Cho bất phương trình $\log_{0,5}(2x + 1) \leq \log_{0,5}(3x)$ (1).

- a) Tập xác định $D = \left(-\frac{1}{2}; +\infty\right)$.
- b) Bất phương trình (1) $\Leftrightarrow 2x + 1 \geq 3x$.
- c) Tập nghiệm của bất phương trình (1) là $S = (0; 1]$.
- d) Số $x = \frac{1}{2}$ thuộc miền nghiệm của bất phương trình.

Câu 2. Cho hai mặt phẳng (P) và (Q) cắt nhau theo giao tuyến Δ như hình vẽ. Lấy một điểm O bất kì thuộc đường thẳng Δ . Gọi m, n là các đường thẳng đi qua O, tương ứng thuộc (P), (Q) và vuông góc với Δ .

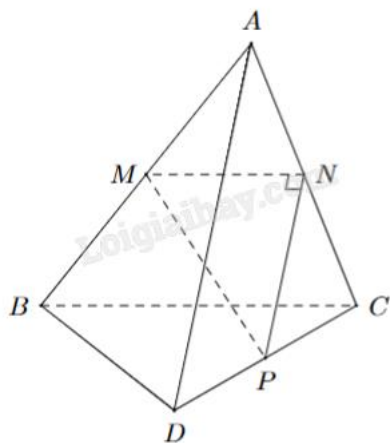


- a) Góc giữa hai mặt phẳng (P) và (Q) là góc giữa hai đường thẳng Δ và m .
- b) Góc giữa hai mặt phẳng (P) và (Q) là góc AOB (nếu $AOB < 90^\circ$) hoặc $180^\circ - AOB$ (nếu $90^\circ < AOB < 180^\circ$).
- c) Nếu $AOB = 90^\circ$ thì ta nói $(P) \perp (Q)$.
- d) Giả sử góc $AOB = 120^\circ$ thì ta nói góc giữa hai mặt phẳng (P) và (Q) là 120° .

Phần III: Câu trắc nghiệm trả lời ngắn. Thí sinh trả lời từ câu 1 đến câu 4.

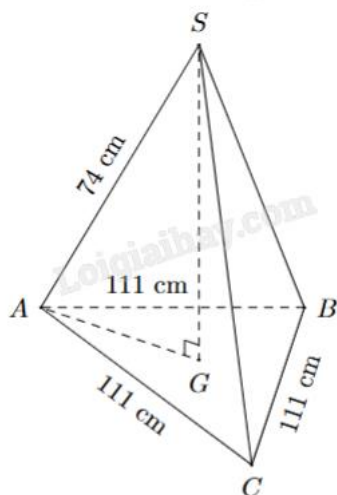
Câu 1. Trong một nghiên cứu, một nhóm học sinh được cho xem cùng một danh sách các loài động vật và được kiểm tra lại xem họ còn nhớ bao nhiêu phần trăm danh sách đó sau mỗi tháng. Giả sử sau t tháng, khả năng nhớ trung bình của nhóm học sinh đó được tính theo công thức $M(t) = 75 - 20\ln(t+1)$, $0 \leq t \leq 12$ (đơn vị: %). Hãy tính khả năng nhớ trung bình của nhóm học sinh đó sau 8 tháng (kết quả làm tròn đến hàng phần chục).

Câu 2. Cho tam giác MNP vuông tại N và một điểm A nằm ngoài mặt phẳng (MNP) . Lần lượt lấy các điểm B, C, D sao cho M, N, P tương ứng là trung điểm của AB, AC, CD (hình vẽ). Tính góc giữa hai đường thẳng AD và BC .



Câu 3. Trong nông nghiệp bèo hoa dâu được dùng làm phân bón, nó rất tốt cho cây trồng. Mới đây, các nhà khoa học Việt Nam đã phát hiện ra bèo hoa dâu có thể dùng để chiết xuất ra chất có tác dụng kích thích hệ miễn dịch và hỗ trợ điều trị bệnh ung thư. Bèo hoa dâu được thả nuôi trên mặt nước. Một người đã thả một lượng bèo hoa dâu chiếm 4% diện tích mặt hồ. Biết rằng cứ sau đúng một tuần bèo phát triển thành 3 lần số lượng đã có và giả sử tốc độ phát triển của bèo ở mọi thời điểm như nhau. Hỏi sau ít nhất bao nhiêu ngày bèo sẽ vừa phủ kín mặt hồ?

Câu 4. Một tripod (giá đỡ điện thoại, máy ảnh) được thiết kế và đặt như hình vẽ. Chiều cao của tripod là bao nhiêu?



Phần IV: Tự luận. Thí sinh trình bày lời giải từ câu 1 đến câu 3.

Câu 1. Khối lượng vi khuẩn của một mẻ nuôi cấy sau t giờ kể từ thời điểm ban đầu được cho bởi công thức $M(t) = 50 \cdot 1,06^t$ (g). Khối lượng vi khuẩn sau 24 giờ gấp bao nhiêu lần khối lượng vi khuẩn ban đầu (kết quả làm tròn đến hàng đơn vị)?

Câu 2. Độ pH của một dung dịch được tính theo công thức $\text{pH} = -\log x$, trong đó x là nồng độ ion H^+ của dung dịch đó tính bằng mol/L. Biết rằng độ pH của dung dịch A lớn hơn độ pH của dung dịch B là 0,6. Dung dịch B có nồng độ ion H^+ gấp bao nhiêu lần nồng độ ion H^+ của dung dịch A (làm tròn kết quả đến chữ số hàng đơn vị)?

Câu 3. Cho hình chóp S.ABCD có đáy ABCD là hình chữ nhật, $AB = 1$, $AD = \sqrt{3}$, tam giác SAB cân tại S và nằm trong mặt phẳng vuông góc với đáy, khoảng cách giữa AB và SC bằng $\frac{3}{2}$. Tính thể tích V của khối chóp S.ABCD (làm tròn kết quả đến hàng phần trăm).

----- Hết -----

**Phần I: Trắc nghiệm nhiều phương án lựa chọn (3 điểm)**

1) C	2) D	3) B	4) C	5) A	6) A
7) C	8) A	9) B	10) A	11) A	12) C

Câu 1. Với $a \neq 0$, $b \neq 0$ và m, n là các số nguyên thì

A. $a^m \cdot a^n = a^{m-n}$

B. $a^m \cdot a^n = a^{m \cdot n}$

C. $a^m \cdot a^n = a^{m+n}$

D. $a^m \cdot a^n = a^{\frac{m}{n}}$

Phương pháp giải:

Áp dụng tính chất lũy thừa.

Lời giải chi tiết:

$$a^m \cdot a^n = a^{m+n}.$$

Đáp án C.

Câu 2. Cho số thực a ($0 < a \neq 1$) và M, N là các số thực dương. Chọn khẳng định đúng trong các khẳng định sau:

A. $\log_a(MN) = \log_a M - \log_a N$

B. $\log_a(MN) = \log_a M \cdot \log_a N$

C. $\log_a(MN) = \log_a M - \log_a N$

D. $\log_a(MN) = \log_a M + \log_a N$

Phương pháp giải:

Áp dụng tính chất logarit.

Lời giải chi tiết:

$$\log_a(MN) = \log_a M + \log_a N.$$

Đáp án D.

Câu 3. Trong các hàm số sau, hàm số nào sau đây là hàm số mũ?

A. $y = x^2$

B. $y = 2^x$

C. $y = x^\pi$

D. $y = \sqrt{x}$

Phương pháp giải:

Hàm số mũ có dạng $y = a^x$.

Lời giải chi tiết:

$y = 2^x$ là hàm số mũ.

Đáp án B.

Câu 4. Bất phương trình $\log_{0,3}(x-1) \leq \log_{0,3}(2x+1)$ có tập xác định là

A. $D = [1; +\infty)$

B. $D = \left(-\frac{1}{2}; +\infty\right)$

C. $D = (1; +\infty)$

D. $D = \left[-\frac{1}{2}; +\infty\right)$

Phương pháp giải:

$y = \log_a x$ có tập xác định là $D = (0; +\infty)$.

Lời giải chi tiết:

$$\text{ĐKXD: } \begin{cases} x-1 > 0 \\ 2x+1 > 0 \end{cases} \Leftrightarrow \begin{cases} x > 1 \\ x > -\frac{1}{2} \end{cases} \Leftrightarrow x > 1. \text{ Vậy } D = (1; +\infty).$$

Đáp án C.

Câu 5. Cho hàm số $y = \log_2 x$. Khẳng định nào sau đây đúng?

A. Hàm số đồng biến trên $(0; +\infty)$

B. Hàm số nghịch biến trên $(-\infty; 0)$

C. Hàm số đồng biến trên \mathbb{R}

D. Hàm số nghịch biến trên \mathbb{R}

Phương pháp giải:

Hàm số $y = \log_a x$ đồng biến trên tập xác định nếu $a > 1$.

Lời giải chi tiết:

TXĐ: $D = (0; +\infty)$.

Vì $2 > 1$ nên $y = \log_2 x$ đồng biến trên TXĐ.

Đáp án A.

Câu 6. Tìm dạng lũy thừa với số mũ hữu tỉ của biểu thức $\sqrt[3]{a^5 \sqrt[4]{a}}$ với $a > 0$.

A. $a^{\frac{7}{4}}$

B. $a^{\frac{1}{4}}$

C. $a^{\frac{4}{7}}$

D. $a^{\frac{1}{7}}$

Phương pháp giải:

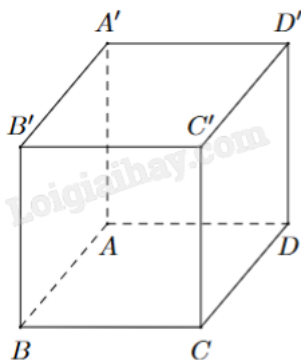
Áp dụng tính chất của lũy thừa $a^m \cdot a^n = a^{m+n}$; $(a^m)^n = a^{m \cdot n}$; $\sqrt[n]{a^m} = a^{\frac{m}{n}}$.

Lời giải chi tiết:

$$\sqrt[3]{a^5 \sqrt[4]{a}} = \sqrt[3]{a^5 a^{\frac{1}{4}}} = \sqrt[3]{a^{5+\frac{1}{4}}} = \sqrt[3]{a^{\frac{21}{4}}} = \sqrt[3]{a^{\frac{21}{4}}} = \left(a^{\frac{21}{4}}\right)^{\frac{1}{3}} = a^{\frac{21 \cdot 1}{4 \cdot 3}} = a^{\frac{7}{4}}.$$

Đáp án A.

Câu 7. Cho hình hộp chữ nhật ABCD.A'B'C'D' như hình vẽ bên. Cặp cạnh nào sau đây vuông góc với nhau nhưng không đồng phẳng?



A. $AB \perp AA'$

B. $AB \perp BB'$

C. $AB \perp CC'$

D. $AB \perp AD$

Phương pháp giải:

Xét từng cặp đường thẳng có cùng thuộc một mặt phẳng không.

Lời giải chi tiết:

AB và AA' có điểm chung là A nên loại đáp án A.

AB và BB' có điểm chung là B nên loại đáp án B.

AB và AD có điểm chung là A nên loại đáp án D.

AB và CC' không có điểm chung và chúng vuông góc với nhau.

Đáp án C.

Câu 8. Cho hình chóp S.ABC có đáy là tam giác vuông tại A và $SA \perp (ABC)$. Khẳng định nào sau đây là đúng?

A. $AB \perp (SAC)$

B. $AB \perp (SBC)$

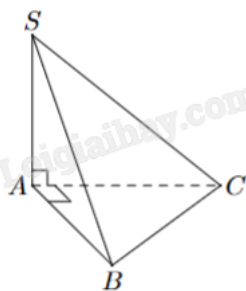
C. $BC \perp (SAB)$

D. $BC \perp (SAC)$

Phương pháp giải:

Đường thẳng vuông góc với mặt phẳng nếu nó vuông góc với hai đường thẳng cắt nhau thuộc mặt phẳng.

Lời giải chi tiết:



$$\text{Ta có } \begin{cases} SA \perp (ABC) \Rightarrow SA \perp AB \\ AC \perp AB \end{cases} \Rightarrow AB \perp (SAC).$$

Đáp án A.

Câu 9. Nếu một khối chóp có diện tích đáy là S và có chiều cao là h thì thể tích V của nó được tính theo công thức nào sau đây?

A. $V = Sh$

B. $V = \frac{1}{3}Sh$

C. $V = \frac{1}{6}Sh$

D. $V = \frac{2}{3}Sh$

Phương pháp giải:

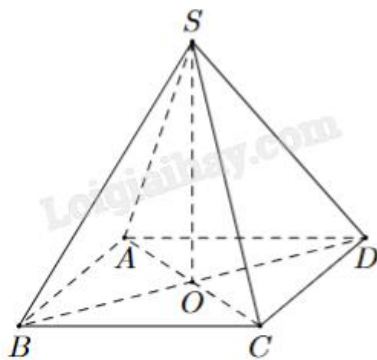
Áp dụng công thức tính thể tích của khối chóp.

Lời giải chi tiết:

Thể tích khối chóp có diện tích đáy là S và có chiều cao là h là $V = \frac{1}{3}Sh$.

Đáp án B.

Câu 10. Cho hình chóp tứ giác đều $S.ABCD$. Khẳng định nào sau đây là đúng?



- A. $(SAC) \perp (SBD)$
- B. $(SAC) \perp (SCD)$
- C. $(SAC) \perp (SAD)$
- D. $(SAC) \perp (SAB)$

Phương pháp giải:

Nếu một mặt phẳng chứa một đường thẳng vuông góc với một mặt phẳng khác thì hai mặt phẳng đó vuông góc với nhau.

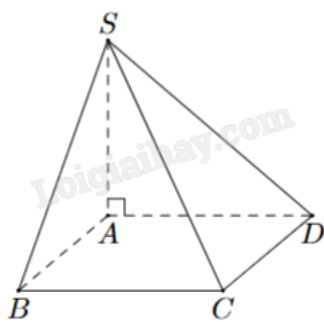
Lời giải chi tiết:

S.ABCD là chóp tứ giác đều nên ABCD là hình vuông. Do đó $AC \perp BD$.

Mặt khác, $SO \perp AC$. Ta có $\begin{cases} SO \perp AC \\ BD \perp AC \end{cases} \Rightarrow AC \perp (SBD) \Rightarrow (SAC) \perp (SBD)$.

Đáp án A.

Câu 11. Cho hình chóp S.ABCD có ABCD là hình vuông cạnh a. $SA = 2a$ vuông góc với mặt đáy (ABCD). Khoảng cách từ điểm B đến mặt phẳng (SAD) là



- A. a
- B. 2a
- C. $a\sqrt{3}$
- D. $\frac{a}{3}$

Phương pháp giải:

Tìm hình chiếu vuông góc của B lên (SAD) rồi tính khoảng cách từ B đến hình chiếu đó.

Lời giải chi tiết:

Ta có $\begin{cases} SA \perp (ABCD) \Rightarrow SA \perp AB \\ AD \perp AB \end{cases} \Rightarrow AB \perp (SAD).$

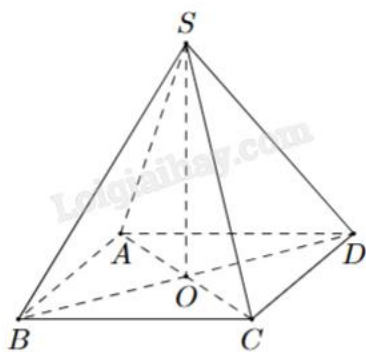
Do đó, A là hình chiếu vuông góc của B lên (SAD).

Khoảng cách từ B đến (SAD) là $AB = a$.

Đáp án A.

Câu 12. Cho hình chóp S.ABCD như hình bên. Có đáy ABCD là hình chữ nhật. $SA = SC$ và $SB = SD$.

Khẳng định nào sau đây là đúng?



A. $SO \perp (SAB)$

B. $OC \perp (SBD)$

C. $SO \perp (ABCD)$

D. $AB \perp (SAB)$

Phương pháp giải:

Đường thẳng vuông góc với mặt phẳng nếu nó vuông góc với hai đường thẳng cắt nhau thuộc mặt phẳng.

Lời giải chi tiết:

O là tâm hình chữ nhật ABCD nên O là trung điểm của AC và BD.

Theo giả thiết, các tam giác SAC và SBD cân tại S nên SO vừa là đường trung tuyến, vừa là đường cao của hai tam giác.

Suy ra $\begin{cases} SO \perp AC \\ SO \perp BD \end{cases} \Rightarrow SO \perp (ABCD).$

Đáp án C.

Phần II: Trắc nghiệm đúng sai (2 điểm)

1) SSĐĐ	2) SĐĐS
---------	---------

Câu 1. Cho bất phương trình $\log_{0,5}(2x + 1) \leq \log_{0,5}(3x)$ (1).

a) Tập xác định $D = \left(-\frac{1}{2}; +\infty\right)$.

b) Bất phương trình (1) $\Leftrightarrow 2x + 1 \geq 3x$.

c) Tập nghiệm của bất phương trình (1) là $S = (0; 1]$.

d) Số $x = \frac{1}{2}$ thuộc miền nghiệm của bất phương trình.

Phương pháp giải:

Với $0 < a < 1$, ta có: $\log_a x \leq \log_a y \Leftrightarrow \begin{cases} x > 0 \\ y > 0 \\ x \geq y \end{cases}$.

Lời giải chi tiết:

a) Sai. ĐKXD: $\begin{cases} 2x + 1 > 0 \\ 3x > 0 \end{cases} \Leftrightarrow \begin{cases} x > -\frac{1}{2} \\ x > 0 \end{cases} \Leftrightarrow x > 0$. Vậy tập xác định là $D = (0; +\infty)$.

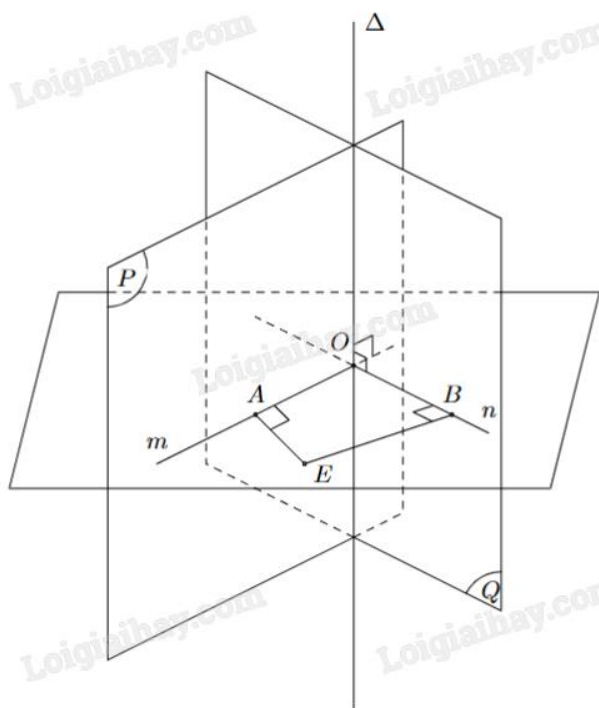
b) Sai. $\log_{0,5}(2x + 1) \leq \log_{0,5}(3x) \Leftrightarrow 2x + 1 \geq 3x$ (vì $0 < 0,5 < 1$).

c) Đúng. $\log_{0,5}(2x + 1) \leq \log_{0,5}(3x) \Leftrightarrow 2x + 1 \geq 3x \Leftrightarrow x \leq 1$.

Kết hợp với ĐKXD, ta được tập nghiệm là $S = (0; 1]$.

d) Đúng. Số $x = \frac{1}{2}$ thuộc miền nghiệm của bất phương trình.

Câu 2. Cho hai mặt phẳng (P) và (Q) cắt nhau theo giao tuyến Δ như hình vẽ. Lấy một điểm O bất kì thuộc đường thẳng Δ . Gọi m, n là các đường thẳng đi qua O, tương ứng thuộc (P), (Q) và vuông góc với Δ .



a) Góc giữa hai mặt phẳng (P) và (Q) là góc giữa hai đường thẳng Δ và m.

b) Góc giữa hai mặt phẳng (P) và (Q) là góc AOB (nếu $AOB < 90^\circ$) hoặc $180^\circ - AOB$ (nếu $90^\circ < AOB < 180^\circ$).

c) Nếu $AOB = 90^\circ$ thì ta nói $(P) \perp (Q)$.

d) Giả sử góc $AOB = 120^\circ$ thì ta nói góc giữa hai mặt phẳng (P) và (Q) là 120° .

Phương pháp giải:

Áp dụng quy tắc xác định góc giữa hai mặt phẳng. Quy ước góc giữa hai mặt phẳng có số đo từ 0 đến 90 độ.

Lời giải chi tiết:

a) Sai. Ta có
$$\begin{cases} (P) \cap (Q) = \Delta \\ m \perp \Delta, m \subset (P) \Rightarrow ((P), (Q)) = (m, n) \\ n \perp \Delta, n \subset (Q) \end{cases}$$

b) Đúng. Góc giữa hai mặt phẳng (P) và (Q) là góc giữa hai đường thẳng m và n, hay góc AOB (nếu $AOB < 90^\circ$) hoặc $180^\circ - AOB$ (nếu $90^\circ < AOB < 180^\circ$).

c) Đúng. Nếu $AOB = 90^\circ$ thì ta nói $(P) \perp (Q)$.

d) Sai. Giả sử góc $AOB = 120^\circ$ thì ta nói góc giữa hai mặt phẳng (P) và (Q) là $180^\circ - 120^\circ = 60^\circ$.

Phần III: Trắc nghiệm trả lời ngắn (2 điểm)

1) 31,1	2) 90	3) 21	4) 37
---------	-------	-------	-------

Câu 1. Trong một nghiên cứu, một nhóm học sinh được cho xem cùng một danh sách các loài động vật và được kiểm tra lại xem họ còn nhớ bao nhiêu phần trăm danh sách đó sau mỗi tháng. Giả sử sau t tháng, khả năng nhớ trung bình của nhóm học sinh đó được tính theo công thức $M(t) = 75 - 20\ln(t+1)$, $0 \leq t \leq 12$ (đơn vị: %). Hãy tính khả năng nhớ trung bình của nhóm học sinh đó sau 8 tháng (kết quả làm tròn đến hàng phần chục).

Phương pháp giải:

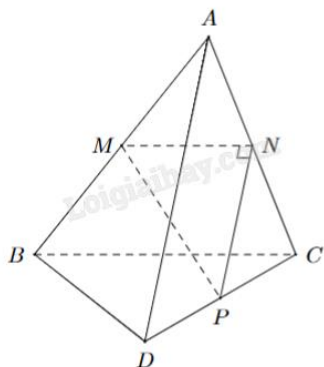
Tính $M(8)$ (thay $t = 8$ vào công thức đề bài cho và tính giá trị).

Lời giải chi tiết:

Khả năng nhớ trung bình của nhóm học sinh đó sau 8 tháng là $M(8) = 75 - 20\ln(8+1) \approx 31,1\%$.

Đáp án: 31,1.

Câu 2. Cho tam giác MNP vuông tại N và một điểm A nằm ngoài mặt phẳng (MNP). Lần lượt lấy các điểm B, C, D sao cho M, N, P tương ứng là trung điểm của AB, AC, CD (hình vẽ). Tính góc giữa hai đường thẳng AD và BC.



Phương pháp giải:

Nếu $a \parallel c$, $b \parallel d$ thì $(a,b) = (c,d)$.

Lời giải chi tiết:

Áp dụng tính chất của đường trung bình trong tam giác, ta có $NP \parallel AD, MN \parallel BC$.

Vậy $(AD, BC) = (NP, MN) = MNP = 90^\circ$.

Đáp án: 90.

Câu 3. Trong nông nghiệp bèo hoa dâu được dùng làm phân bón, nó rất tốt cho cây trồng. Mới đây, các nhà khoa học Việt Nam đã phát hiện ra bèo hoa dâu có thể dùng để chiết xuất ra chất có tác dụng kích thích hệ miễn dịch và hỗ trợ điều trị bệnh ung thư. Bèo hoa dâu được thả nuôi trên mặt nước. Một người đã thả một lượng bèo hoa dâu chiếm 4% diện tích mặt hồ. Biết rằng cứ sau đúng một tuần bèo phát triển thành 3 lần số lượng đã có và giả sử tốc độ phát triển của bèo ở mọi thời điểm như nhau. Hỏi sau ít nhất bao nhiêu ngày bèo sẽ vừa phủ kín mặt hồ?

Phương pháp giải:

Lập công thức tính diện tích bèo theo thời gian, áp dụng kiến thức về hàm số mũ.

Lời giải chi tiết:

Giả sử mặt hồ có diện tích là S . Diện tích bèo hoa dâu thả ban đầu là $4\% \cdot S$

Sau 1 tuần, diện tích bèo hoa dâu là $4\% \cdot S \cdot 3$.

Sau n tuần, diện tích bèo hoa dâu là $4\% \cdot S \cdot 3^n$.

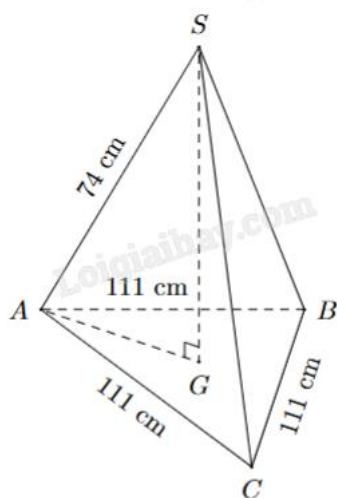
Để bèo hoa dâu phủ kín mặt hồ, ta có phương trình:

$$4\% \cdot A \cdot 3^n = A \Leftrightarrow 3^n = 25 \Leftrightarrow n = \log_3 25 \text{ (tuần)}.$$

Vậy sau ít nhất $7 \cdot \log_3 25 \approx 21$ ngày, bèo sẽ vừa phủ kín mặt hồ.

Đáp án: 21.

Câu 4. Một tripod (giá đỡ điện thoại, máy ảnh) được thiết kế và đặt như hình vẽ. Chiều cao của tripod là bao nhiêu?



Phương pháp giải:

Áp dụng tính chất trọng tâm, định lý Pythagore.

Lời giải chi tiết:

Tripod có dạng khối chóp tam giác đều S.ABC. Khi đó, chiều cao tripod là SG, với G là trọng tâm tam giác ABC.

Đường trung tuyến đồng thời là đường cao của tam giác đều ABC cạnh 111 cm có độ dài là $111 \cdot \frac{\sqrt{3}}{2}$ (cm)

$$\text{nên } AG = \frac{2}{3} \cdot 111 \cdot \frac{\sqrt{3}}{2} = 37\sqrt{3} \text{ (cm).}$$

$$\text{Xét tam giác SAG vuông tại G có: } SG = \sqrt{SA^2 - AG^2} = \sqrt{74^2 - (37\sqrt{3})^2} = 37 \text{ (cm).}$$

Đáp án: 37.

Phần IV: Tự luận (3 điểm)

1) 4	2) 4	3) 1,73
------	------	---------

Câu 1. Khối lượng vi khuẩn của một mẻ nuôi cấy sau t giờ kể từ thời điểm ban đầu được cho bởi công thức $M(t) = 50 \cdot 1,06^t$ (g). Khối lượng vi khuẩn sau 24 giờ gấp bao nhiêu lần khối lượng vi khuẩn ban đầu (kết quả làm tròn đến hàng đơn vị)?

Phương pháp giải:

$$\text{Tính } \frac{M(24)}{M(0)}.$$

Lời giải chi tiết:

Khối lượng vi khuẩn ở thời điểm ban đầu là $M(0) = 50 \cdot 1,06^0 = 50$ (g).

Khối lượng vi khuẩn sau 24 giờ là $M(24) = 50 \cdot 1,06^{24}$ (g).

Khối lượng vi khuẩn sau 24 giờ gấp $\frac{50 \cdot 1,06^{24}}{50} \approx 4$ lần khối lượng vi khuẩn ban đầu.

Đáp án: 4.

Câu 2. Độ pH của một dung dịch được tính theo công thức $\text{pH} = -\log x$, trong đó x là nồng độ ion H^+ của dung dịch đó tính bằng mol/L. Biết rằng độ pH của dung dịch A lớn hơn độ pH của dung dịch B là 0,6.

Dung dịch B có nồng độ ion H^+ gấp bao nhiêu lần nồng độ ion H^+ của dung dịch A (làm tròn kết quả đến chữ số hàng đơn vị)?

Phương pháp giải:

$$\text{Áp dụng các công thức biến đổi logarit: } \log_a b = x \Leftrightarrow b = a^x; \log_a \frac{x}{y} = \log_a x - \log_a y.$$

Lời giải chi tiết:

Gọi độ pH của dung dịch A là pH_A , độ pH của dung dịch B là pH_B ; nồng độ ion H^+ của dung dịch A là

x_A , nồng độ ion H^+ của dung dịch B là x_B .

Theo giả thiết:

$$pH_A - pH_B = 0,6 \Leftrightarrow -(\log x_A - \log x_B) = 0,6 \Leftrightarrow \log x_B - \log x_A = 0,6$$

$$\Leftrightarrow \log \frac{x_B}{x_A} = 0,6 \Leftrightarrow \frac{x_B}{x_A} = 10^{0,6} \approx 4.$$

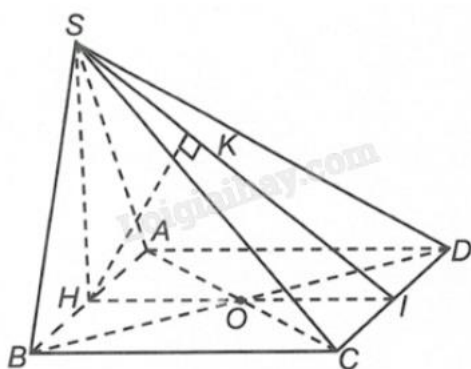
Đáp án: 4.

Câu 3. Cho hình chóp S.ABCD có đáy ABCD là hình chữ nhật, $AB = 1$, $AD = \sqrt{3}$, tam giác SAB cân tại S và nằm trong mặt phẳng vuông góc với đáy, khoảng cách giữa AB và SC bằng $\frac{3}{2}$. Tính thể tích V của khối chóp S.ABCD (làm tròn kết quả đến hàng phần trăm).

Phương pháp giải:

Xác định đoạn thẳng thể hiện khoảng cách giữa AB và SC. Từ đó, áp dụng hệ thức lượng trong tam giác vuông để tìm chiều cao khối chóp và tính thể tích.

Lời giải chi tiết:



Gọi H, I lần lượt là trung điểm của AB, CD. Kẻ $HK \perp SI$.

SH vừa là đường cao, vừa là đường trung tuyến của tam giác cân SAB, suy ra $SH \perp AB$.

Mà $(SAB) \perp (ABCD)$, $(SAB) \cap (ABCD) = AB$ nên $SH \perp (ABCD) \Rightarrow SH \perp CD$.

$$\text{Ta có } \begin{cases} SH \perp CD \\ HI \perp CD \end{cases} \Rightarrow CD \perp (SHI) \Rightarrow CD \perp HK.$$

$$\text{Mặt khác } \begin{cases} HK \perp SI \\ HK \perp CD \end{cases} \Rightarrow HK \perp (SCD).$$

Vì $CD \parallel AB$ nên $d(AB, DC) = d(AB, (SCD)) = d(H, (SCD)) = HK$.

$$\text{Ta có } HK = \frac{3}{2}, HI = AD = \sqrt{3}.$$

Xét tam giác vuông SHI vuông tại H có đường cao HK:

$$\frac{1}{HK^2} = \frac{1}{HS^2} + \frac{1}{HI^2} \Leftrightarrow \frac{1}{HS^2} = \frac{1}{HK^2} - \frac{1}{HI^2} = \frac{1}{\left(\frac{3}{2}\right)^2} - \frac{1}{(\sqrt{3})^2} = \frac{1}{9} \Leftrightarrow HS = 3.$$

$$\text{Thể tích khối chóp là } V_{S.ABCD} = \frac{1}{3} \cdot SH \cdot S_{ACBD} = \frac{1}{3} \cdot SH \cdot AB \cdot AD = \frac{1}{3} \cdot 3 \cdot 1 \cdot \sqrt{3} = \sqrt{3} \approx 1,73.$$

Đáp án: 1,73.